

## TARTMA ETKİNLİK ÇALIŞMASI 2



3 kg



5 kg




4 kg



6 kg

Yukarıda verilen ürünlerin ağırlıkları altlarında yazmaktadır. Aşağıdaki terazilerin ağırlıklarını ölçerek üzerine yazalım



Aşağıda verilen sebzeleri terazimize öyle yerleştirelim ki iki tarafın kilogramı da eşit olsun.



Patates 2 kg



Domates 3 kg



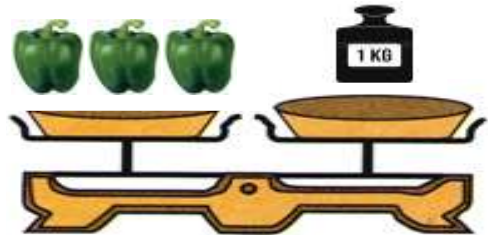
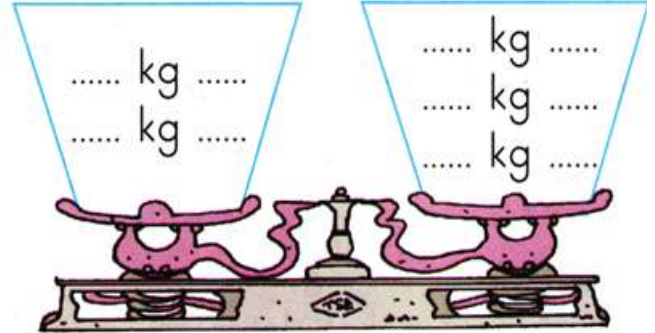
Balık 1 kg



Tavuk 5 kg



Peynir 2 kg



..... Biber

