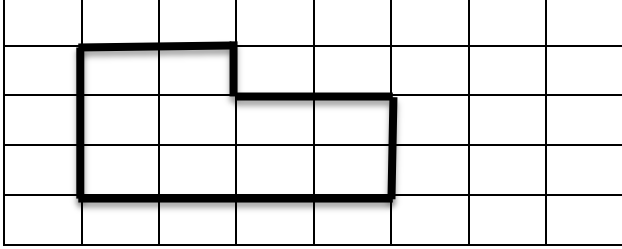



## Çevre -1

Düzlem üzerindeki bir şekli sınırlayan çizgiye çevre denir. Bir şeklin çevre uzunluğunu bulmak için tüm kenarların uzunluğu toplanır.

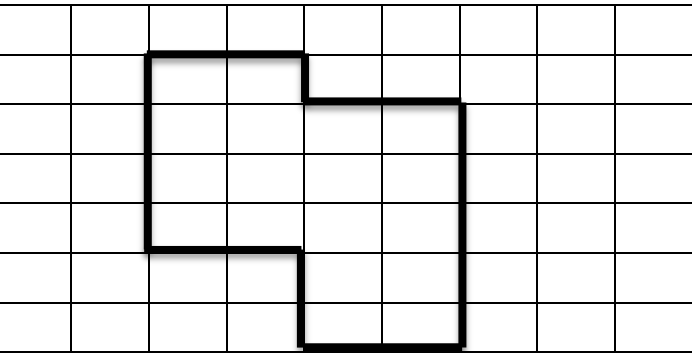
(1 birim )



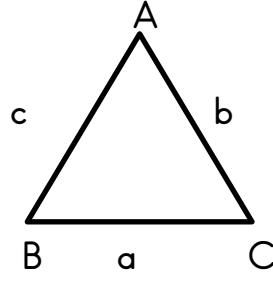
Çevre = 14 birim



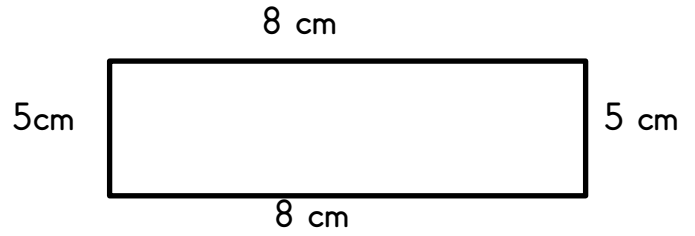
Çevre : .....birim



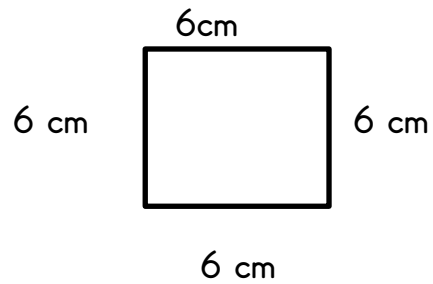
Çevre: .....birim



$a = 5 \text{ cm}$   $b = 6 \text{ cm}$   $c = 5 \text{ cm}$  olduğuna göre üçgenin çevresi kaç cm'dir?



Verilenlere göre çevresi kaç cm'dir?



Çevresi kaç cm'dir?