





ADI SOYADI:

Toplama ve çıkarma işlemlerini yapalım

$16 + 78 =$ _____	$33 + 18 =$ _____		$54 + 28 =$ _____
$23 + 28 =$ _____	$43 + 28 =$ _____		$36 + 16 =$ _____
$64 + 19 =$ _____	$63 + 29 =$ _____		$13 + 39 =$ _____
$15 + 79 =$ _____	$47 + 35 =$ _____		$77 + 16 =$ _____
$12 + 69 =$ _____	$68 + 28 =$ _____		$57 + 27 =$ _____

$24 + 38 =$ _____	$65 + 34 =$ _____		$49 + 17 =$ _____
$24 + 58 =$ _____	$49 + 19 =$ _____		$38 + 16 =$ _____
$58 + 17 =$ _____	$34 + 57 =$ _____		$19 + 29 =$ _____
$78 + 22 =$ _____	$48 + 37 =$ _____		$15 + 49 =$ _____
$39 + 33 =$ _____	$25 + 28 =$ _____		$38 + 48 =$ _____

$98 - 72 =$ _____	$63 - 24 =$ _____		$83 - 17 =$ _____
$93 - 24 =$ _____	$78 - 28 =$ _____		$75 - 63 =$ _____
$91 - 85 =$ _____	$65 - 42 =$ _____		$83 - 63 =$ _____
$65 - 18 =$ _____	$95 - 24 =$ _____		$71 - 36 =$ _____
$94 - 55 =$ _____	$44 - 34 =$ _____		$66 - 64 =$ _____

$72 - 25 =$ _____	$95 - 38 =$ _____		$89 - 51 =$ _____
$92 - 28 =$ _____	$72 - 24 =$ _____		$71 - 25 =$ _____
$88 - 47 =$ _____	$96 - 79 =$ _____		$73 - 44 =$ _____
$82 - 49 =$ _____	$62 - 24 =$ _____		$92 - 35 =$ _____
$68 - 59 =$ _____	$44 - 26 =$ _____		$46 - 28 =$ _____

İfadelerle sonuçları eşleştirelim

22 nin 14 fazlası

34 ün 45 fazlası

98 in 65 eksigi

54 ün 31 eksigi

18 in 25 fazlası

61 in 39 eksigi

23 ün 71 fazlası

79

94

22

36

33

23

43

32 nin 20 fazlası

46 nin 10 eksigi

84 ün 68 eksigi

55 in 42 fazlası

40 in 56 fazlası

71 in 34 eksigi

90 in 41 eksigi

37

96

16

49

36

97

52

