


1. 1. Gökyüzünde süzülen kocaman bir uçurtma.
2. Hep bir uçurtması olsun istemişti.
3. Sonunda hayalleri gerçekleşti, görkemli bir uçurtması vardı artık.
4. Gökyüzünde uçarken kuşlar kadar özgür, uçaklar kadar hızlı olmalıydı uçurtması.
Yukarıdaki cümleler nasıl sıralanırsa anlamlı bir paragraf oluşur?
- A) 2 - 3 - 4 - 1
B) 2 - 1 - 4 - 3
C) 3 - 2 - 1 - 4

2. **Aşağıdaki sözcüklerin hangisinin aldığı ekten dolayı anlamı **değişmiştir**?**
- A) Şekerci
B) Çiçekler
C) Sokakta

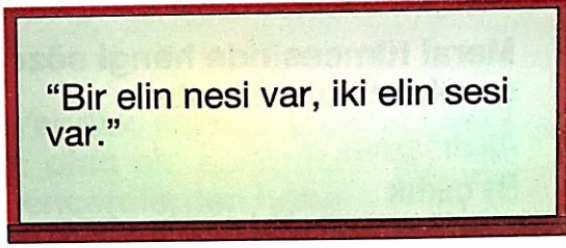
3. **"Gitmek" sözcüğünü hangi öğrenci cümlesinde farklı bir anlamda kullanmıştır?**

- A)  Annem İzmir'e gitti.
- B)  Babam işe gitti.
- C)  Bu kitap çok hoşuma gitti.

4. **"Bakmak" sözcüğü hangi cümlede farklı bir anlamda kullanılmıştır?**

- A)  Pencereden bakıyordu.
- B)  Annem giderse bize kim bakacak?
- C)  Dürbünle gökyüzüne bakıyordu.

5.



Tahtaya yazılı atasözüyle anlatılmak istenen aşağıdakilerden hangisidir?

- A) Yardımlaşmanın önemi
- B) İki elin daha fazla ses çıkaracağı
- C) Bir elle iş yapılamayacağı

6.

"Halam, akşam yemeği marmarna yaptı." **cümlesindeki boşluğa aşağıdaki sözcüklerden hangisinin yazılması uygundur?**

- A) için
- B) ama
- C) çünkü

7.

"Eyvah! İp koptu. Aşağıya düşüyorum." **tümcesindeki "eyvah" sözcüğü ne belirtiyor?**

- A) Kızma
- B) Şaşkınlık
- C) Korku ve endişe

8.



Meral

"Sınıfın kapısından dışarıya önce öğretmenimiz çıktık, sonra da biz çıktık."

Meral tümcesinde hangi sözcüğü gereksiz kullanmıştır?

- A) dışarıya
- B) çıktık
- C) öğretmenimiz

9.

1 Havalar çok sıcaktı.

2 Bana çok sıcak davrandı.

3 Yemekleri çok sıcak yememeliyiz.

Yukarıdaki numaralı cümlelerin hangisinde "sıcak" sözcüğü cümleye farklı bir anlam katmıştır?

- A) 1
- B) 2
- C) 3

10.



Simit kelimesine aşağıdaki eklerden hangisi getirilirse simit kelimesi, simit satan biri anlamını kazanır?

- A) -lik B) -siz C) -ci

11.

“Acı” sözcüğü, şekillerle eşleştirilen cümlelerin hangisinde farklı bir anlamda kullanılmıştır?

- ☆ Ayrılık acısı beni çabuk ihtiyarlattı.
 Δ Bu yemek çok acı, yemek istemiyorum.
 □ Biberler çok acıymış, ağzım yandı.

- A) ☆ B) Δ C) □

12. Aşağıdaki sözcük çiftlerinden hangisi anlam ilişkisi bakımından diğerlerinden farklıdır?

- A) Tutsak → Esir
 B) Özen → İtina
 C) Sert → Yumuşak




13. Aşağıdaki sözcük ikilisinden hangisi, bir yönüyle diğerlerinden farklıdır?

- A) Var → Yok
 B) Büyük → İri
 C) Üst → Alt

14.



Yukarıdaki vagonlara yazılı olan sözcükler, sözlükteki sırasına göre dizilip trenin lokomotifine bağlanacaktır. **Hangi vagona yazılı sözcüklerin sözcük sırası doğrudur?**



15.



Merve

İnsanların verimli olabilmeleri beslenmelerine dikkat etmeleri gerekir.

Merve'nin cümlesindeki boşluğa aşağıdaki sözcüklerden hangisi yazılabilir?

A) ama B) fakat C) için

16.



Öğretmenin verdiği bilgiye göre, aşağıdaki sözcüklerin hangisi aldığı ek yardımıyla yeni bir anlam kazanmıştır?

- A) Evde
B) Kiracı
C) Kalemler

17.

Yandaki kapağa yazılı olan ek, aşağıdaki tencerelerden hangisine yazılı olan kelimeye eklenirse yeni anlamda bir kelime oluşmaz?



- A) B) C)

18.



Çocuklar, aşağıdaki söz gruplarından hangisi "özlem duyulan birinin gelmesini beklemek" anlamında kullanılabilir?

- A) yol gözlemek
B) yol vermek
C) yol almak

19.



1. ve 2. soruyu yukarıdaki takvime göre cevaplayınız.

1. Yukarıdaki takvimle ilgili verilen bilgilerden hangisi **yanlıştır**?
- A) Mayıs ayında 23 gün okula gideriz.
B) Perşembe günleri yüzme kursuna giden bir çocuk mayıs ayında 4 defa kursa gitmiştir.
C) Mayıs ayının son günü cumadır.

20. 2. "Mert'in doğum gününe 1 hafta 2 gün vardır."

Yukarıdaki konuşmayı Mert'in ablası yapmıştır. Bugün günlerden 8 Mayıs ise Mert'in doğum gününün tarihi nedir?

- A) 15 Mayıs B) 16 Mayıs C) 17 Mayıs

21.

Aşağıdaki saatlerden hangisi dijital saatte 15.30 olarak okunur?

A)



B)



C)



22.

Sepetimde 2 düzine yumurta vardır.



Sezer teyze sepetindeki yumurtaların **çeyreğini** satmıştır. **Geriye** kaç tane yumurtası kalmıştır?

- A) 6 B) 18 C) 15

23.



Yukarıdaki şekillerin benzedikleri geometrik şekillerin isimleri sırasıyla hangi seçenekte verilmiştir?

- A) Küre - koni - küp - silindir
B) Küre - silindir - küp - koni
C) Küp - koni - kare prizma - silindir

24.

Başlangıç saati



Bitiş Saati



Yusuf 'un izlediği belgeselin başlangıç ve bitiş saatleri verilmiştir. Buna göre belgesel ne kadar sürmüştür?

A) 2 saat B) 2 buçuk saat C) 3 saat

25. Aşağıdaki sayılardan hangisi iki eş parçaya **ayrılmaz**?

A)

3

B)

6

C)

8

26.



Yandaki tencerenin **çeyreği** 2 bardak su almaktadır.

Yukarıdaki bilgilere göre 1 tencere kaç bardak su alır?

A) 8 B) 4 C) 6

27.



Samet **en yakın onluğu** 50 olan topları potaya basket atmıştır.

Samet attığı her basket için **2 puan** kazanmıştır. Buna göre Samet toplam kaç puan kazanmıştır?

A) 4 B) 8 C) 10

28.



Kumbaramda 4 tane 50 kuruş, 7 tane 1 liram var.

Büşra'nın kumbarasında 12 lira olabilmesi için kaç tane daha 50 kuruş atması gerekir?

A) 3 B) 5 C) 6

29.

En Küçük Sayı	Onluk	En Büyük Sayı
?	50	
	70	?

Tabloda verilen onluklara yuvarlanabilen en küçük ve en büyük sayılar yazılacaktır. Yukarıda verilen bilgilere göre **soru işareti** yerine yazılabilecek sayıların **farkı** kaçtır?

- A) 23 B) 29 C) 24

30.



Manavdan 2 kilogram domates ve 3 kilogram patates alırsam manava kaç lira ederim?

- A) 29 B) 30 C) 31

31.

$$\text{28} + \text{?} + \text{16} = \text{60}$$

Yukarıdaki toplama işlemine göre **soru işareti** olan yere hangi sayı yazılmalıdır?

- A) 44 B) 14 C) 16

32.



Birgül'ün cebinde yukarıdaki miktar kadar parası vardır. Birgül tanesi 3 TL olan kalemlerden kaç tane satın alabilir?

- A) 8 B) 9 C) 10

33.



Etek
35 lira

Gömlek
23 lira

Gamze'nin cebinde 2 tane 20 lira vardır. Gamze etek ve gömleği alabilmesi için kaç liraya **ihtiyacı** vardır?

- A) 40 B) 8 C) 18

34.

- 8 yarım, 18 çeyrekten oluşur.
 7 bütün, 14 yarım yapar.
 8 çeyrek, 2 bütün yapar.

Doğru ifadelerin başına "D" yanlış ifadelerin başına "Y" yazarsak görünüm nasıl olur?

- A)


Y
D
D

 B)


Y
Y
D

 C)


D
D
D

35.  Yandaki saati hangi öğrenci doğru okumuştur?

- A)  İkiye çeyrek var.
- B)  İkiyi çeyrek geçiyor.
- C)  Üçü çeyrek geçiyor.

36.  Babam Mayıs ayında İstanbul'a çalışmaya gitti. 8 ay sonra geri döndü.

- Çocuğun verdiği bilgilere göre aşağıdakilerden hangisi **yanlıştır**?
- A) Babası ilkbahar mevsiminde İstanbul'a gitmiştir.
- B) Babası Ocak ayında geri dönmüştür.
- C) Babası sonbahar mevsiminde dönmüştür.

37.  Yusuf öğleden sonra yandaki saatte yüzme kursuna gitmiştir. 2 saat sonra eve dönmüştür. Yusuf saat kaçta eve dönmüştür?

- A) 15: 30 B) 15 : 00 C) 14 : 30

- 38.



Yukarıdaki para kaç tane **50 kuruşa** eşittir?

- A) 5 B) 10 C) 20

39.

X	3	4	5	6
4		A		
5				B

 A + B işleminin sonucu kaçtır?

- A) 46 B) 41 C) 42

- 40.



Alper Burcu'ya kaç TL verirse paraları **eşit** olur?

- A) 20 B) 10 C) 5

41. Çiçekçi her vazoya ikişer gül ve üçer karanfil koymuştur.
Çiçekçinin 4 vazosu olduğuna göre toplam kaç çiçeği vardır?
A) 15 20 C) 25

42. Aşağıdakilerden hangisi depremden önce alınması gereken önlemlerden biridir?
A) Deprem çantası hazırlamak
B) Masanın altına çömelmek
C) Açık alanlara çıkmak

43. Aşağıdakilerden hangisi deprem çantasında bulunmaz?



44.




..... ağaçların dallarını sallıyor, yaprakları oradan oraya fırlatıyordu.

Yukarıdaki cümleyi, aşağıdakilerden hangisiyle tamamlamamız doğru olur?

- A) yağmur
B) rüzgâr
C) dolu

45. Karlar erimeye, ağaçlar çiçek açmaya, havalar ısınmaya başlamıştı. Yukarıdaki ifade hangi mevsimi anlatmaktadır?



46. Yeryüzünün yapısını aşağıdakilerden hangisi olumsuz yönde etkilemez?

- A) Heyelan
- B) Ormanlar
- C) Deprem

47. Toprak kaybını önlemek için arazilerde aşağıdakilerden hangisini yapmalıyız?

- A) Ağaçları kesmeliyiz.
- B) Otları yakmalıyız.
- C) Ağaç dikmeliyiz.



48. Aşağıdaki doğa olaylarından hangisinin sonucunda oluşan olaylar insanları üzmez?

- A) Kırağı
- B) Deprem
- C) Sel

49. Dağın bir noktasından kopup yuvarlanan ve yuvarlandıkça büyüyen kar külesine ne denir?

- A) Sel
- B) Heyelan
- C) Çığ



50. Deprem sırasında dayanıklı eşyaların yanında durup, başımızı iki elimizin arasına aldığımız pozisyona ne denir?

- A) Vücudumuzu koruma
- B) Hayat üçgeni
- C) Kafamızı koruma



51. Aşağıdakilerden hangisi yaşadığımız çevreyi olumsuz olarak etkiler?

- A) Çevrenin ağaçlandırılması
- B) Çevremizdeki bitkilerin korunması
- C) Yangın çıkması

52.

"Herkes evinin önünü
temizlerse
temiz olur."



Yukarıdaki cümleyi aşağıdaki seçeneklerden hangisi en iyi şekilde tamamlar?

- A) çevre
- B) evler
- C) odalar

53.

Denizlerin kirliliği hangi hayvanların ölümüne sebep olur?



- A) Kuş
- B) Geyik
- C) Balık




54.

Aşağıdakilerden hangisi deprem anında yapılması gerekenlerden biridir?

- A) Deprem çantasını hazırlamak
- B) Deprem hakkında bilgi toplamak
- C) Başımızı kitap, yastık gibi şeylerle korumak




55.

Aşağıdakilerden hangisi deprem öncesi yapılması gerekenlerdendir?

- A) Dolap, tablo ve resim çerçevesi gibi eşyaları sabitlemeliyiz. 
- B) Dolap, raf gibi eşyalardan uzak durmalıyız. 
- C) Merdiven ve asansörleri kullanmamalıyız. 

56.

Deprem sırasında bina dışındaysak, aşağıdakilerden hangisini yapmamız doğru değildir?

- A) Elektrik direklerinden ve tellerinden uzak durmalıyız. 
- B) Duvar diplerine sığınıp, kendimizi korumalıyız. 
- C) Açık alanlara, boş arsalara gitmeliyiz. 


57. Deprem sırasında sınıftaysak aşağıdakilerden hangisini yapmalıyız?

- A) Hemen dışarı çıkmalıyız.
- B) Pencereden atlamalıyız.
- C) Sağlam bir eşyanın altına veya yanına saklanmalıyız.

58. Deprem anında aşağıdakilerden hangisini yapmak **yanlıştır**?

- A) Merdivenlere koşmak
- B) Balkonlardan, pencerelerden uzak durmak
- C) Sağlam bir masa altına girmek




59. Aşağıdaki öğrencilerden hangisinin söylediği çevre kirliliğinin sebeplerinden **değildir**?

- A)  Bitki örtüsünün korunması
- B)  Fabrika bacalarından çıkan dumanlar
- C)  Arabaların egzozlarından çıkan dumanlar




60. Aşağıda anlatılan durum, hangi seçenekte verilmiştir?



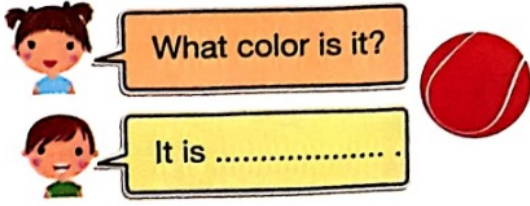
I like yellow balloons.

- A) 
- B) 
- C) 

61. "It is a green ruler." ifadesi hangi seçenekte **resmedilmiştir**?


- A) 
- B) 
- C) 

62. Aşağıdaki diyalogda boş bırakılan yere hangi seçenek gelmelidir?




- A) yellow
B) brown
C) red

63. Aşağıda anlatılan durum, hangi seçenekte verilmiştir?
-It is a purple crayon.



64. Aşağıdaki diyalogda, boş bırakılan yere hangi seçenek gelmelidir?



- A) black and white
B) black and brown
C) pink and white

65. Aşağıda verilen resimde ne anlatılmaktadır?



- A) There are black bookbags.
B) There are pink bookbags.
C) There are grey bookbags.

66. What colour is an apple ?

- A) white
B) blue
C) red



67. How many brown tables are there?



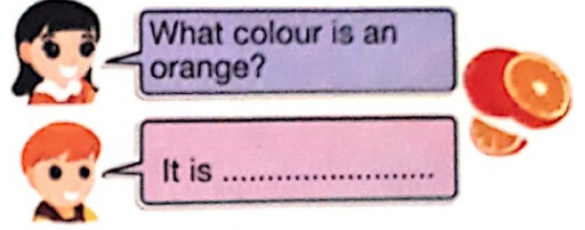
- A) two
- B) one
- C) three

68. Aşağıdaki resimlere göre hangi seçenek **yanlış** verilmiştir?



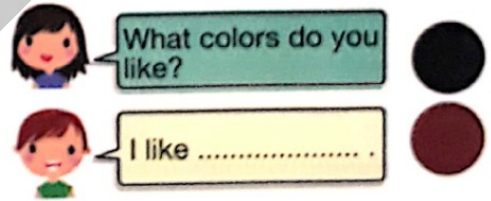
- A) There is a yellow bike.
- B) There is a blue book.
- C) There is a black car.

69. Aşağıdaki diyalogta boş bırakılan yere hangi seçenek gelmelidir?



- A) purple
- B) orange
- C) green

70. Aşağıdaki diyalogda, boş bırakılan yere hangi seçenek gelmelidir?



- A) grey and pink
- B) white and purple
- C) black and brown

71. Aşağıdakilerden hangisi bir renk **değildir**?

- A) paper
- B) pink
- C) purple