



İSTEK VE İHTİYAÇLARIMIZ

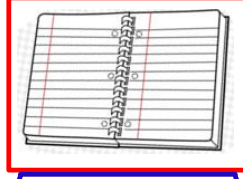
1. Etkinlik: Verilen resimlerin altına "ihtiyaç" ve "istek" kelimelerinden uygun olanını yazalım.



.....



.....



.....



.....




.....



.....



.....




.....



.....




.....



.....



.....



.....



.....




.....

2. Etkinlik: Aşağıdaki cümlelerin numaralarını doğru olanları doğrucu Davut'a, yanlış olanları yanlışçı Yavuz'a yazınız.

1. İstediklerimiz alınmazsa ısrarcı olmalıyız , ağlamalıyız.
2. Öncelikli olarak isteklerimizi almalıyız.
3. İhtiyaçlarım varken isteklerimi alamam.
4. Deftere ihtiyacım varken önce gofret alırım
5. Alışveriş sırasında her zaman ihtiyaçlarımız önce alınmalı.
6. İhtiyaçlarım alınmasa da olur.
7. İstekler aile bütçemize göre alınabilir.
8. Paten yerine kış geldiği için ihtiyacımız olan botu almalıyız.
9. İsteklerimi almak için para biriktiririm.
10. Annem perdelerimiz olduğu halde perdeleri yenilemek istiyor.

Davut



Yavuz





5 N 1 K SORULARI

✿ Aşağıdaki cümlelerde altı çizili kelimenin cevap olacağı soruyu boyayınız.

✿ Ablam hasta olduğu için okula gidemedi.

Nasıl gidemedi ?

Niçin gidemedi ?

Kim gidemedi ?



✿ Melih okula yürüyerek gider.

Nasıl gider ?

Kim gider ?

Nereye gider ?



✿ Demet yatmadan önce bir bardak süt içer.

Ne içer ?

Kim içer ?

Ne zaman içer ?

✿ Azmi kütüphaneden ödünç kitap almış.

Kim almış ?

Ne almış ?

Nereden almış ?



✿ Sinem okuldaki törende şiir okudu .

Nerede okudu ?

Ne okudu ?

Kim okudu ?

✿ Fatih derede balık tutmuş.

Nerede tutmuş ?

Kim tutmuş ?

Ne tutmuş ?



✿ Betül yüzme bilmediği için denize girmedi.

Kim girmedi ?

Niçin girmedi ?

Nereye girmedi ?

✿ Gökhan geç kalınca sessizce sınıfa girmiş.

Nasıl girmiş ?

Kim girmiş ?

Nereye girmiş ?



✿ Pelin hafta sonu yüzme kursuna yazılmış.

Kim yazılmış ?

Ne zaman yazılmış ?

Nereye yazılmış ?

✿ Ozan , Jale'yi parkta sallanırken görmüş.

Kim görmüş ?

Nasıl görmüş ?

Nerede görmüş ?





ÖZEL İSİMLER

⦿ Aşağıda verilen özel isimlerden doğru yazılanların kutusuna "D" , yanlış yazılanların kutusuna "Y" yazalım.

Pınar

...

Kayseri'ye

...

Metenin

...

yunanistan

...

sinem

...

Geveze

...

İngilizce

...

üsküdar

...

29 Ekim

...

ramazan bayramı

...

Maviş

...

menekşe mahallesi

...

Habibe Taş İlkokulu

...

ulusal egemenlik ve çocuk bayramı

...

Almanya

...

gazi üniversitesi

...

Selçuklu Anadolu Lisesi

...

akmescit köyü

...

19 Mayıs 1919

...

çomara

...

İzmir'den

...

Atatürk Caddesi

...

erciyes dağı

...

türkçe

...

emel'in

...

Cumhuriyet Bayramı

...



TOPLAMA VE ÇIKARMA İŞLEMİ PROBLEMLER

1. Otobüste 26 yolcu vardı. Durakta 15 kişi bindi , 9 kişi indi. Otobüste kaç tane yolcu vardır?

Çözüm:



2. Dedem 65 yaşındadır. Babam dedemden 29 yaş küçük olduğuna göre babam kaç yaşındadır?

Çözüm:



3. Kutuda 42 tane yeşil , yeşil boncuklardan 15 tane daha az mavi boncuk var. Kutuda toplam kaç tane top vardır?

Çözüm:



4. Ozan aldığı kitabın birine 29 lira , diğerine 26 lira ödedi. Ozan'ın 80 lirası vardı. Geriye kaç lirası kaldı ?

Çözüm:



5. Kemal bahçeden önce 32 , sonra 48 tane elma toplamış. Elmaların 35 tanesi sarı olduğuna göre kaç tanesi kırmızı elmadır?

Çözüm:



6. Koray dün 36 sayfa, bugün ise dünden 8 sayfa daha az kitap okumuş. Koray iki günde toplam kaç sayfa kitap okumuştur?

Çözüm:



7. Bahçede 42 çocuk vardı. Çocukların 16'sı okula girdi. Sonra 27 çocuk daha bahçeye çıktı. Bahçede kaç çocuk vardır ?

Çözüm:



8. Dayım 34 yaşındadır. Dayım 7 yıl önce kaç yaşındaydı?

Çözüm:





TOPLAMA VE ÇIKARMA İŞLEMİ PROBLEMLER

1. Soner'in 27 lirası var. Almak istediği top ise 40 lira. Topu almak için Soner'in kaç liraya daha ihtiyacı var ?

Çözüm:



2. Bahçemizde 52 tane ağaç var. Ağaçların 34 tanesi elma geri kalanı kayısıdır. Kaç tane kayısı ağacı vardır ?

Çözüm:



3. Amcam 39 yaşındadır. Amcam 7 yıl önce kaç yaşındaydı ?

Çözüm:



4. Kümeste 47 tane tavuk , 16 tane horoz var. Kümesteki hayvanların 25 tanesi dışarı çıkınca içeride kaç tane havyan kalmıştır ?

Çözüm:




5. Deniz'in 42 tane bilyesi var. Deniz'in bilyeleri Ozan'ın bilyelerinden 14 tane az olduğuna göre, Ozan'ın kaç bilyesi vardır ?

Çözüm:




6. Bakkal dün 90 tane ekmek satmış. Bugün ise dünden 18 tane daha az ekmek satmış. Bugün kaç tane ekmek satmıştır ?

Çözüm:




7. Fatma bir dakikada 30 kelime yazmış. Ceren ise Fatma'dan 7 kelime daha az yazmış. İkisi toplam kaç kelime yazmıştır ?

Çözüm:



8. Bir çiftçi 82 tane koyunun önce 26 , sonra 17 tanesini satmış. Çiftçinin geriye kaç tane koyunu kalmıştır ?

Çözüm:





TOPLAMA VE ÇIKARMA İŞLEMİ PROBLEMLER

1. Kantinci 3 düzine kalemin 27 tanesini satmış. Geriye kaç tane kalem kalmıştır ?

Çözüm:



2. Selin 53 sayfa olan kitabından bir miktar okuyunca geriye 35 sayfa kalmış. Selin kaç sayfa okumuştur ?

Çözüm:



3. Otobüste 23 tane erkek, erkeklerde 5 tane az bayan yolcu var. Otobüste toplam kaç yolcu vardır ?

Çözüm:



4. Ablamın 90 lirası vardı. Parasının 17 lirasına eldiven , 25 lirasına bere almış. Ablamın kaç lirası kalmıştır ?

Çözüm:



5. Zafer tabaktaki 60 fındıktan bir miktar alınca geriye 36 fındık kalmış. Zafer kaç tane fındık almış ?

Çözüm:



6. Kutuda 51 tane yeşil boncuk , yeşil boncuklardan 18 tane eksik mavi boncuk var. Kutuda toplam kaç tane boncuk vardır?

Çözüm:



7. Ben 14 yaşındayım. Dedem ise 71 yaşındadır. Dedem benden kaç yaş büyüktür ?

Çözüm:



8. Hale'nin 75 lirası vardı. Gömlek alınca 32 lirası kaldı. Hale'nin aldığı gömlek kaç liradır ?

Çözüm:





TOPLAMA VE ÇIKARMA İŞLEMİ PROBLEMLER

1. Bakkal dolaptaki 85 ekmeğin 67 tanesini satmış. Sonra dolaba 45 tane daha ekmek konmuş. Dolapta kaç tane ekmek vardır ?

Çözüm:



2. Kantinci 56 tane kalemin 3 destesini satmış. Geriye kaç tane kalem kalmıştır ?

Çözüm:



3. Fatih, ablası ve babasının yaşları toplamı 61'dir. Babası 37 , ablası 15 yaşında olduğuna göre, Fatih kaç yaşındadır?

Çözüm:



4. İçinde boncuklar olan üç kutu var. Aralarında 13'er boncuk fark olan kutuların en fazla boncuk olanında 70 boncuk var. En az olan kutuda kaç tane boncuk vardır?

Çözüm:



5. Terzi 60 metre kumaşın önce 17 metresini , sonra 15 metresini kullandı. Geriye kaç metre kumaş kaldı ?

Çözüm:



6. Bir trendeki 93 yolcunun 36 tanesi bayan, 44 tanesi erkek diğerleri çocuktur. Trende kaç tane çocuk yolcu vardır ?

Çözüm:



7. Aralarında üçer yaş olan üç kardeşten en büyüğü 17 yaşındadır. En küçük kardeş kaç yaşındadır?

Çözüm:



8. Ali'nin 83 kitabının 48 tanesi öykü, 19 tanesi masal diğerleri şiir kitabıdır. Ali'nin kaç tane şiir kitabı vardır ?

Çözüm:





TOPLAMA VE ÇIKARMA İŞLEMİ PROBLEMLER

1. 3 düzine yumurtanın 18 tanesi kullanılmış.
Geriye kaç tane yumurta kalmıştır ?

Çözüm:



2. Koray'ın 62 lirası vardı. 27 lirasını
harcadı. Sonra babası 15 lira daha verdi.
Koray'ın kaç lirası olmuştur ?

Çözüm:



3. Gaye 61 tane boncuğun , 24 tanesini
arkadaşına vermiş. Boncukların 17 tanesini
ise kaybetmiş. Gayenin kaç tane boncuğu
kalmıştır ?

Çözüm:



4. Efe 13 , Oya ise 14 yaşındadır. 4 sene
sonra Efe ve Oya'nın yaşları toplamı
kaçtır ?

Çözüm:



5. Annemle babamın yaşları toplamı
63'tür. Annemle babamın 6 yıl önceki
yaşları toplamı kaçtır ?

Çözüm:



6. Kutuda 46 tane sarı boncuk var. Sarı
boncuklar kırmızı boncuklardan 19 tane faz-
la olduğuna göre, kutuda toplam kaç tane
boncuk vardır ?

Çözüm:




7. Salih 13, dedesi 71 yaşındadır. Salih
doğduğunda dedesi kaç yaşındaydı?

Çözüm:



8. Tabakta 50 tane fındık vardı. Fındıkların
34 tanesini yedik. Annem tabağa 17 tane
fındık koydu. Tabakta kaç tane fındık oldu ?

Çözüm:





TOPLAMA VE ÇIKARMA İŞLEMİ PROBLEMLER

Sınıflar	Kız	Erkek	Toplam
2-A	16		34
2-B		15	32
2-C	18		38
2-D	17	23	
2-E		14	33

Aşağıdaki problemleri tablodan yararlanarak çözelim.

1. 2-D sınıfında toplam kaç öğrenci vardır ?

Çözüm:



2. 2-B sınıfında kaç tane kız öğrenci vardır ?

Çözüm:



3. 2-E sınıfında kaç tane kız öğrenci vardır?

Çözüm:



4. Öğrenci sayısı en fazla olan sınıf , öğrenci sayısı en az olan sınıftan kaç tane fazladır ?

Çözüm:



5. 2-A sınıfında kaç tane erkek öğrenci vardır?

Çözüm:



6. 2-D sınıfındaki erkek öğrenciler kız öğrencilerden kaç tane fazladır?

Çözüm:



7. 2-C sınıfında kaç tane erkek öğrenci vardır ?

Çözüm:



8. 2-E sınıfındaki kız öğrenciler erkek öğrencilerden kaç tane fazladır?

Çözüm:






TOPLAMA VE ÇIKARMA İŞLEMİ PROBLEMLER



Abla 13
yaşında



Arda 9
yaşında



Baba 43
yaşında

Anne 38
yaşında



Dede 68
yaşında

Babaanne
65 yaşında

Aşağıdaki problemleri verilen bilgilerden yararlanarak çözelim.

1. Arda'nın babası , dedesinden kaç yaş küçüktür?

Çözüm:



2. Babaanne 18 yıl önce kaç yaşındaydı ?

Çözüm:



3. Dede 9 yıl sonra kaç yaşında olur ?

Çözüm:



4. Anne ile babanın yaşları toplamı kaçtır?

Çözüm:



5. Arda ve ablasının 6 yıl sonra yaşları toplamı kaçtır ?

Çözüm:



6. Arda doğduğunda babası kaç yaşındaydı ?

Çözüm:



7. Arda'nın babaannesi , annesinden kaç yaş büyüktür ?

Çözüm:



8. Ablası doğduğunda anne kaç yaşındaydı?

Çözüm:





TOPLAMA VE ÇIKARMA İŞLEMİ PROBLEMLER

1. Simitçi 74 simidin önce 26 , sonra 32 tanesini satmış. Satılacak kaç tane simit kalmıştır?

Çözüm:



2. Şahin'in 70 lirası vardı. Tanesi 16 liradan 2 tane kitap aldı. Geriye kaç lirası kalmıştır?

Çözüm:



3. Annem 28 , babam 33 yaşındadır. 4 yıl önce annem ve babamın yaşları toplamı kaçtı ?

Çözüm:



4. Bahçede 42 erkek ve erkek öğrencilerden 14 eksik kız öğrenci oyun oynamaktadır. Bahçede toplam kaç öğrenci oyun oynamaktadır ?

Çözüm:



5. 37 sayısının 49 fazlasının , 28 eksiği kaçtır ?

Çözüm:



6. Kutuda 36 tane sarı , 48 tane mavi boncuk var. Sarı ve mavi boncukların toplamından 29 eksik kırmızı boncuk var. Kutuda kaç tane kırmızı boncuk vardır ?

Çözüm:



7. Gökhan bahçedeki 25 ağacı suladıktan sonra geriye sulanacak 37 ağaç kalmış. Bahçedeki ağaçların tamamı kaç tanedir ?

Çözüm:



8. Ağaçta 62 tane kuş vardı. Kuşların 28 tanesi uçtu. Sonra 17 tane daha kuş kondu. Ağaçta kaç tane kuş olmuştur?

Çözüm:





TOPLAMA VE ÇIKARMA İŞLEMİ PROBLEMLER

1. 91 sayısının 43 eksiğinin 26 fazlası kaçtır?

Çözüm:



2. Dayım 44 , yengem 39 yaşındadır. 6 yıl önce ikisinin yaşları toplamı kaçtı ?

Çözüm:



3. Annemin 60 lirası vardı. Tanesi 18 liradan 3 kutu lokum aldı. Annemin kaç lirası kaldı?

Çözüm:



4. Evimizle park arası 46 metredir. Evden çıkıp parka gidip gelirim kaç metre yürümüş olurum ?

Çözüm:



5. Gaye 32 tane fındık yemiştir. Talat ise Gaye'den 8 fındık eksik yemiştir. İkisi toplam kaç fındık yemiştir ?

Çözüm:



6. Mete'nin 42 mavi , 38 kırmızı boncuğu var. Boncuklarından 26 tanesini arkadaşına vermiş. Mete'nin kaç boncuğu kalmıştır ?

Çözüm:



7. Defne 76 sayfa olan hikaye kitabından her gün 16 sayfa okuyor. Üç gün kitap okuyor. Okunacak kaç sayfa kalmıştır ?

Çözüm:



8. Bir kümeste 85 hayvan var. Hayvanların 46'sı tavuk , 17'si horoz ve geri kalanı hindidir. Kümeste kaç tane hindi vardır ?

Çözüm:

