

Adı :
Soyadı :
Sınıfı :

MATEMATİK-1

Saatleri Okuyalım-1



Aşağıdaki saatlerin okunuşlarını örnekteki gibi yazınız.



Tam sekiz



All Rights Reserved

HASAN YILDIRIM

Adı :
Soyadı :
Sınıfı :

MATEMATİK-1

Saatleri Okuyalım-2



Aşağıdaki saatlerin okunuşlarını örnekteki gibi yazınız.



Üç buçuk



All Rights Reserved

HASAN YILDIRIM


Adı :
Soyadı :
Sınıfı :

MATEMATİK-1

Saatleri Okuyalım-3



Aşağıdaki saatlerin okunuşlarını yazınız.



Adı :
Soyadı :
Sınıfı :

MATEMATİK-1


Saatleri Okuyalım-4



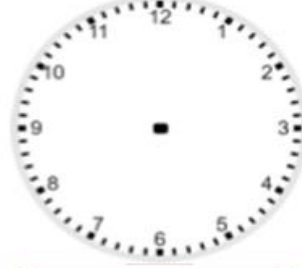
Aşağıda okunuşları verilen saatleri örnekte olduğu gibi çizin.




Tam sekiz



Dört buçuk




Tam beş




On bir buçuk



Tam dokuz



İki buçuk




Yedi buçuk




Tam altı



Tam on



Tam yedi



Üç buçuk



Altı buçuk



Bir buçuk



Tam dört



Tam on iki



On buçuk



All Rights Reserved

HASAN YILDIRIM

Adı :
Soyadı :
Sınıfı :

MATEMATİK-1

Saatleri Okuyalım-5



Dijital saatlerin ekranındaki saatleri analog saatlere çiziniz.

