



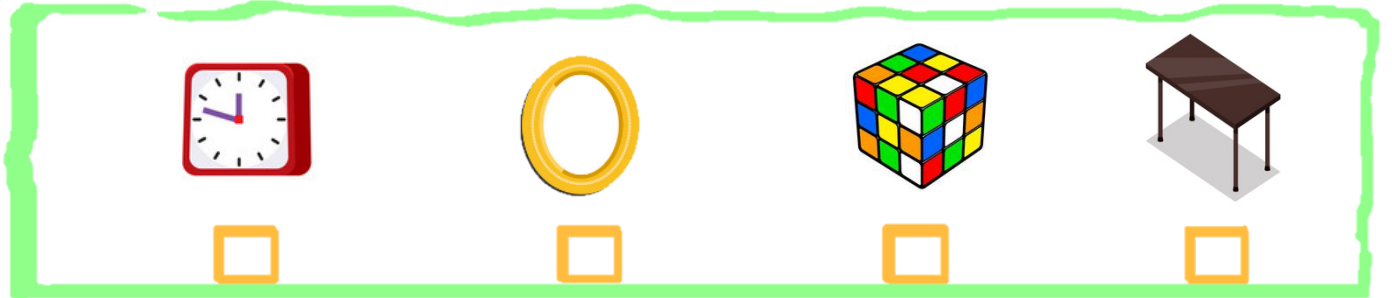
GEOMETRİK ŞEKİLLER



Aşağıdaki verilen nesnelere dikdörtgen kullanılarak oluşturulanları işaretleyiniz.




Aşağıdaki verilen nesnelere kare kullanılarak oluşturulanları işaretleyiniz.

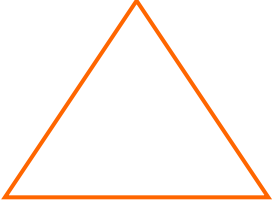


Aşağıdaki verilen nesnelere üçgen kullanılarak oluşturulanları işaretleyiniz.



Aşağıdaki verilen nesnelere çember kullanılarak oluşturulanları işaretleyiniz.





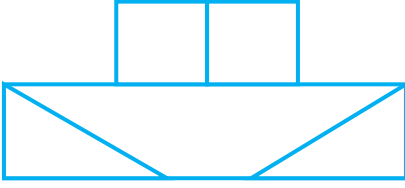
1- Yandaki şekil için aşağıdakilerden hangisi söylenebilir?

- A. Adı karedir.
- B. Üç kenarı vardır.
- C. Dört kenarı vardır.



Defterinize 1 tane dikdörtgen çiziniz.

2- Öğretmenin söylediğine göre öğrenciler aşağıdaki şekillerden hangisidir?



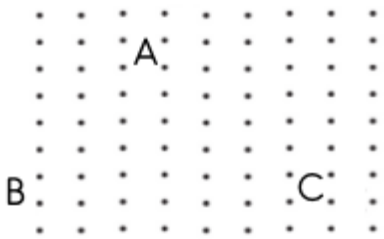
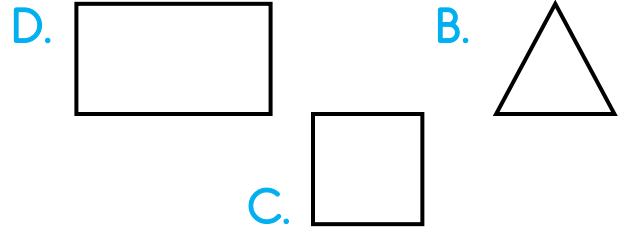
3- Yandaki şekilde hangi geometrik şekil kullanılmamıştır?

- E. Kare
- B. Üçgen
- C. Çember



4 kenarım, 4 de köşem var. Karşılıklı kenar uzunluklarım eşittir.

4- Yandaki kendini tanıtan şekil hangisidir?



5- Yandaki izometrik kağıtta A,B,C noktalarını bileştirirsek hangi şekil oluşur?

- A. Çember
- B. Kare
- C. Üçgen





MİLLİ BAYRAMLAR

**Kazanım:** Bayram tören ve etkinliklerine katılmaya istekli olur.



birlik beraberlik içinde kutladığımız bayramlara milli bayram deriz.

Milli bayramlar da insanlar bir araya gelerek birlik ve beraberliğin artmasına katkıda bulunurlar. Milli bayramlar Atatürk'ün 19 Mayıs'ta Samsun'a çıkması ile başlayan Kurtuluş Savaşı'nda yaşanan önemli olayların gerçekleştiği günleri temsil eder. Milli Bayramlarımız şu şekildedir:

29 Ekim 1923 (**Cumhuriyet Bayramı**): Devletimizin kuruluşundan dolayı kutlarız.

23 Nisan 1920 (**Ulusal Egemenlik ve Çocuk Bayramı**): TBMM'nin (Türkiye Büyük Millet Meclisinin) açılışından dolayı Atatürk bu günü çocuklara armağan etmiştir.

19 Mayıs 1919 (**Atatürk'ü Anma Gençlik ve Spor Bayramı**): Atatürk Milli mücadelenin başlangıcı olan Samsun'a çıkışından dolayı kutlarız.

30 Ağustos 1922 (**Zafer Bayramı**): ordumuzun kurtuluş savaşında Yunanlılara karşı yaptığı kesin üstünlüğüyle sonuçlanan zaferidir.



Aşağıda cümlelerden doğru olanlara (D) yanlış olanlara (Y) yazalım.

Milli bayramları sadece ailemizle kutlarız.

23 Nisan'da sınıflarımızı bayrak ve balonlarla süsleriz.

Cumhuriyet Bayramı 2 yılda bir kutlanır.

Türkiye Büyük Millet Meclisi Ankara'da açılmıştır .

Milli bayramları sadece çocuklar kutlarlar.





Aşağıda verilen sözcük gruplarını uygun yerlere yazarak cümleleri tamamlayınız.

milletçe

23 Nisan

Cumhuriyet

tören

Samsun

bayraklarla

- Ulusal Egemenlik ve Çocuk Bayramı .....’da kutlanır.
- Milli bayramları .....hep birlikte kutlarız.
- 29 Ekim’de .....Bayramını kutlarız.
- Milli bayramlarda okulda .....yaparız.
- Milli bayramlarda sınıflarımızı .....süsleriz.
- Atatürk Bandırma Vapuru ile .....’a çıkmıştır.



Aşağıdaki bulmacaları çözelim

- Atatürk’ü Anma ve Gençlik ve Spor Bayramı ne zaman kutlanır?

- 30 Ağustos’ta kutladığımız bayram hangisidir?

- Milli Mücadele’de Türk halkına kim liderlik etmiştir?

- 29 Ekim’de ne ilan edilmiştir?

