

20.04.2020

1. Ninem, sedef işlemeli büyük sandığı açtı. İçinden deri bir çanta çıkardı. Bu çantanın içinde, yüz yıllık bir saat, tespihler, akik taşlı yüzükler, eski paralar vardı. Bunları çantadan çıkarıp konsolun üzerindeki tahta kutuya yerleştirdi.

Aşağıdakilerden hangisi sandıktan çıkan eşyalardan **değildir**?

- A. Taşlı yüzükler
- B. Deri çanta
- C. Tahta kutu

2. Çok susayan bir geyik, su içmek için dere kenarına inmiş.

Yukarıdaki cümlede hangi sorunun cevabı **yoktur**?

- A. Niçin?
- B. Nereye?
- C. Ne zaman?

3. Aşağıdaki bilgilerden hangisi **yanlıştır** ?

- A. "İlk-o-kul" kelimesi hecelerine doğru olarak ayrılmıştır.
- B. "Apartıman, yalnız" kelimeleri yanlış yazılmıştır.
- C. Şiir mısralarının ilk harfi büyük yazılır.

4. Bizim evin, sizin evden bahçesi var.

Yukarıdaki cümle hangi ifade ile anlamlı olarak tamamlanır?

- A. başka bir deyişle
- B. farklı olarak
- C. özet olarak

5. Yaşlı bir kadının bir tavuğu varmış. Bu tavuğunu çok severmiş. Tavuk da her gün bir tane yumurtlamış. Ama kadın açgözlüymüş. Bir gün "Yemini arttırayım, günde iki yumurta alırım." diye düşünmüş. Tavuğun yemini arttırmış. Tavuk günden güne o kadar tembelleşmiş ki bir gün gelmiş günde bir tane bile yumurtlamaz olmuş.

Yukarıdaki masalın **ana fikri** nedir?


- A. İnsanlar elindekiler ile yetinmesini bilmelidir.
- B. İnsanlar, hayvanları her zaman çok sevmelidir.
- C. Çok yem tüketen tavuklar daha çok yumurtlar.

6. Cemal Bey, 710 TL'ye satın aldığı takım elbisenin önce 175 TL'sini, sonra ise 248 TL'sini ödedi. Cemal Bey'in kaç lira borcu kalmıştır?

- A. 287
- B. 292
- C. 297




7.  3'e 20 var.

Yusuf'un söylediği zamanı gösteren saat hangisidir?



8. İnsu, öğretmeninin tahtaya çizdiği ışını defterine çizdi.

Aşağıdakilerden hangisi İnsu'nun **çizimidir**?

- A. 
- B. 
- C. 

9. ... Dondurma külahı koni modelidir.
... Tenis topu küre modelidir.
... Süt kutusu prizma modelidir.
... Soba borusu silindir modelidir.

Yukarıdaki bilgilerden doğru olanların başına "D", yanlış olanların başına "Y" harfi yazıldığında hangi sonuca ulaşılır ?

- A. DDYD
B. DDYY
C. DDDD

10. 633 > > 521

Yukarıdaki sıralamada noktalı yere hangi doğal sayı yazılabilir?

- A. 634 B. 588 C. 520

11. $12 \times 6 = 4 \times \square$

Yukarıdaki eşitliğe göre " \square " yerine hangi sayı gelmelidir?

- A. 16 B. 17 C. 18

12. Aşağıdaki kesirleri büyükten küçüğe doğru sıraladığımızda en sonda hangisi yer alır?

- A. $\frac{7}{14}$ B. $\frac{3}{14}$ C. $\frac{10}{14}$

13. Aşağıdaki maddelerden hangisinin hem katı hem sıvı hem de gaz hâli bulunmaktadır?

- A. Tahta
B. Hava
C. Su

14. Aşağıdaki araç-gereçlerden hangisinin elektrik kaynağı bataryadır?

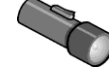
A.



B.



C.



15. Aşağıdaki tarihî eserlerden hangisi İstanbul'da bulunmamaktadır?

- A. Kız Kulesi
B. Topkapı Sarayı
C. Mevlana Müzesi

- 16.

Su dağıtımı, kanalizasyon, esnafların denetimi, ulaşım, çöp toplama gibi hizmetleri vardır.



Ali hangi sorunun cevabını vermiştir?

- A. Muhtarın hizmetleri nelerdir?
B. Belediyenin hizmetleri nelerdir?
C. Kaymakamın hizmetleri nelerdir?

Test bitti. Cevaplarınızı kontrol ediniz.

Başarılar....

