

Doğru	Yanlış

2. SINIF 2. DÖNEM MATEMATİK DERSİ DEĞERLENDİRME SORULARI-3

1. Bir simitçideki 8 deste simitten sabah 45'i, öğlen 19'u, akşam da 1 düzinesi satıldı. Simitçide kaç simit kaldı?

- A) 4
B) 5
C) 6



2. 3 onluk 5 birlik ile 6 onluk 4 birliğin toplamı kaçtır?

- A) 79 B) 89 C) 99

3. 26 - 62 - 97 - 79 sayılarının büyükten küçüğe doğru sıralanışı hangi seçenekte doğru olarak verilmiştir?

- A) 97 - 79 - 26 - 62
B) 97 - 79 - 62 - 26
C) 26 - 62 - 79 - 97



4. 14 - 17 - 20 - ■ - 26 - ■ sayı örüntüsünde boş bırakılan yerlere gelecek olan sayıların toplamı kaçtır?

- A) 29 B) 52 C) 62


5. 30'a yuvarlanan en küçük ve en büyük sayıların toplamı kaçtır?

- A) 31
B) 43
C) 59



6. Bir çiftlikte 8 koyun, 6 tavuk vardır. Bu çiftlikteki hayvanların ayak sayıları toplamı kaçtır?

- A) 44
B) 14
C) 68



7. Kemal Ef'e'nin 90 tane cevizi vardı. Cevizlerin 35 tanesini Ayza'ya, 17 tanesini de Sena'ya verdi. Kemal Ef'e'nin kaç cevizi kaldı?

- A) 28
B) 38
C) 48




8. Yaman 6 yaşındadır. Babasının yaşı, Yaman'ın yaşının 5 katından 4 fazladır. Yaman'ın babasının yaşı kaçtır?

- A) 15
B) 34
C) 38



9. Yan taraftaki geometrik cisim ile ilgili verilen bilgilerden hangisi yanlıştır?

- A) Tüm yüzeyleri kare şeklindedir.
B) Köşe ve kenarları vardır.
C) Cismin adı kare prizmadır.



10. Murat, Koray'dan 6 kilogram daha ağırdır. Koray 20 kilogram olduğuna göre, ikisinin ağırlıkları toplamı kaç kilogramdır?

- A) 26
B) 36
C) 46


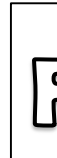



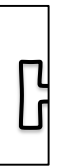
11. 2 düzine kalem, 3 arkadaş'a eşit olarak paylaştırılırsa her birine kaç kalem düşer?

- A) 8
B) 6
C) 5



12. Yanda verilen şeklin simetrisi hangisidir?

- A)  B)  C) 



13.



Günde 5 parça peynir yiyen bir fare, bir hafta sonunda kaç parça peynir yemiştir?

- A) 12 B) 35 C) 50

14.



Yukarıda verilen karpuzlardan kaç yarım karpuz çıkar?

- A) 4 B) 6 C) 8

15. Aşağıda verilen çarpma işlemlerinden hangisinin sonucu yanlıştır?

- A) $5 \times 6 = 30$
B) $9 \times 3 = 24$
C) $1 \times 5 = 5$



16. Birler basamağında 5 bulunan en büyük iki basamaklı sayıdan, birler basamağında 9 bulunan iki basamaklı en küçük sayıyı çıkarırsak kaç kalır?

- A) 44
B) 56
C) 76



17. 5 yıl önce 5 yaşında olan Arda, 5 yıl sonra kaç yaşında olur?

- A) 15
B) 10
C) 25



18.

$$24 - 4 = 20$$

$$20 - 4 = 16$$

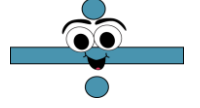
$$16 - 4 = 12$$

$$12 - 4 = 8$$

$$8 - 4 = 4$$

$4 - 4 = 0$ işleminin, bölme işlemi olarak ifade edilmesi aşağıdakilerden hangisidir?

- A) $24 \div 4$ B) $24 \div 6$ C) $20 \div 5$



19. Dün pazar ise, yarın günlerden nedir?

- A) pazartesi
B) salı
C) çarşamba



20.

Nisan 2022

PT	SA	ÇA	PE	CU	GT	PZ
				1	2	3
4	5	6	7	8	9	10
11	12	13	14	15	16	17
18	19	20	21	22	23	24
25	26	27	28	29	30	

Takvime göre 23 Nisan Ulusal Egemenlik ve Çocuk Bayramımızı hangi gün kutlayacağız?

- A) Cuma
B) Cumartesi
C) Pazar

CEVAPLAR

- 1 A B C
2 A B C
3 A B C
4 A B C
5 A B C
6 A B C
7 A B C
8 A B C
9 A B C
10 A B C

- 11 A B C
12 A B C
13 A B C
14 A B C
15 A B C
16 A B C
17 A B C
18 A B C
19 A B C
20 A B C