

- Aşağıdaki geometrik şekillere göre boşlukları doldurunuz.



Şeklin adı :

Kenar sayısı :


Köşe sayısı :



Şeklin adı :

Kenar sayısı :


Köşe sayısı :



Şeklin adı :

Kenar sayısı :

Köşe sayısı :




Şeklin adı :

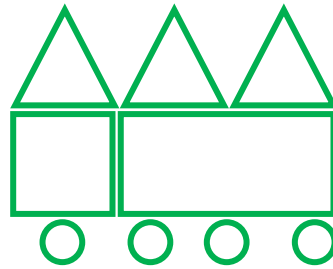
Kenar sayısı :

Köşe sayısı :

- Aşağıdaki şekilleri örnekteki gibi sayarak yazalım.



1 üçgen
1 kare
3 daire
1 dikdörtgen




.....

.....

.....

.....




.....

.....

.....

.....



.....

.....

.....

.....