

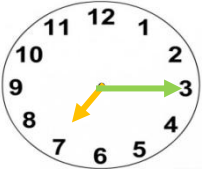
ÖDEVİM

Görev-1 : Aşağıda verilen dijital saatleri ve okunuşunu MATEMATİK defterinize güzelce yazınız. Saatlerin **öğleden önce** ya da **öğleden sonra** olduğunu belirtmeyi unutmayınız.

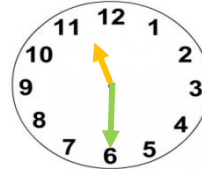
- Örnek** 11:15 Saat öğleden önce 11 'i çeyrek geçiyor. 15:30 Saat öğleden sonra 3 buçuk.
1. 08:00 Saat:
2. 10:30 Saat:
3. 02:15 Saat:
4. 09:45 Saat:
5. 13:00 Saat:
6. 17:15 Saat:
7. 20:30 Saat:
8. 22:45 Saat:

Görev-2: Aşağıda verilen analog saatlerin öğleden önce ve öğleden sonra kaç gösterdiğini örneklerde olduğu gibi dijital saat olarak MATEMATİK defterinize yazınız.

Örnek

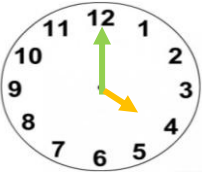


Öğleden önce : 07:15
Öğleden sonra : 19:15



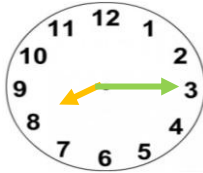
Öğleden Önce : 11:30
Öğleden sonra : 23:30

1.



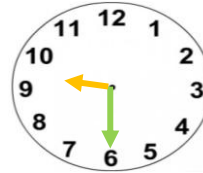
Öğleden önce:
Öğleden sonra:

2.



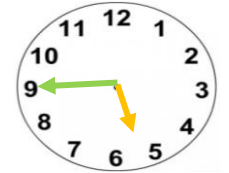
Öğleden önce:
Öğleden sonra:

3.



Öğleden önce:
Öğleden sonra:

4.



Öğleden önce:
Öğleden sonra:

Görev-4: Aşağıda verilen cümleleri HAYAT BİLGİSİ defterinize yazarak doğru ya da yanlış olduklarını belirtiniz. Doğru ise (D), yanlış ise (Y) yazınız.

- () Ülkemize göç edenlerin kıyafetleri bizimkinden farklı olabilir.
- () Ülkemize farklı ülkelerden gelip yaşayan insanlar vardır.
- () Ülkemize başka ülkelerden gelmiş insanlara karşı anlayışlı olmalıyız.
- () Dünya üzerinde bulunan ülkelerin kültürel özellikleri birbirinden farklıdır.
- () Başka ülkelerde yaşayan insanların kültürel özellikleri bizim ülkemizin özellikleri ile aynıdır.