



Aşağıdaki çıkarma işlemlerinde verilmeyen eksileni bularak eşleştiriniz.

$$\dots - 27 = 12$$






$$\dots - 30 = 21$$

$$\dots - 29 = 17$$

$$\dots - 50 = 15$$

$$\dots - 18 = 12$$

$$\dots - 32 = 45$$



Aşağıdaki işlemlerin bazılarında eksilen yanlış yazılmış.Yanlış yazılanları bularak doğrusunu yazınız.

$$\begin{array}{r} 38 \\ - 12 \\ \hline 24 \end{array}$$

$$\begin{array}{r} 64 \\ - 26 \\ \hline 38 \end{array}$$

$$\begin{array}{r} 83 \\ - 45 \\ \hline 27 \end{array}$$

$$\begin{array}{r} 50 \\ - 19 \\ \hline 41 \end{array}$$

$$\begin{array}{r} 76 \\ - 37 \\ \hline 39 \end{array}$$




Bakkal Hasan fırından aldığı ekmeklerin 28 tanesini satmıştır.Geriye 19 tane ekmek kalmıştır.Bakkal Hasan fırından kaç tane ekmek almıştır?



Aşağıdaki çıkarma işlemlerinde verilmeyen sayıyı bulunuz.

Eksilen : ?
Çıkan : 25
Fark : 64





Aşağıdaki çıkarma işleminde verilmeyen çıkanı bulunuz.

$$\begin{array}{r} 24 \\ - \quad \text{...} \\ \hline 15 \end{array}$$


$$\begin{array}{r} 87 \\ - \quad \text{...} \quad \text{...} \\ \hline 28 \end{array}$$

$$\begin{array}{r} 56 \\ - \quad \text{...} \quad \text{...} \\ \hline 42 \end{array}$$

$$\begin{array}{r} 61 \\ - \quad \text{...} \quad \text{...} \\ \hline 37 \end{array}$$



Eksilen : 92
Çıkan : ?
Fark : 56



Eksilen : 76
Çıkan : ?
Fark : 47



$$\begin{array}{r} 44 \\ - \quad \text{...} \\ \hline 30 \end{array} \quad \begin{array}{r} \text{...} \\ - 23 \\ \hline 57 \end{array}$$

Verilen işlemde yola çıkarak

$\text{...} + \text{...}$ sonucu kaçtır?



$$\begin{array}{l} 35 - \triangle = 17 \\ \square - \triangle = 43 \end{array}$$

Yanda verilenlere göre \square ve \triangle kaçtır?

Aşağıdaki işlemlerin hangilerinde verilmeyen çıkan, diğerlerinden büyüktür?

A. $64 - \triangle = 44$

B. $73 - \square = 52$

C. $82 - \bigcirc = 65$

