

ADI SOYADI:

İşlem sonuçlarına uygun harfi yazalım.

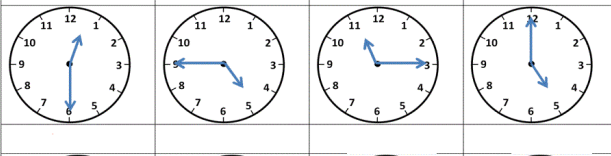
$$\begin{aligned} 11 + 14 &= \underline{\hspace{2cm}} \bullet \\ 15 + 11 &= \underline{\hspace{2cm}} \bullet \\ 17 + 11 &= \underline{\hspace{2cm}} \bullet \\ 2 + 2 &= \underline{\hspace{2cm}} \bullet \\ 15 + 12 &= \underline{\hspace{2cm}} \bullet \\ 13 + 18 &= \underline{\hspace{2cm}} \bullet \\ 5 + 19 &= \underline{\hspace{2cm}} \bullet \\ 14 + 7 &= \underline{\hspace{2cm}} \bullet \\ 2 + 15 &= \underline{\hspace{2cm}} \bullet \\ 12 + 14 &= \underline{\hspace{2cm}} \bullet \end{aligned}$$

$$\begin{aligned} E &= 4 \\ H &= 26 \\ A &= 26 \\ J &= 27 \\ G &= 17 \\ C &= 21 \\ F &= 24 \\ B &= 31 \\ I &= 28 \\ D &= 25 \end{aligned}$$

$$\begin{aligned} 2 + 20 &= \underline{\hspace{2cm}} \bullet \\ 9 + 20 &= \underline{\hspace{2cm}} \bullet \\ 14 + 2 &= \underline{\hspace{2cm}} \bullet \\ 13 + 17 &= \underline{\hspace{2cm}} \bullet \\ 3 + 19 &= \underline{\hspace{2cm}} \bullet \\ 5 + 19 &= \underline{\hspace{2cm}} \bullet \\ 20 + 14 &= \underline{\hspace{2cm}} \bullet \\ 7 + 4 &= \underline{\hspace{2cm}} \bullet \\ 4 + 18 &= \underline{\hspace{2cm}} \bullet \\ 12 + 14 &= \underline{\hspace{2cm}} \bullet \end{aligned}$$

$$\begin{aligned} B &= 22 \\ H &= 29 \\ A &= 22 \\ J &= 26 \\ G &= 22 \\ E &= 34 \\ C &= 24 \\ I &= 16 \\ D &= 11 \\ F &= 30 \end{aligned}$$

Saatlerin gösterdiği zamana göre tabloyu dolduralım



Öğleden Önce	12.30			
Öğleden Sonra				

İşlemleri sonuçlarıyla eşleştirelim

$$\begin{aligned} 23 + 49 & \\ 36 + 37 & \\ 48 + 29 & \\ 35 + 27 & \\ 62 + 19 & \end{aligned}$$

73  
77  
62  
72  
81

$$\begin{aligned} 89 - 59 & \\ 73 - 25 & \\ 57 - 38 & \\ 64 - 17 & \\ 55 - 37 & \end{aligned}$$

48  
19  
30  
18  
47

MINI TEST



Yukarıdaki şemsiye sayısının çeyreği kaç tanedir?

- A) 4      B) 5      C) 6

11.15

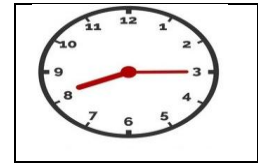
Yukarıdaki saatin okunuşu kaçtır?

- A) On biri on beş geçiyor  
B) On bire on beş var  
C) On biri kırk beş geçiyor



Yukarıdaki kalemleri 3 öğrenciye paylaşırsam her öğrencinin kaç kalemi olur?

- A) 6      B) 8      C) 12



Yukarıdaki saat kaç göstermektedir?


- A) 6.45      B) 7.15      C) 8.15


10.30	5.15	2.00
22.30	15.15	14.00


Tabloda hangi renkte hata yapılmıştır?


- A) mor      B) mavi      C) yeşil

Verilen işlemlerin sonuçlarını yazdım

$5 \times 5 =$ _____	$9 \times 7 =$ _____		$9 \times 8 =$ _____
$6 \times 7 =$ _____	$27 : 3 =$ _____		$5 \times 6 =$ _____
$6 \times 3 =$ _____	$18 : 3 =$ _____		$1 \times 3 =$ _____
$54 : 6 =$ _____	$7 : 7 =$ _____		$56 : 8 =$ _____
$36 : 6 =$ _____	$10 \times 7 =$ _____		$8 \times 7 =$ _____

$9 \times 9 =$ _____	$9 : 3 =$ _____		$32 : 4 =$ _____
$56 : 7 =$ _____	$3 \times 9 =$ _____		$8 \times 6 =$ _____
$36 : 4 =$ _____	$18 : 9 =$ _____		$7 \times 6 =$ _____
$54 : 6 =$ _____	$6 \times 7 =$ _____		$9 \times 7 =$ _____
$6 \times 8 =$ _____	$45 : 5 =$ _____		$27 : 9 =$ _____

$32 : 4 =$ _____	$72 : 8 =$ _____		$42 : 7 =$ _____
$63 : 7 =$ _____	$18 : 3 =$ _____		$15 : 5 =$ _____
$42 : 6 =$ _____	$28 : 7 =$ _____		$4 : 4 =$ _____
$4 : 2 =$ _____	$28 : 4 =$ _____		$15 : 3 =$ _____
$24 : 8 =$ _____	$18 : 6 =$ _____		$21 : 7 =$ _____

$14 : 7 =$ _____	$18 : 2 =$ _____		$72 : 8 =$ _____
$24 : 3 =$ _____	$56 : 8 =$ _____		$18 : 9 =$ _____
$40 : 5 =$ _____	$28 : 4 =$ _____		$20 : 4 =$ _____
$20 : 5 =$ _____	$18 : 6 =$ _____		$16 : 8 =$ _____
$24 : 4 =$ _____	$48 : 6 =$ _____		$42 : 7 =$ _____

İşlem sonuçlarını verilen renklere göre boyayalım

82 + 14 =

20 + 36 =

21 + 37 =

42 + 52 =

41 + 46 =

20 + 27 =

45 + 54 =

13 + 45 =

33 + 12 =

73 + 13 =

24 + 20 =

17 + 31 =

61 + 36 =

21 + 15 =

19 + 10 =

17 + 61 =

54 + 23 =

12 + 30 =

23 + 33 =

10 + 46 =

63 + 12 =

23 + 16 =

23 + 33 =

24 + 34 =

60 + 19 =

1 ile 50 arası turuncu



51 ile 100 arası mavi

