



## TOPLAMA İŞLEMİ PROBLEMLER


1. 10 ' nun 6 fazlası kaçtır ?


2. 8 ' e 9 eklersek kaç olur?

3. Vazoya 7 tane çiçek koydum. Ablam ise 6 tane çiçek koydu. Vazoda kaç tane çiçek olmuştur?


4. Dedem dün 12 tane koyun sattı. Bugün ise 7 tane koyun sattı. Dedem kaç tane koyun satmıştır?


Bulduğunuz sonuçları soru numaralarıyla eşleştirelim.

(14) (....)	(12) (....)	(13) (....)	(9) (....)	(19) (....)	(8) (....)	(17) (....)	(16) (....)
-------------	-------------	-------------	------------	-------------	------------	-------------	-------------


5. Cemil önce 6 tane , sonra 6 tane daha fındık yemiştir. Cemil kaç tane fındık yemiştir?

6. Ece 5 yaşındadır. Soner ise Ece'den 3 yaş büyüktür. Soner kaç yaşındadır?

7. 10 ' un 4 fazlası kaç olur?

8. Ece 5 yaşındadır. Soner ise Ece'den 4 yaş büyüktür. Soner kaç yaşındadır?