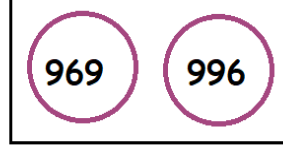
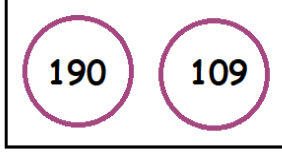
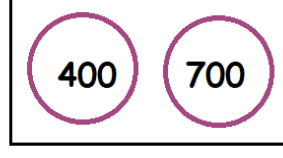

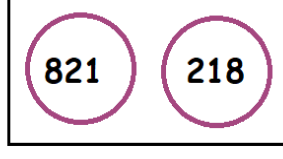
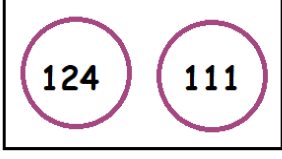

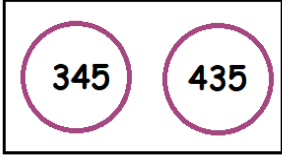


ADI SOYADI:

MINI TEST

563

Sayı çiftlerinden büyük olanı boyayalım.



Sayılardan en büyük olanı sarıya, en küçük olanı yeşile boyayalım..



Yukarıdaki sayıdan büyük en küçük sayı kaçtır?

A) 562

B) 564

C) 599

632 sayısından küçük en büyük sayı 633'tür.

101 sayısının birler ve yüzler basamağı yer değiştirirse oluşan sayı ile ilk sayı eşit olur.

375 sayısı ,390 dan büyük 370 ten küçüktür.

Yukarıdaki ifadelere doğruysa "D" harfi, yanlışsa "Y" harfi yazıldığında ,hangi seçenekteki sıralamaya ulaşırsınız?

A) YDY

B) YDD

C) DDD

419	914	941
149	194	491

Tablodaki en büyük ve en küçük sayının renkleri hangi seçenekte verilmiştir?

A) sarı-gri

B) yeşil- mavi

C) mor-mavi

538

835

853

358

385

Yukarıdaki sayıların büyükten küçüğe doğru sıralanışı hangi seçenekte doğru verilmiştir?

A) 835>853>538>385>358

B) 853>835>538>358>385

C) 853>835>538>385>358

Beş yüz  
seksen altı

Beş yüz  
altmış sekiz

Sekiz yüz elli  
altı

Altı yüz  
seksen beş

Yukarıda okunuşu verilen en küçük sayı ile en büyük sayının yazılışı hangi seçenektir?

A) 586-865

B) 568-856

C) 685- 865

Sayılar arasına  $>$ ,  $<$  ve  $=$  sembollerinden uygun olanı yazalım.

127	$<$	345
256		168
512		678
900		799
379		379
908		809

537		589
798		901
622		622
270		207
505		550
999		900

Verilen sayılar arasına uygun sayıları yazalım.

345	341	340
678		672
987		990
378		386
290		293
210		266

3.SINIF MATEMATİK 4

487	480	478
654		652
701		710
149		194
333		330
276		256

Sayılardan bir önce ve bir sonra geleni yazalım.

344	345	346
	801	
	499	
	592	
	159	
	700	

Sayıları büyükten küçüğe doğru sıralayalım.

689	101	363	477	361
397	250	937	765	984
699	787	13	854	686
197	850	755	828	404
596	629	736	860	844


Sayıları küçükten büyüğe doğru sıralayalım.

234	435	243	539	156
190	901	678	687	910
500	765	777	289	298
355	533	335	553	353
978	789	987	897	879


Sayılar arasına uygun iki sayı yazalım.

400		464
800		831
300		333
100		187
500		505
700		770

Verilen rakamlarla ifadelere göre sayıları yazalım.

2  
5  
8

Rakamlarıyla yazılabilecek en büyük sayı  
Rakamlarıyla yazılabilecek en küçük sayı  
800 den küçük en büyük sayı  
500 den büyük en küçük sayı

9  
0  
3

Rakamlarıyla yazılabilecek en büyük sayı  
Rakamlarıyla yazılabilecek en küçük sayı  
900 den büyük en küçük sayı  
300 den büyük en küçük sayı

İki basamaklı en büyük sayı

İki basamaklı en küçük sayı

İki basamaklı rakamları farklı en büyük sayı

İki basamaklı rakamları farklı en küçük sayı

Üç basamaklı en büyük sayı

Üç basamaklı en küçük sayı

Üç basamaklı rakamları farklı en büyük sayı

Üç basamaklı rakamları farklı en küçük sayı