





ÖZEL OKUL 2018 SORULARINDAN OLUŞMUŞTUR.

1. "Geçmek" sözcüğü aşağıdakilerin hangisinde "geride bırakmak" anlamında kullanılmıştır?
 A) İplik, iğne deliğinden zor geçti.
 B) Yavaş yavaş bu hirs geçer.
 C) Bu titizlik ona ailesinden geçmiş.
 D) Bizim yelkenli, öbür tekneyi geçti.
2. Köyün üst tarafındaki kulübenin önünde ateş yanıyor.
 Bu cümledeki altı çizili sözcüğün zıt anlamlısı aşağıdakilerden hangisidir?
 A) Arka B) Yan C) Alt D) Son
3. Aşağıdaki sözcükler alfabetik sıraya göre dizildiğinde hangisi son sırada yer alır?
 A) Hasret B) Hasta
 C) Hasar D) Hassas
4. Aşağıdakilerin hangisinde altı çizili sözcüğün eş anlamlısı doğru verilmiştir?
 A) Ben hür doğdum, hür yaşarım.
 özgür
 B) Bu masayı biraz ileri çekelim.
 geri
 C) Bazı yerlerde mola verdik.
 durak
 D) Koşarken birden yere düştü.
 eğildi
5. 1. kapağı
 2. dergisindeki
 3. hiç
 4. spor
 _____ beğenmemiş.
 Anlamli bir cümle oluşturmak için numaralanmış sözcükler, yukarıdaki boşluklara hangi sırayla yerleştirilmelidir?
 A) 1-2-4-3 B) 2-3-4-1
 C) 3-4-2-1 D) 4-2-1-3
6. Dün sabah, apartmanın girişinde yavru bir köpek gördüm.
 Bu cümlede aşağıdaki sorulardan hangisinin cevabı yoktur?
 A) Nerede? B) Niçin?
 C) Ne zaman? D) Ne?
7. Aşağıdaki cümlelerin hangisinde bir olay, nedeniyle birlikte verilmiştir?
 A) İlk defa ata bineceği için heyecanlıydı.
 B) Yosun kokan bir sokaktan sahile indik.
 C) Radyonun sesini sonuna kadar açmıştı.
 D) O sabah pazardan birçok tohum aldı.
8. Rıza, pencerenin önünde dışarıyı seyrediyormuş. Bahçedeki elma ağacının dalında minik bir serçe görmüş. Serçenin acıkmış olabileceğini düşünerek mutfağa koşmuş. Bir kaba ekmek kırıntısı koyarak ağacın altına bırakmış.
 Bu metinde aşağıdaki hikâye unsurlarından hangisi yoktur?
 A) Olay B) Yer
 C) Zaman D) Ana karakter
9. 1. Ama uyumakta zorlandı.
 2. Rüyasında bir ormanda yolunu kaybetmişti.
 3. O gece her zamanki saatinde yattı.
 4. Sabaha karşı uyuşabilirdi ve bir rüya gördü.
 Numaralanmış cümleler oluş sırasına göre nasıl sıralanmalıdır?
 A) 3-4-2-1 B) 3-1-4-2
 C) 4-3-1-2 D) 4-2-3-1
10. Sema ormanda yürürken yere gerilmiş bir sürü ip gözüne çarptı. İpler, örümcek ağı gibiydi. Toprağa çakılmış küçük tahta parçalarının aralarına gerilmişti. Yere düşmüş bir merdiven gibi görünüyordu.
 Bu metinde aşağıdaki sorulardan hangisinin cevabı yoktur?
 A) İpleri tahtalara kim germiştir?
 B) Tahta parçaları nereye çakılmıştır?
 C) İpler neye benzemektedir?
 D) Sema'nın dikkatini ne çekti?
11. Yeni demirleyen "Koleksiyoncu" adlı gemi yazlıktaki çocukların dikkatini çeker. Geminin sahibi de onlara çok gizemli gelir. Çocuklar, gemiye gizlice girmenin yolunu ararken güverteye çıkan kaptan onlara beklemedikleri bir davette bulunur.
 Bu metni en iyi ifade eden görsel aşağıdakilerden hangisidir?
 A)  B) 
 C)  D) 

12. Ne kadar güzelsin
Ne kadar başka
Yaşamak isterdim dallarında
Adarsam,
Sana adarım kendimi
Büyürüm meyvelerinde.
Bu dizelerde sözü edilen varlık aşağıdakilerden hangisidir?

A) Güneş
B) Ağaç
C) Ev
D) Toprak

13. Aşağıdaki cümlelerin hangisinde büyük harflerin kullanımıyla ilgili bir yazım yanlışı vardır?

A) Bu sene İzmir'e taşınmayı düşünüyorum.
B) Amcamlarla cumartesi günü havuza gideceğiz.
C) Buraya yeni bir Spor Salonu yapılıyor.
D) Ayşe, kedisinin ismini Şenlik koydu.

14. Feyza: Cep telefonları ısındıkça mikroplar için uygun ortam sağlıyor.
Zeliha: Peki, - - - ?
Feyza: Telefonu ara sıra ıslak mendille hafifçe silmeliyiz.
Zeliha: O zaman cep telefonunu elimize rahatça alabiliriz, öyle mi?
Feyza: Evet.

Bu konuşmada boş bırakılan yere aşağıdakilerden hangisi getirilmelidir?

A) nereye götürmeliyiz
B) ne yapmalıyız
C) niçin silmeliyiz
D) ne zaman kullanmalıyız

15. Hamsiden kızartma, köfte, çorba, pilav, güveç ve ekmeği yapılabiliyormuş.
Hamsiden bu kadar çok yemek yapıldığını bilmiyordum doğrusu!
- Murat
Çağlar

Çağlar'ın yaşadığı duygu aşağıdakilerden hangisidir?

A) Şaşkınlık B) Özlem C) Beğeni D) Pışmanlık

16. Küçük sevimli balık tatile gelenlerle tanışıp kaynaşmış. Tatil bitip tatilcilerin dönüş zamanı geldiğinde onlardan ayrılmak istememiş.

Aşağıdaki karikatürlerden hangisi bu durumu anlatır?



17. Aşağıdaki cümlelerin hangisinde karşılaştırma yapılmıştır?

A) Biz oyun oynarken çok gürültü yapıyoruz.
B) Gözlerinizin iyi görmesini isterseniz havuç yemelisiniz.
C) Bugün sizleri dostum uğur böceği ile tanıştıracam.
D) Denizde yüzmek, havuzda yüzmekten daha zevklidir.

18. Evi hemen temizlemeliyiz - - - bugün misafir gelecek.

Bu cümlede boş bırakılan yere aşağıdakilerden hangisi gelmelidir?

A) ve B) için C) çünkü D) fakat

19. Kirlarda koşmak () oynamak harikadır () Siz de bu duyguyu tattınız mı ()

Bu metinde ayrıca gösterilen yerlere sırasıyla aşağıdaki noktalama işaretlerinden hangileri getirilmelidir?

A) (-) (!) (.) B) (,) (.) (!)
C) (,) (!) (?) D) (-) (.) (?)

20. Oyunu oynamak isteyen kişiler arasından önce bir ebe seçilir. Diğerleri ebeye belli bir uzaklıkta belirlenen çizgide bekler. Ebe duvara dönüp "Davul zurna 1, 2, 3" derken arkadaşları da bu arada ebeye yaklaşıp başlar. Ebe, yüzünü döndüğünde herkes olduğu yerde hiç kıpırdanmadan durmalıdır. Hareket eden kişi oyundan çıkar. Bu böylece devam eder. Ebe herkesi oyundan çıkarırsa oyunu kazanır. Eğer arkası dönükken biri ebeye dokunursa ebe, oyunu kaybeder.

Bu oyunla ilgili görsel aşağıdakilerden hangisidir?



21.



Resimdeki kalemlere kaç kalem daha eklenirse 2 düzine kalem olur?

- A) 4 B) 6 C) 8 D) 10

22.

İki basamaklı bir doğal sayıdaki rakamların basamak değerleri farkı 59'dur.

Buna göre bu doğal sayının birler basamağındaki rakam kaçtır?

- A) 1 B) 5 C) 6 D) 9

23.

Mehmet 40'tan başlayıp geriye doğru beşer ritmik sayıyor. Hülya da 21'den başlayıp ileriye doğru üçer ritmik sayıyor.

Mehmet ve Hülya'nın söyledikleri üçüncü sayıların toplamı kaçtır?

- A) 45 B) 57 C) 61 D) 77

24.

Bir toplama işleminde toplananlardan biri 2 onluk 4 birlikten oluşmaktadır.

Toplam 3 onluk 2 birlikten oluştuğuna göre diğer toplanan kaçtır?

- A) 6 B) 8 C) 12 D) 18

25.

Bir satıcı 35 sarı ve 24 kırmızı balon satıyor. Sattığı kırmızı balonlardan 8 tane fazla mavi balon satıyor.

Bu satıcı kaç balon satmıştır?

- A) 61 B) 67 C) 80 D) 91

26.

$$\blacklozenge - 28 = 16$$

$$\blacklozenge - \blacksquare = 25$$

Yukarıdaki işlemlerde \blacklozenge ve \blacksquare birer doğal sayıdır.Buna göre \blacksquare kaçtır?

- A) 9 B) 17 C) 19 D) 44

27.



Resimde bir kırtasiyedeki kalem ve silginin fiyatları verilmiştir. Yunus bu kırtasiyeden 2 kalem ve 1 silgi almıştır.

Yunus kırtasiyeye kaç lira verirse 3 lira para üstü alır?

- A) 5 B) 10 C) 15 D) 20

28.

Selen her birinde 30 yumurta bulunan 2 koli yumurta alıyor. Taşırken yumurtaların bir kısmı kırılıyor.

Geride 48 yumurta kaldığına göre kaç yumurta kırılmıştır?

- A) 12 B) 18 C) 22 D) 28

29.

×	3	4
2		
3		

Verilen çarpım tablosu tamamlandığında aşağıdaki sayılardan hangisi tabloda yer almaz?

- A) 6 B) 8 C) 10 D) 12

30.

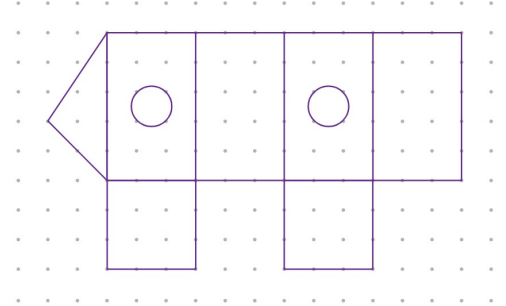


Resimdeki her bir yuvarlak masanın etrafına beş, kare masanın etrafına dört sandalye konulacaktır.

Buna göre kaç sandalyeye ihtiyaç vardır?

- A) 16 B) 17 C) 19 D) 20

31.

Noktalı kâğıttaki modelde en çok hangi geometrik şekil vardır?

- A) Dikdörtgen B) Kare
C) Çember D) Üçgen

32.



Verilen şekil 8 eş parçaya ayrılmış ve parçalardan 1 tanesi boyanmıştır.

Kaç parça daha boyanırsa şeklin yarısı boyalı olur?

- A) 4 B) 3 C) 2 D) 1

33.

$$46 - 18 = \square$$

Verilen eşitlikte \square yerine aşağıdakilerden hangisi yazılırsa eşitlik doğru olur?

- A) $46 - 20$ B) $54 - 17$
C) $16 + 22$ D) $9 + 19$

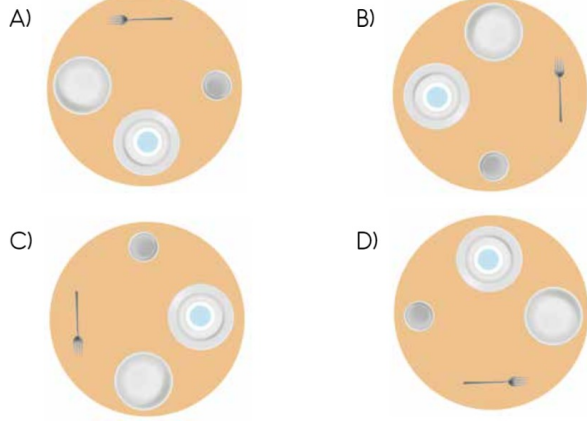
34. 5 arkadaş fiyatı 15 lira olan pastayı eşit miktarda para verip alıyorlar. Buna göre her biri kaç lira vermiştir?

A) 2 B) 3 C) 4 D) 5

35.



Resimdeki tepsi saat yönünde 3 çeyrek döndürülüyor. Bu durumda görüntüsü aşağıdakilerden hangisi gibi olur?




36. 16 cm uzunluğundaki bir çubuk iki eşit parçaya ayrılıyor. Parçalardan biri tekrar iki eşit parçaya ayrılıyor.

Oluşan büyük parça küçük parçadan kaç santimetre uzundur?

A) 8 B) 6 C) 4 D) 2

37. Aşağıda verilen örüntülerden hangisinin kuralı diğerlerinden farklıdır?



38. 45 dakika önce başlayan bir film 1 saat 15 dakika sonra bitecektir. Film saat 09.30'da başladığına göre saat kaçta bitecektir?

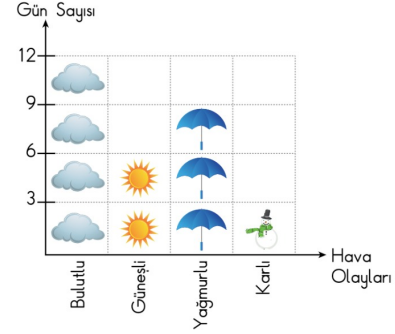
A) 10.15 B) 10.45 C) 11.00 D) 11.30

39. Oya, çocuğuyla birlikte tartıldığında kütleleri toplamı 68 kg'dır. Oya tek başına tartıldığında kütlesi 57 kg'dır.

Buna göre Oya'nın kütlesi çocuğunun kütlesinden kaç kilogram fazladır?

A) 11 B) 34 C) 46 D) 57

40. Grafik: Kasım Ayı Hava Olayları



Not: Her nesne 3 günü temsil etmektedir.

Verilen grafiğe göre güneşli gün sayısı karlı gün sayısından kaç fazladır?

A) 1 B) 3 C) 6 D) 9

41.



Atatürk, 19 Mayıs günü yurdumuzu düşmanlardan kurtarmak için Bandırma Vapuruna binerek, hangi renkteki ok yönünde ilerlemiştir?

A) Mavi B) Kırmızı C) Siyah D) Yeşil

42. Atatürk 29 Ekim'de - - - ilan ederek yönetim şeklimizi değiştirmiştir. Yukarıdaki boşluğa getirilmesi uygun olan kelime hangisidir?

A) kardeşliği B) cumhuriyeti
C) padişahlığı D) krallığı





43. Kurtuluş Savaşı'nı kazandığımız günü anmak için her yıl kutladığımız bayram aşağıdakilerden hangisidir?

A) Zafer Bayramı
B) Cumhuriyet Bayramı
C) Ramazan Bayramı
D) Ulusal Egemenlik ve Çocuk Bayramı

44. Bir okulda düzenlenen bilgi yarışmasında "İstiklal Marşı'mızın şairi kimdir?" sorusuna sembollerle gösterilen takımların verdiği cevaplar aşağıda gösterilmiştir.

Takım	Cevap
	→ İsmet İnönü
	→ Mehmet Akif Ersoy
	→ Kâzım Karabekir
	→ Mustafa Kemal Atatürk

Bu takimlerden hangisi soruya doğru cevap vermiştir?

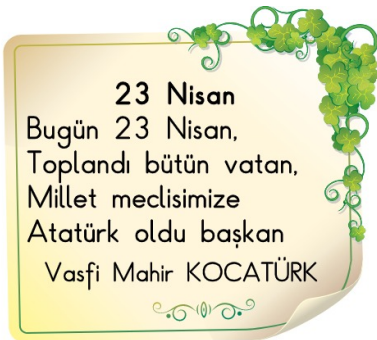
- A)  B) 
- C)  D) 
45. Bir sınıfta Cumhuriyet Bayramı ile ilgili pano hazırlanacaktır. Pano hazırlıkları sırasında aşağıdakilerden hangisinin yapılması uygun değildir?
- A) Öğretmenin öğrencilere fikirlerini sorması
B) Sınıftaki tüm öğrencilerin katılması
C) Öğrencilerin birbirleriyle yüksek sesle konuşması
D) Öğrencilerin işbirliği içinde çalışması

46. • Akrabalar ve komşular ziyaret edilir.
• Bayram namazına gidilir.
• Misafirlere ikramda bulunulur.

Özellikleri verilen bayram aşağıdakilerden hangisidir?

- A) Cumhuriyet Bayramı
B) Ramazan Bayramı
C) Ulusal Egemenlik ve Çocuk Bayramı
D) Zafer Bayramı

47.



Yukarıdaki dörtlük hangi bayram ile ilgilidir?

- A) Zafer Bayramı
B) Cumhuriyet Bayramı
C) Ramazan Bayramı
D) Ulusal Egemenlik ve Çocuk Bayramı

48.



Yukarıdaki haritada numaralandırılarak gösterilen alanların hangisinin içerisinde Türkiye yer almaktadır?

- A) 1 B) 2 C) 3 D) 4

49. Otobüs, tren gibi araçlarda yolculuk yaparken aşağıdaki davranışlardan hangisini yapmamalıyız?

- A) Koltuğa oturunca emniyet kemerini takmalıyız.
B) Ayakta yolculuk yapıyorsak bir yere sıkıca tutunmalıyız.
C) Sürücünün dikkatini dağıtacak davranışlardan uzak durmalıyız.
D) Camlardan kolumuzu veya başımızı çıkararak tanıdıklarımızı selamlamalıyız.

50.



Yukarıda verilen resimlerle okula giden Hasan'ın sınıfta yapacağı sunumun konusu ne olabilir?


- A) Meslekler B) Çevre
C) Doğal afetler D) Kroki hazırlama

51. Okul idaresi öğrencilerinden adres bilgilerini istemiştir.

Hangi öğrenci adresini tam olarak vermiştir?

- A) Yavuz : Karşıyaka Mahallesi, Gölbaşı
B) Alp : Çankaya ilçesi No: 48
C) Nazlı : Gülveren Mahallesi Gazel Sokak No:3 Mamak/Ankara
D) Zeynep : Yenimahalle, Metin Apartmanı, Ankara

52.



Yukarıdaki resimlerde hangi doğal afet gösterilmektedir?

- A) Çığ B) Deprem
C) Heyelan D) Sel

53. Bir öğrenci sınıfta konusunu anlatırken aşağıdaki afişleri kullanıyor.




Bu öğrenci hangi konuyu anlatmıştır?

- A) Yaşımıza uygun sporlar
B) Hayvanlardan elde edilen besinler
C) Sağlıklı büyümek için yapmamız gerekenler
D) Yemek yerken dikkat etmemiz gereken kurallar
54. Murat'ın 4 günlük öğle yemeğinde yediği besinler tabloda verilmiştir.

Pazartesi	Salı	Çarşamba	Perşembe
Makarna Gazoz Pasta	Kuru fasulye Bulgur pilavı Marul, domates salatası	Bulgur pilavı Baklava Patates cipsi	Patates cipsi Makarna Ekmek

Buna göre Murat hangi gün dengeli beslenmiştir?

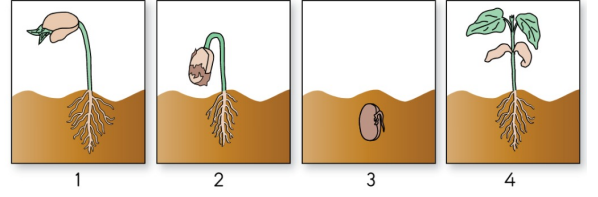
- A) Pazartesi
B) Salı
C) Çarşamba
D) Perşembe
55. Ayla, Mete'ye "Kaynakları doğru kullanıyorsun." demiştir. Buna göre Mete aşağıdakilerden hangisini yapmıştır?
- A) Dış fırçalarırken musluğu hep açık bırakmıştır.
B) Kitap okurken televizyonu çalıştırmıştır.
C) Evde kalorifer yanarken pencereyi açmıştır.
D) Uyuyacağı zaman odasındaki lambayı kapatmıştır.



Şekilde verilen hayvanlar ile ilgili aşağıdaki ifadelerden hangisi doğrudur?

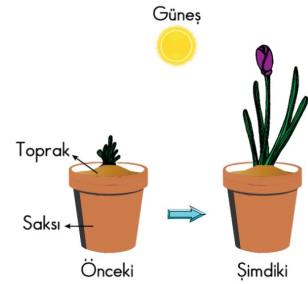
- A) Hepsi beslenir.
B) Hepsi süt verir.
C) Aynı besinle beslenirler.
D) Bazıları suda yaşar.

57. Şekilde fasulye bitkisinin büyümesi verilmiştir.



Buna göre hangi şekiller birbiriyle yer değiştirirse büyüme sıralaması doğru olur?

- A) 1 ve 2. B) 1 ve 3. C) 2 ve 4. D) 3 ve 4.
58. Bir öğrencinin saksıdaki toprağa diktği fidanın önceki ve şimdiki hali şekilde verilmiştir.



Buna göre öğrenci fidanın büyümesi için aşağıdakilerden hangisini yapmıştır?

- A) Saksıdaki toprağı sürekli azaltmıştır.
B) Bitkinin üstünü hava almayacak şekilde kapatmıştır.
C) Saksıyı ışık almayan dolaba koymuştur.
D) Toprağı düzenli olarak sulamıştır.
59. Aşağıda doğadaki bazı olaylar verilmiştir. Bunlardan hangisi deprem sonucu oluşur?



Orman yangını



Fırtına



Binaların yıkılması



Çok yağmur yağması

60. Öğrenciler çevre kirliliğine yol açan durumlara örnek veriyor.

Mehmet: Bahçeye fidan dikilmesi

Seda: Denize şişe ve pil atılması

Pelin: Fabrika bacasından duman çıkması

Murat: Çöplerin toprağa atılması

Buna göre hangi öğrenci yanlış örnek vermiştir?

A) Mehmet

B) Pelin

C) Seda

D) Murat