
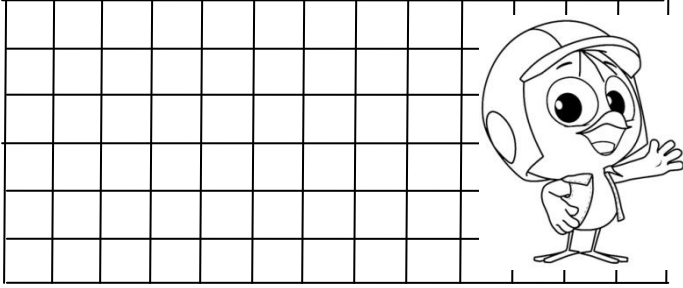


## TOPLAMA VE ÇIKARMA İŞLEMİ İLE İLGİLİ PROBLEMLER


1. Kutuda 49 tane boncuk vardı. Sinan boncukların 17 tanesini aldı. Kutuda kaç tane boncuk kalmıştır?



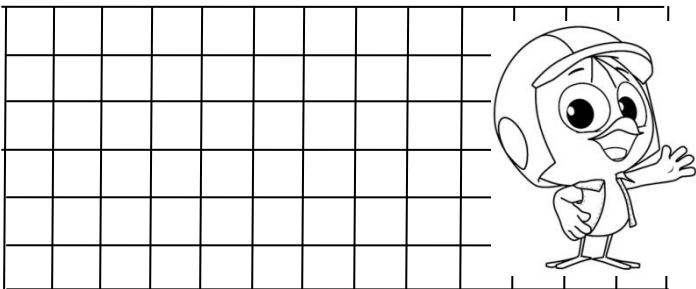
2. Sepette 17 tane sarı 12 tane kırmızı elma var. Sepette kaç tane elma vardır ?



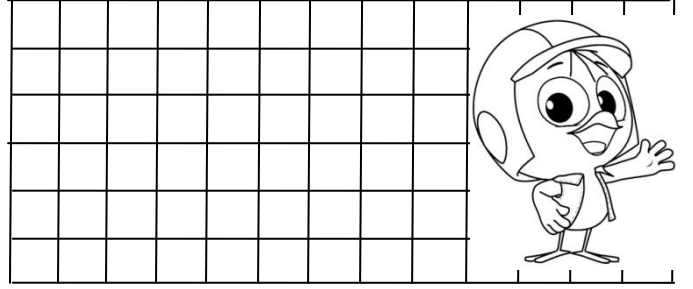
3. Tabaktaki fındıklardan 23 tanesini alınca geriye 6 tane fındık kalmış. Fındıkları almadan önce tabakta kaç tane fındık vardı?



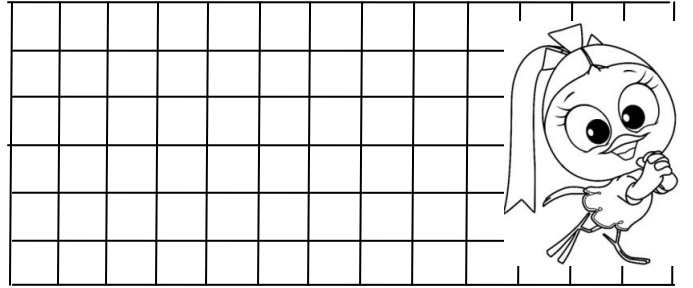
4. Amcamların 48 tane koyunu var. Keçilerinin sayısı ise koyulardan 26 azdır. Amcamların kaç tane keçisi vardır?



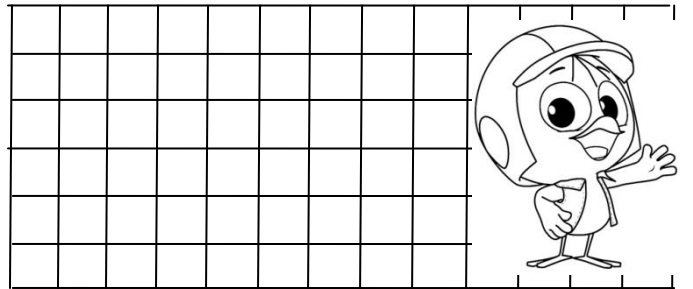
5. Okulun bahçesinde 67 tane öğrenci var. Öğrencilerin 24 tanesi okula girdi. Bahçede kaç tane öğrenci kaldı ?



6. Rana'nın 30 lirası vardı. Dayısı Rana'ya 20 lira verdi. Rana'nın kaç lirası oldu ?



7. Pazarcı 58 kilogram muzun 43 kilogramını satmış. Geriye kaç kilogram muz kalmıştır?



8. Bakkal öğleden önce 53 , öğleden sonra 34 tane ekmek satmış. Bakkal toplam kaç tane ekmek satmıştır ?

