

Adı :
Soyadı :
Sınıfı :

2.Sınıf

17.Hafta Etkinlikleri



Dersler	Konular	Sayfa Sayısı
Hayat Bilgisi	Sağlık İçin Temizlik	1
	Sağlığımız İçin Çalışanlar	2
Türkçe	Kelime Haritası ve Kelime Kartı	3
Matematik	Geometrik Şekilleri Sınıflandırma	3
	Geometrik Yapılar Oluşturma	3
Beden Eğt. ve Oyun	İsim-Şehir Oyunu	1
Okuduğunu Anlama	Antalya	2
Oku, Anla, Boya	Nihatların Salonu	1
Toplam		16



HASAN YILDIRIM

Eba TV ve yıllık plan ile uyumlu günlük testler için Fufuk Bilgi Yarışması'nı aşağıdaki linkten indirebilirsiniz.

<https://play.google.com/store/apps/details?id=nobody.fufuktest>

2.SINIF

FUFUK YARMIYIL TATIL SETİ

32 SAYFA

15 TL

3 KİTAP

Tatil Planı

BÜYÜK BOY KİTAPLAR

WHATSAPP SİPARİS **0 552 252 83 85** KARGO ÜCRETSİZ



HASAN YILDIRIM

En Güncel ve En Kaliteli Etkinlikler Burada

www.EtkinlikBurada.Com

Sitemiz Ücretli Mi?

Sitemiz tamamen ücretsizdir. Üye olmadan da sitemizdeki tüm dokümanları indirebilir, videoları izleyebilirsiniz. Eğer sitemize ücretsiz üye olup kanallara abone olursanız o kanalların yüklediği tüm etkinliklerden haberiniz olur ve sitede bildirim alırsınız.

Sen De Etkinliğini Paylaş

Öğretmenlerim, hazırladığınız özgün içerikleri sitemizde paylaşarak daha fazla öğrencimize faydalı olmasını sağlayabilirsiniz. Bunun için bir dakikada sitemize ücretsiz üye olmanız yeterli. Yüklediğiniz içerikler indirildikçe para da kazanmaya başlayabilirsiniz.

Detayları sitemizden öğrenebilirsiniz.

Sizin İçin Seçtiklerimiz

ISKENDER TAŞ ÇALIŞMA



1. Sınıf

1.SINIF "Ş" SESİ OKUMA ANLAMA METİN...

ISKENDER TAŞ ÇALIŞMA

ABONE OL

Hasan Yıldırım



2. Sınıf

2.Sınıf Okuduğunu Anlama Metni-18 (Izmir)

Hasan Yıldırım

ABONE OL

Ufuk KOCA



3. Sınıf

3.SINIF YENİ NESİL SORULAR

Ufuk KOCA

ABONE OL

Sinan TANRIVER



3. Sınıf

3. Sınıf 1. Dönem Sonu Deneme Sınavı 1

Sinan TANRIVER

ABONE OL

zmacit58



Zeka Etk.

Resfebe - 13 (Etkileşimli)

zmacit58

ABONE OL

MKESKİN



1. Sınıf

ETKİLEŞİMLİ 1.SINIF PARMAKLA TOPLAMA...

MKESKİN

ABONE OL

YUSUF KAYA



2. Sınıf

SIVİLERİ ÖLÇME PROBLEMLERİ

YUSUF KAYA

ABONE OL

Tebeşir Tozu



2. Sınıf

Geometrik Şekiller ve Özellikleri

Tebeşir Tozu

ABONE OL

Teacherlandd



Anaokulu

KARNE TAÇLARI

Teacherlandd

ABONE OL

nihalkaralikorkmaz



3. Sınıf

Işık Kaynakları Ders Notu

nihalkaralikorkmaz

ABONE OL

Adı :
Soyadı :
Sınıfı :

Hayat Bilgisi-2

Sağlık İçin Temizlik Şart



Bilgi: Mikroplar kirlı ortamlarda yaşarlar ve çoğalırlar. Bu nedenle temizliğe özen göstermeliyiz. Okullardaki lavabo ve tuvaletler, parklar, toplu taşıma araçları ortak kullanım alanlarıdır. Buraları kullandıktan sonra mutlaka ellerimizi yıkamalıyız. Mikrop-lardan korunmak için sadece ellerimizi yıkamak yeterli değildir. Düzenli olarak dişle-rimizi fırçalamalı, banyo yapmalı ve temiz kıyafetler giymeliyiz. Ayrıca evimizi, sınıfımızı ve yaşadığımız çevreyi de temiz tutmalıyız.

Aşağıdaki ifadelerden doğru olanların başındaki kutucuğa "D", yanlış olanların başındaki kutucuğa "Y" yazalım.

- | | |
|--------------------------|--|
| <input type="checkbox"/> | Mikroplar kirlı ortamlarda yaşarlar. |
| <input type="checkbox"/> | Sağlıklı olmak için dişlerimizi fırçalamaya gerek yoktur. |
| <input type="checkbox"/> | Çöpleri çöp kutusuna atmalıyız. |
| <input type="checkbox"/> | Düzenli olarak çevremizi kirletmeliyiz. |
| <input type="checkbox"/> | Düzenli olarak banyo yapmalıyız. |
| <input type="checkbox"/> | Dışarıda giydiğimiz kıyafetlerle yatağa girip uyumalıyız. |
| <input type="checkbox"/> | Mikroplardan korunmak için sadece ellerimizi yıkamak yeterlidir. |

Yaşadığımız çevreyi temiz tutmak için nelere dikkat etmeliyiz? Yazalım.

<p>.....</p> <p>.....</p> <p>.....</p> <p>.....</p> <p>.....</p>
--

Adı :
Soyadı :
Sınıfı :

Hayat Bilgisi-2

Sağlığımız İçin Çalışanlar-1



Bilgi: Hastalandığımızda aile hekimimize, aile sağlığı merkezine veya hastaneye gideriz. Doktor bizi muayene eder, gerekliyse ilaç yazar. Sağlık kuruluşlarında doktordan başka hemşire ve sağlık memurları da çalışır. Doktorun yazdığı reçete ile eczaneye giderek ilaçlarımızı alırız.

Sağlıkla ilgili meslekleri işaretleyelim.



Verilen görevler ile sağlık çalışanlarını eşleştirelim.

Doktorunuza yardımcı olurum.

Dişlerinizi kontrol ederek tedavisini yaparım.

Hastalandığınız zaman sizi muayene ederim.

Doktorunuzun yazdığı reçeteye göre ilaçlarınızı veririm.

Doktor

Hemşire

Eczacı

Diş Hekimi

Adı :
Soyadı :
Sınıfı :


Hayat Bilgisi-2

Sağlığımız İçin Çalışanlar-2



Aşağıdaki cümlelerde açıklanan sağlık kurumlarının adlarını yazalım. Sıra bildiren sayıları kullanarak görseller ile eşleştirelim.

1. Doktorumuzun yazdığı reçeteye göre ilaçlarımızı aldığımız sağlık kurumu.
2. Doktor, hemşire ve sağlık memurlarının çalıştığı büyük sağlık kurumu.
3. Aile hekimimizin çalıştığı sağlık kurumu.



Aşağıdaki ifadelerden doğru olanların başındaki kutucuğa "D", yanlış olanların başındaki kutucuğa "Y" yazalım.

- Dişlerimizin kontrolü için acil servis ekibine başvururuz.
- Doktorumuzun yazdığı reçeteye göre ilaçlarımızı eczaneden alırız.
- Doktorlara görevi esnasında eczacılar yardımcı olurlar.
- Her ailenin bir aile hekimi vardır.
- Hastalığımızı eczacıya söyleyerek uygun ilaç isteyebiliriz.
- Doktor olmadığı zaman veterinerlere muayene olabiliriz.

Adı :
Soyadı :
Sınıfı :

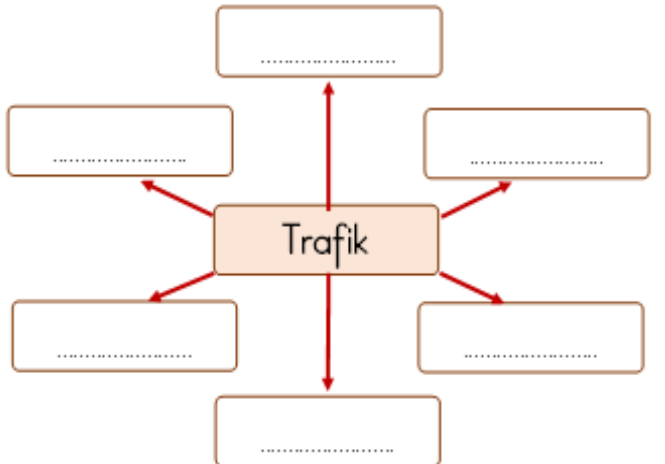
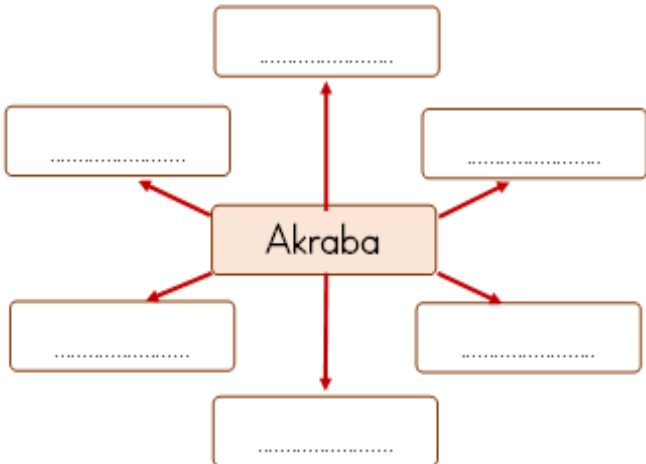
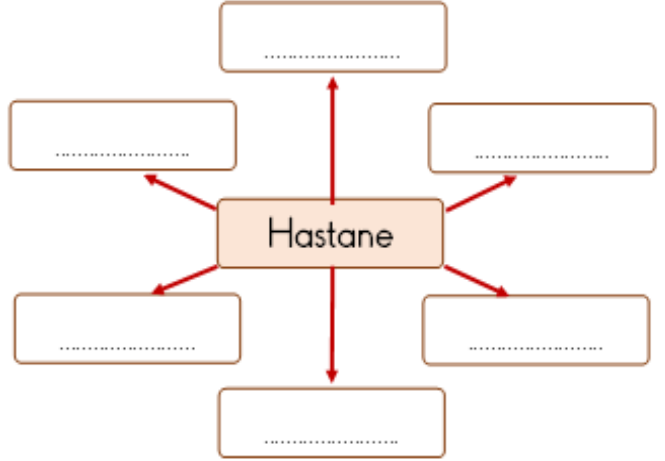
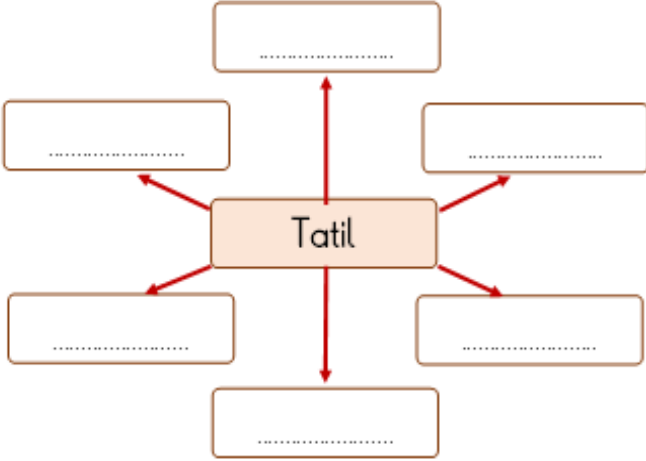
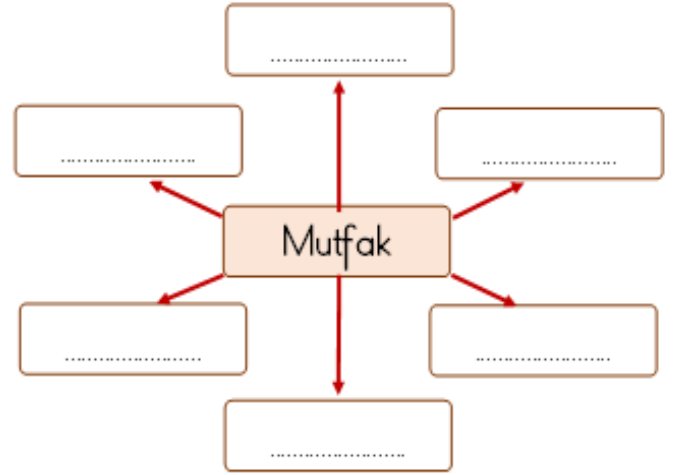
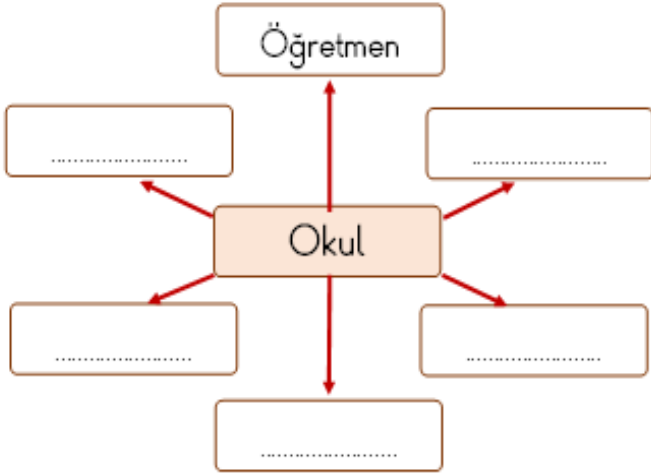
Türkçe-2

Kelime Haritası-1



Bilgi: Bir kelimenin çağrıştırdığı kelimelerle oluşturulan haritaya kelime haritası denir. Kelime haritaları sayesinde bir kelimenin anlamını daha iyi kavrayabiliriz.

Aşağıdaki kelime haritalarını örnekteki gibi tamamlayalım.



Adı :
Soyadı :
Sınıfı :

Türkçe-2

Kelime Haritası-2



Aşağıdaki kelimelerin çağrıştırdığı kelimeleri örnekteki gibi işaretleyelim.

ders

defter

oyuncak

kitap

kalem

park

kaşık

salıncak

kaydırak

televizyon

eczane

ilaç

şurup

makarna

ayakkabı

okul

tamirci

müdür

kantinci

öğretmen

sınıf

tahta

sıra

lavabo

tencere

ağaç

yaprak

meyve

dal

kök

kümes

eşek

tavuk

yumurta

süt

bisiklet

tekerlek

pedal

benzin

kanat

salon

yatak

koltuk

televizyon

fırın

Adı :
Soyadı :
Sınıfı :


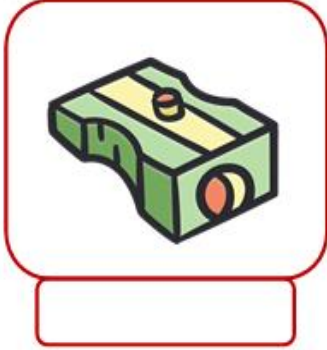

Türkçe-2

Kelime Kartları



Bilgi: Kelime kartları ile birçok oyun oynayabiliriz. Bu oyunlar sayesinde yeni kelimeler öğrenebilir ve kelime dağarcığımızı zenginleştirebiliriz.

Aşağıdaki kelime kartlarını inceleyerek görsellerin ifade ettiği sözcükleri altlarına yazalım.



Adı :
Soyadı :
Sınıfı :

Matematik-2

Geometrik Şekilleri Sınıflandırılım-1



Bilgi: Geometrik şekilleri köşe ve kenar sayılarına göre sınıflandırabiliriz.

Aşağıdaki geometrik şekillerin adlarını, köşe ve kenar sayılarını yazalım.

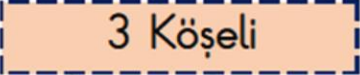
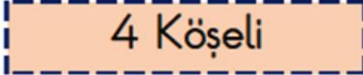
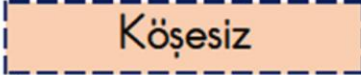




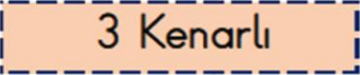
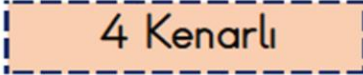
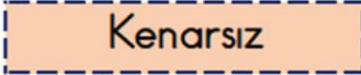
	Adı :
	Köşe Sayısı :
	Kenar Sayısı :

	Adı :
	Köşe Sayısı :
	Kenar Sayısı :

	Adı :
	Köşe Sayısı :
	Kenar Sayısı :

	Adı :
	Köşe Sayısı :
	Kenar Sayısı :

Aşağıdaki geometrik şekilleri köşe ve kenar sayılarına göre uygun kutucuklarla eşleştirelim.

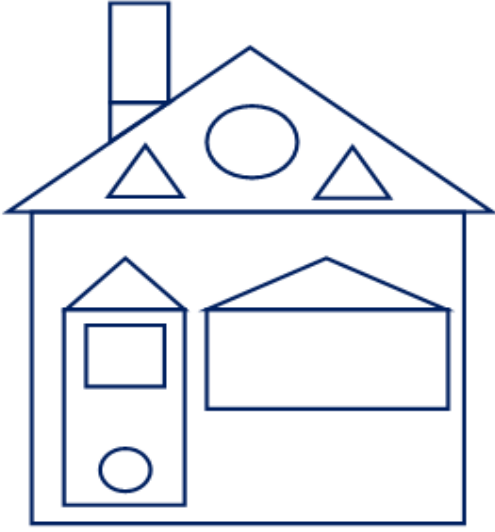
Adı :
Soyadı :
Sınıfı :

Matematik-2

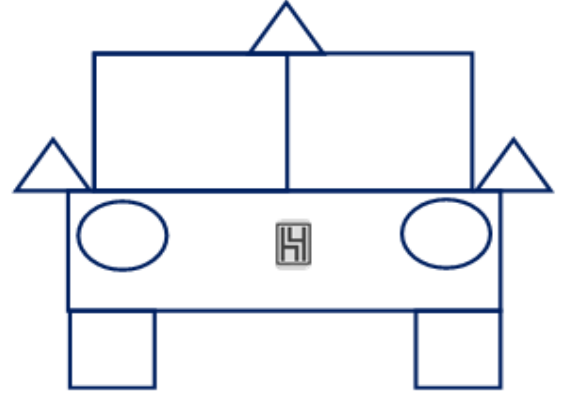
Geometrik Şekilleri Sınıflandırılım-2



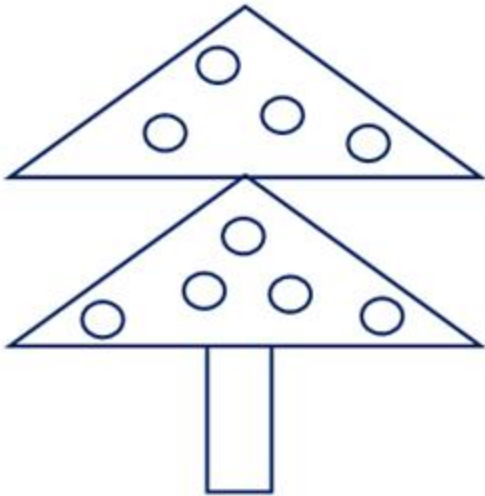
Aşağıdaki görsellerde bulunan geometrik şekil sayılarını yazalım. Geometrik şekilleri belirtilen renklere boyayalım.



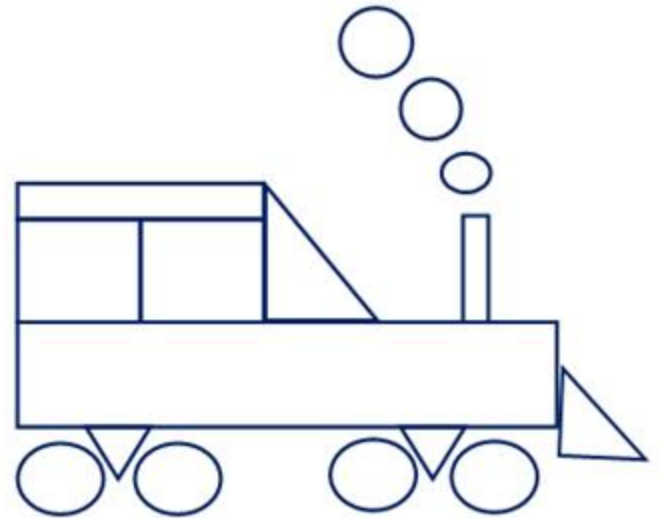
.... tane üçgen (kırmızı)
.... tane kare (mavi)
.... tane çember (sarı)
.... tane dikdörtgen (yeşil)



.... tane üçgen (kırmızı)
.... tane kare (siyah)
.... tane çember (sarı)
.... tane dikdörtgen (kırmızı)



.... tane üçgen (yeşil)
.... tane çember (kırmızı)
.... tane dikdörtgen (kahverengi)



.... tane üçgen (kırmızı)
.... tane kare (siyah)
.... tane çember (gri)
.... tane dikdörtgen (sarı)


Adı :
Soyadı :
Sınıfı :

Matematik-2

Geometrik Şekilleri Sınıflandırılım-3



Aynı renkteki noktaları birleştirerek geometrik şekiller oluşturalım. Şekilleri köşelerindeki renklere boyayalım. Boyadığımız geometrik şekillerin sayılarını yazalım.



Üçgen : Kare : Dikdörtgen : Çember :

Geometrik şekillerin köşe ve kenar sayılarını örnekteki gibi işaretleyelim.

Geometrik Şekil	Köşesiz	3 Köşeli	4 Köşeli	Kenarsız	3 Kenarlı	4 Kenarlı
			✓			✓
						
						
						

Adı :
Soyadı :
Sınıfı :

Matematik-2

Geometrik Yapılar Oluşturalım-1



Bilgi: Günlük hayatta birçok geometrik şekiller karşılarız. Evimizin çatısı üçgene, kapısı dikdörtgene, penceresi kareye, bisikletimizin tekerlekleri çembere benzer.



Günlük hayatta karşılaştığımız, geometrik şekillere benzeyen varlıkların resmini çizerek adını ve hangi geometrik şekle benzediğini örnekteki gibi yazalım.



Adı : Saat

Şekil: Çember



Adı :

Şekil:



Adı :

Şekil:



Adı :

Şekil:



Adı :

Şekil:



Adı :

Şekil:



Adı :

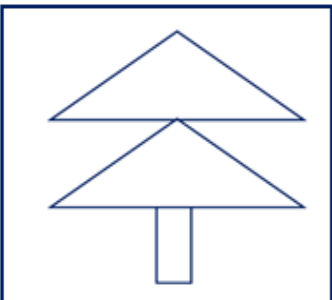
Şekil:



Adı :

Şekil:

Geometrik şekilleri kullanarak farklı yapılar oluşturalım. Oluşturduğumuz yapıdaki geometrik şekil sayısını örnekteki gibi belirtelim.



2 üçgen ve 1
dikdörtgen



.....
.....



.....
.....



.....
.....



All Rights Reserved

HASAN YILDIRIM

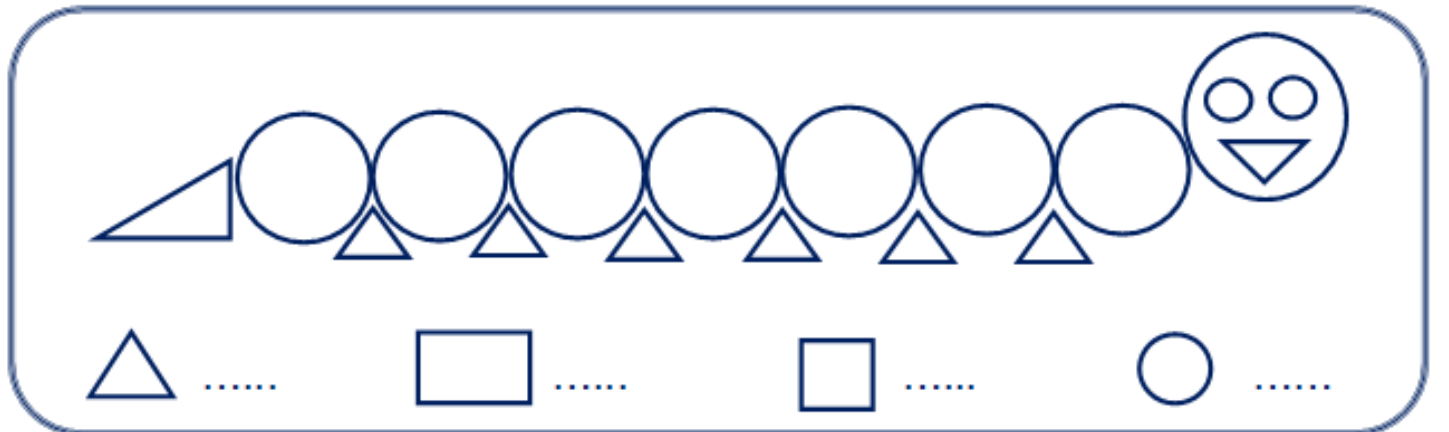
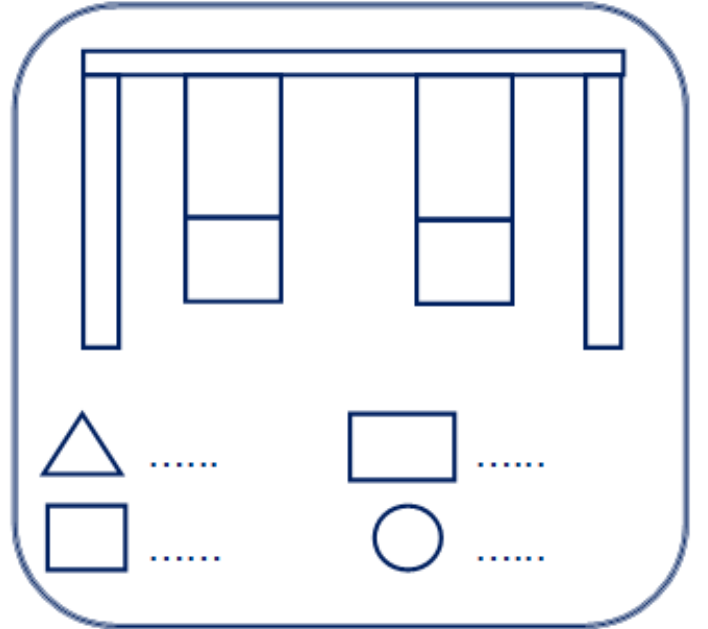
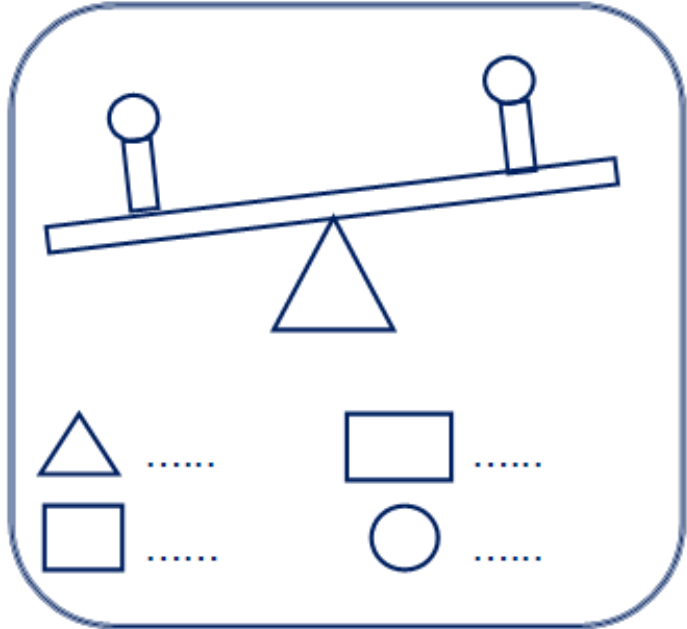
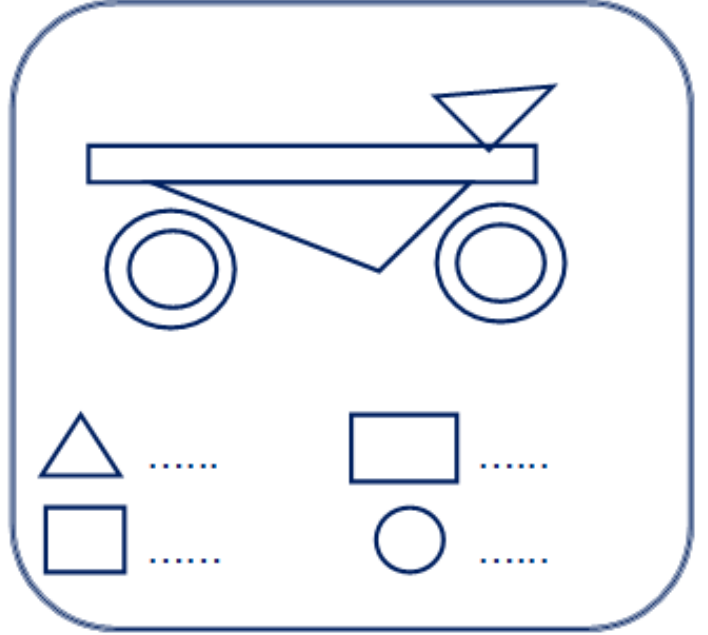
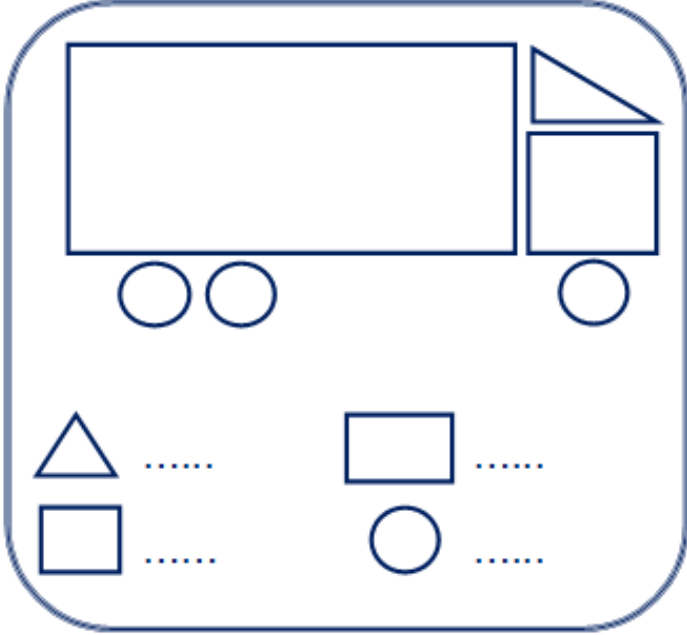
Adı :
Soyadı :
Sınıfı :

Matematik-2

Geometrik Yapılar Oluşturalım-2



Aşağıdaki yapılarda kullanılan geometrik şekillerin sayılarını yazalım.






Adı :
Soyadı :
Sınıfı :

Matematik-2


Geometrik Yapılar Oluşturalım-3



Aşağıdaki cisimlerin bir yüzünü kullanarak oluşturabileceğimiz şekilleri noktalı bölgeye çizelim.



Geometrik şekilleri kullanarak bir yapı oluşturup boyayalım.



Adı :
Soyadı :
Sınıfı :

2.SINIF

Okuduğunu Anlama Metni-19



Aşağıdaki metni dikkatle okuyalım. Okurken metnin içindeki sorularda durarak soruları cevaplayalım. Daha sonra metni dakika tutarak beş defa okuyalım.

ANTALYA



(Patara Antik Kenti)

Mustafa Kemal Atatürk'ün "Şüphesiz ki Antalya, Dünya'nın en güzel yeridir." diyerek övdüğü Antalya, ülkemizin güneyinde, Akdeniz'in kıyısındadır.

Tarihi ve doğal güzellikleri ile Antalya, her yıl yerli ve yabancı turistlerin vazgeçilmez adresidir. Bu nedenle Antalya'nın ekonomisinde turizm önemli yer tutar. Ayrıca Antalya tarımda da ülkemizde önemli bir yere sahiptir. Antalya'nın kıyı kesimlerinde portakal, muz, avokado gibi tropikal bitkilerin yanında seracılık da yapılır. Yetiştirilen tarım ürünleri ülkemizin ihtiyacını karşıladığı gibi farklı ülkelere de ihraç edilerek ülkemize gelir sağlanmış olur.

Soru: 'İhraç' kelimesini hiç duydun mu?



(Atatürk'ün Kepez girişindeki heykeli ve sözü)

Tarih boyunca birçok medeniyete ev sahipliği yapmış Antalya, ülkemizde en çok antik kent bulunan ildir. Side, Aspendos, Perge, Termessos, Patara, Olympos ve Phaselis bu antik kentlerden bazılarıdır. Ayrıca Antalya'da kale, cami, saat kulesi, köprü gibi birçok tarihi yapı da bulunur.

Hasan YILDIRIM
(İllerimiz-4)

Okuma	1.Okuma	2.Okuma	3.Okuma	4.Okuma	5.Okuma
Süreleri					

Adı :
Soyadı :
Sınıfı :

2.SINIF

Okuduğunu Anlama Metni-19



Aşağıdaki soruları okuduğumuz metne göre cevaplayalım.

SORULAR

1-Atatürk, Antalya için ne demiştir?

.....
.....

2-Antalya hangi denizin kıyısındadır?

.....

3-En çok antik kent hangi ilimizdedir?

.....
.....

4-Antalya kimlerin vazgeçilmez adresidir?

.....


5- Antalya'da hangi bitkiler yetişir?

.....

6- Yetiştirilen tarım ürünleri ne yapılırlar?

.....
.....

Aşağıdaki görselde yer alan, Antalya il merkezinde bulunan saat kulesi ile yivli minareyi görselle bakarak çizelim ve boyayalım.



All Rights Reserved

HASAN YILDIRIM


Adı :
Soyadı :
Sınıfı :

2.SINIF
Oku, Anla, Boya-7



Boyalarınızı hazırlayınız. Metni okuyunuz. Metinde belirtilen renklere göre resmi boyayınız. Eksik kalan yerleri istediğiniz renge boyayabilirsiniz.

NİHATLARIN SALONU



Burası Nihatların evinin salonu. Salonun zemininde sarı parkeler var. Salonun duvarları turuncu renklidir. Duvarda kahverengi çerçeveli bir tablo asılı. Tabloda gökyüzünde uçan iki kuş var. Salonun ortasında kahverengi bir halı var. Halının üzerindeki sehpa ve koltuklar gri renklidir. Koltukların üzerinde sarı, kırmızı, mavi ve yeşil renklerde yastıklar var. Salonun köşesinde kahverengi sehpalı gri bir abajur var.