

MATEMATİK

1. Etkinlik: Aşağıdaki tabloda verilen numaralı cisimleri özelliklerine göre ait oldukları sepetlere numaralarını yazınız.



Köşeli olan cisimler sepeti


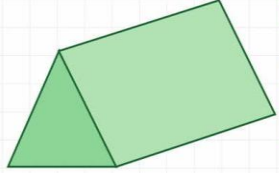
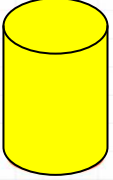


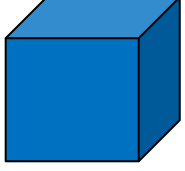
Köşesiz olan cisimler sepeti



Yuvarlanabilen cisimler sepeti



2. Etkinlik: Aşağıdaki geometrik cisimleri oluşturan yüzleri hangileri ise işaretleyiniz .

 <ul style="list-style-type: none"><input type="checkbox"/> Kare<input type="checkbox"/> Üçgen<input type="checkbox"/> Çember	 <ul style="list-style-type: none"><input type="checkbox"/> Üçgen<input type="checkbox"/> Kare<input type="checkbox"/> Dikdörtgen
 <ul style="list-style-type: none"><input type="checkbox"/> Kare<input type="checkbox"/> Dikdörtgen<input type="checkbox"/> Çember	 <ul style="list-style-type: none"><input type="checkbox"/> Üçgen<input type="checkbox"/> Dikdörtgen<input type="checkbox"/> Çember
 <ul style="list-style-type: none"><input type="checkbox"/> Kare<input type="checkbox"/> Dikdörtgen<input type="checkbox"/> Çember	 <ul style="list-style-type: none"><input type="checkbox"/> Üçgen<input type="checkbox"/> Dikdörtgen<input type="checkbox"/> Kare

Aşağıdaki görsellerin yüzlerinin benzediği geometrik şekil ile eşleştiriniz.

