






TABLO OKUMAYI ÖĞRENİYORUM

Bir sınıfta okuyan öğrencilere gelecekte hangi mesleği seçmek istedikleri soruldu. Alınan yanıtlar tablo şeklinde gösterildi. Tabloya bakarak soruları yanıtlayınız.

Meslek Adları	Meslekler
Öğretmen	
Doktor	
Polis	
Futbolcu	
Pilot	

1. Tabloda en çok sevilen meslek hangisidir?
.....
2. Tabloda en az sevilen meslek hangisidir?
.....
3. Tabloda polis olmayı seçen kaç kişi vardır?
.....
4. Tabloda öğretmen olmayı düşünen kaç kişi vardır?
.....
5. Tabloya göre futbolcu olmak isteyen kaç kişi bulunmaktadır?
.....
6. Tabloya göre doktor ve öğretmen olmak isteyenlerin toplamı kaç kişidir?
.....
7. Tabloya göre futbolcular, pilot olmak isteyenlerden kaç kişi fazladır?
.....

Bir sınıftaki öğrencilere en sevdikleri meyveler sorulmuştur. Alınan sonuçlar tabloda gösterilmiştir. Tabloya bakarak soruları yanıtlayınız.

Meyve Adları	Meyveler
Elma	
Portakal	
Üzüm	
Muz	
Elma	

1. En çok sevilen meyve hangisidir?
.....
2. En az sevilen meyve hangisidir?
.....
3. Çilek ve portakal sevenlerin toplamı kaçtır?
.....
4. Elma ile muz sevenler toplamı kaçtır?
.....
5. Üzümler, portakal sevenlerden kaç fazladır?
.....
6. Çilekler, muz sevenlerden kaç fazladır?
.....
7. Bu sınıfta toplam kaç öğrenci bulunmaktadır?
.....