


2. SINIFLAR HAYAT BİLGİSİ DERSİ 2.DÖNEM 1. KAZANIM DEĞERLENDİRME SINAVI

1. Aşağıdaki öğrencilerden hangisi oyun araçlarını güvenli bir şekilde kullanmaktadır?




2. Teknolojik araçların kullanımıyla ilgili olarak hangisi yanlıştır?




- A) Bilgisayar ve tablet başında uzun zaman geçirmek sağlığa zararlıdır.
B) Bilgisayar ve tablet başında geçirdiğimiz süreleri günde üç saatle sınırlamamız doğru olur.
C) Çocukların cep telefonunu eğlence amacıyla kullanmaları doğru değildir.

3. Hepimize ulaşabileceğin ortak acil durum numarası hangisidir?



A) 110 B) 155 C) 112


4. Gel de sana limonata ikram edeyim.



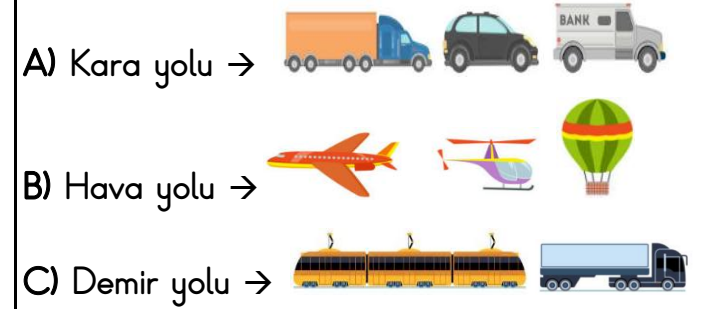
Emre tanımadığı bir kişiden gelen bu teklif karşısında nasıl cevap vermeli ve nasıl davranmalıdır?

- A) "Hayır, teşekkür ederim." deyip oradan uzaklaşmalıdır.
B) "Çok iyi olur, susamıştım zaten." deyip teklifi kabul etmelidir.
C) "Hemen uzaklaş buradan!" deyip çığlık atmalıdır.

5. Arabada yolculuk yapan bu çocuklardan hangileri güvenli yolculuk kurallarına uymuştur?



6. Ulaşım araçları ve yolları ile ilgili eşleştirmelerden hangisi yanlıştır?



7. Kış mevsiminde aşağıdaki giysilerden hangilerini giymeliyiz?



△ Dengeli beslenmeliyiz.

○ Sadece canımızın istediği şeyleri yemeliyiz.

☆ Düzenli beslenmeliyiz

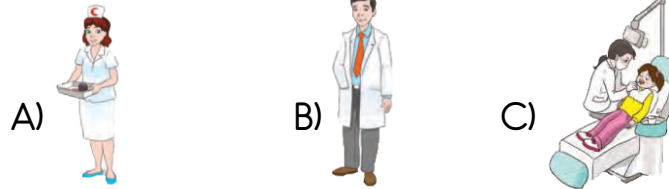
8. Sağlıklı beslenme ile ilgili bilgilerden hangileri doğrudur?

A) △ ○ B) ☆ ○ C) △ ☆

2. SINIFLAR HAYAT BİLGİSİ DERSİ 2.DÖNEM 1. KAZANIM DEĞERLENDİRME SINAVI

Doktora yardımcı olur. Hastaların kontrollerini gerçekleştirir, doktora bilgi verir. Ayrıca aşı, iğne, yara temizliği ve bakımını gerçekleştirir.

9. Yukarıda sözü edilen sağlık çalışanı kimdir?



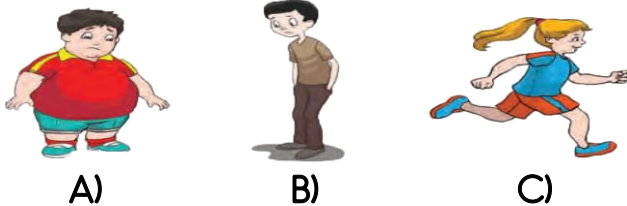
10. Hapşırırken bir mendile, mendil yoksa dirseğinize hapşırmanız. Sonrasında da ilk fırsatta ellerinizi yıkamalısınız. Bunun en önemli nedeni nedir?

- A) Ellerimizle mikropları başkalarına bulaştırabiliriz.
B) Çünkü para cezası vardır.
C) Çünkü bu bir kuraldır.

Kapı kolları Sabunlar
Paralar Merdiven korkulukları
Otobüs tutacakları Temiz havlular

11. Yukarılardan kaç tanesi mikropların en çok bulunabileceği yerlerdir?

- A) 3 B) 4 C) 5



13. Hangi çocuk görgü kurallarına uygun olarak yemek yemektedir?

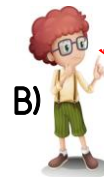


14. Hangi öğrencinin yemek listesi öğle yemeği için uygun ve dengeli değildir?


Mercimek çorbası, patatesli tavuk, bulgur pilavı, salata.



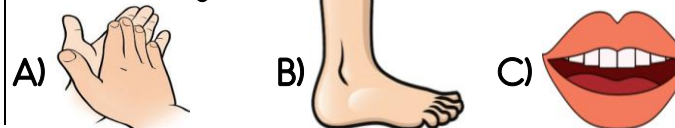
B) Patates kızartması, pizza, makarna, gazlı içecek.



Yoğurt çorbası, sebzeli köfte, makarna, sütlaç.



15. Sağlığımız için gün içerisinde en çok vücudumuzun hangi bölümünün temizliğine dikkat etmeliyiz?



16. Aşağıdakilerden hangisi yemekten önce uyulması gereken kurallardan değildir?

- A) Sofraya vaktinde oturmak
B) Çatal, kaşık kullanmak
C) Ellerimizi yıkamak

17. Ev adresinde aşağıdakilerden hangisi bulunmaz?

- A) Kapı numarası B) Telefon numarası
C) Sokak adı

18. "Her insan yetenek ve sahiptir." Noktalı yerlere sırasıyla hangileri gelmelidir?

- A) aynı - güce B) farklı - özelliklere
C) eşit - becerilere

19. Aşağıdakilerden hangisi arkadaşımızda olması gereken bir davranış değildir?

- A) Nazik olmak B) Paylaşımca olmak
C) Kibirli olmak

20. Bireylerin;

△: saçları

○: yetenekleri

☆: boy uzunlukları

ifadelerinden hangileri fiziksel özellikleri oluşturur?

- A) △ ○ B) ☆ ○ C) △ ☆