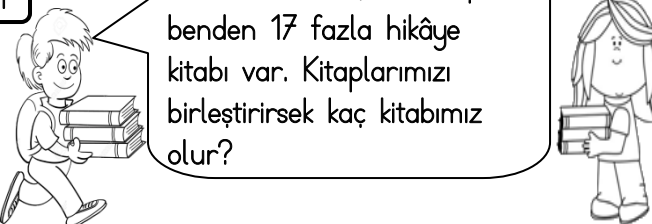



1 Benim 26 tane, arkadaşımın benden 17 fazla hikâye kitabı var. Kitaplarımızı birleştirirsek kaç kitabımız olur?



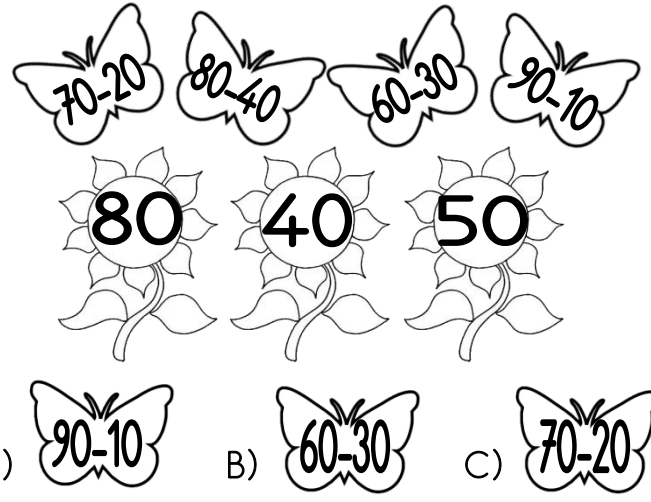
A) 43 B) 69 C) 60

4 Merhaba Dünyalı. 36 sayısına hangi sayıyı eklersem 78 sayısına ulaşırım?




A) 42 B) 52 C) 62

7 Kelebekler üzerlerindeki çıkarma işlemlerini yapıp, sonucunun bulunduğu çiçeğe konarsa hangi kelebek açıkta kalır?




A) 90-10 B) 60-30 C) 70-20

2 Elimdeki balonların üzerinde yazan sayıların toplamlarını tahmin etmeye çalışıyorum. Hangisi doğru tahmin olur?




A) 70 B) 80 C) 90


5 Yandaki toplama işleminde verilmeyen toplananı hangi kuş doğru söylemiştir?



A) 8


$$\begin{array}{r} \square \\ + 38 \\ \hline 56 \end{array}$$


B) 18



C) 22


8 Gargamel'in Şiriner için yaptığı büyü'nün bozulması için bir iksir hazırladım. Doğru iksiri bulman için işlemi yaparak şifreyi bulmalısın. Doğru iksir hangisidir?



$$\begin{array}{r} 86 \\ - 33 \\ \hline \square\square \end{array}$$


$$\begin{array}{r} \square\square \\ - 14 \\ \hline \square\square \end{array}$$

3 Necati dün 27 lahmacun, bugün çok acıktığı için 38 lahmacun yedi. İki günde kaç tane lahmacun yemiştir?




A) 65 B) 55 C) 75

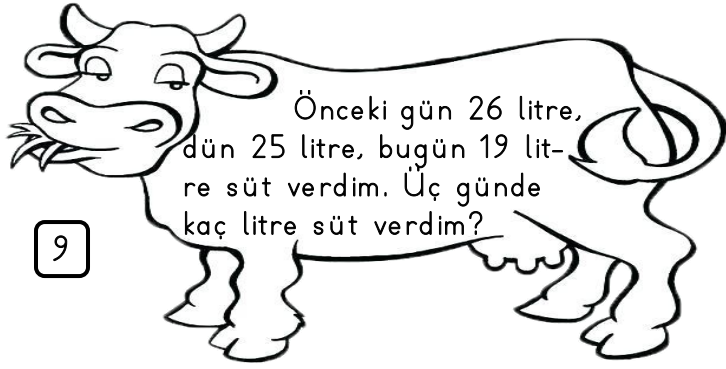
6 90'a yuvarlanabilecek en büyük sayıdan, 20'ye yuvarlanabilecek en küçük sayıyı çıkarırsam sonuç ne olur?



A) 80 B) 75 C) 79


A) 29 B) 49 C) 39





9

- A) 70 B) 71 C) 80




Ormandaki hayvanlar kendi aralarında bir yarışma düzenledi. Köpek 3. , kunduz 27. , yılan 36. ve keçi 19. oldu. Bu dört hayvanı en hızlıdan en yavaşa doğru nasıl sıralarız?

- A) Yılan - Kunduz - Keçi - Köpek
B) Köpek - Keçi - Kunduz - Yılan
C) Köpek - Kunduz - Yılan - Keçi

11


Gösterdiğim sayıyla ilgili hangisi yanlıştır?



- A) 8 birlik ve 7 onluktan oluşmaktadır.
B) Sayının okunuşu "seksen yedi" dir.
C) Onlar basamağındaki rakamın basamak değeri seksendir.

12

Kumbaramda 24 lira vardı. Pazartesi, Salı ve Çarşamba günleri kumbarama ikiye lira daha attım. Bu üç günün sonunda kumbaramda kaç lira olur?



- A) 26 B) 28 C) 30


13



Yukarıdaki her takside 4 yolcu olduğuna göre, taksilerde toplam kaç yolcu vardır?

- A) 20 B) 24 C) 28

14



Yukarıdaki her küme 3 tavuk vardır. Bu çiftlikte toplam kaç tavuk vardır?

- A) 27 B) 24 C) 30

15



Bu soruyla çok kediyi kandırdım. Dikkatle oku cevabı bul. 5 birlik 2 onluktan oluşan sayı ile 3 onluk 7 birlikten oluşan sayının toplamı kaçtır?

- A) 89 B) 52 C) 62

Testi bitirdin ancak bütün soruları tekrar okuyarak cevaplarını kontrol et. Öğretmenin getirebilirsiniz diyene kadar testin sırada kalsın.