



## DOĞAL SAYILAR

☸ Aşağıdaki okunuşları verilen sayıları yazalım.

Yedi yüz elli iki



İki yüz yetmiş

Dokuz yüz kırk

Sekiz yüz dört

Yüz altmış üç



Üç yüz doksan bir

Dokuz yüz doksan dokuz

Altı yüz almış altı

Altı yüz yedi



İki yüz elli sekiz

Yüz doksan sekiz

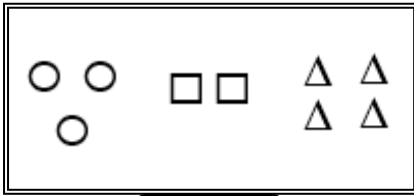
Sekiz yüz doksan

☸ Aşağıdaki şekillerin neyi ifade ettiği verilmiştir. Buna göre şekillerin ifade ettiği sayıları yazalım.

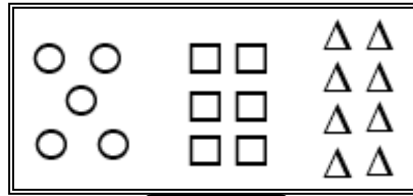
○ → Yüzlük

□ → Onluk

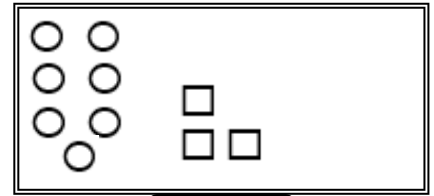
△ → Birlik



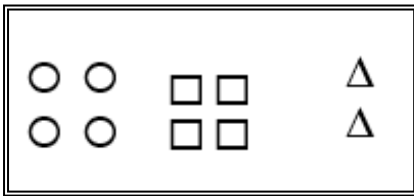
.....



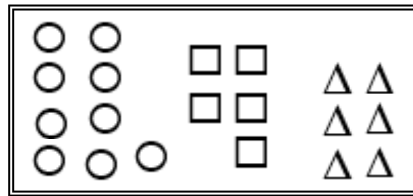
.....



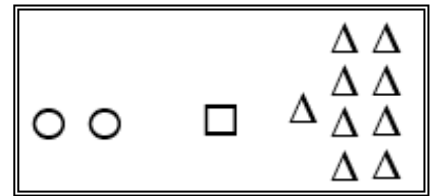
.....



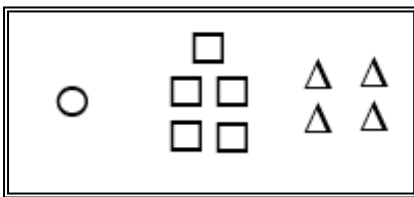
.....



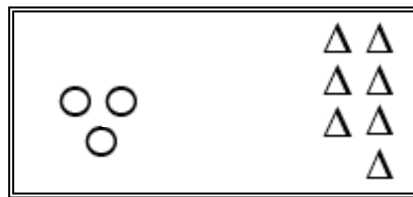
.....



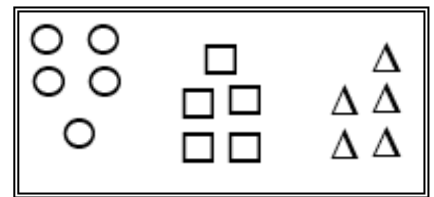
.....



.....



.....



.....