

TÜRKÇE TESTİ

İnsanlar tarih boyunca gökyüzünü ve gök cisimlerini merak etmişlerdir. Bu nedenle çeşitli araştırmalar yapmışlardır. Takvimi Güneş'in hareketlerine göre belirlemişlerdir. Böylece insanlar zamanı daha kolay hesaplamışlardır. Önceleri uzaya insansız hava araçları gönderirken artık astronotlar uzaya gitmeye başlamıştır.

1) Yukarıdaki metne göre insanlar takvimi nasıl oluşturmuştur?

- a) Ay'ın hareketlerine göre
- b) Dünya'nın hareketlerine göre
- c) Güneş'in hareketlerine göre

2) Yandaki görselde verilen hayvanın ismi kaç harften oluşmuştur?



- a) 5
- b) 6
- c) 7

kedi köpek kiraz kelek

3) Yukarıdaki kelimeler sözlük sırasına göre dizersek hangisi baştan 2. olur?

- a) kelek
- b) kedi
- c) kiraz

Cumhuriyet Bayramı,
Geldi bize ne mutlul
Bayraklarla donattık,
Güzel okulumuzu.

4) "Mektep" kelimesinin eş anlamlısı yukarıdaki şiirde kaçınıcı mısra da verilmiştir?

- a) 2. mısra
- b) 3. mısra
- c) 4. mısra

5)



Sağlığımız için doğal besinler tüketmeliyiz.

Nasrettin Hoca'nın söylediği cümledeki koyu yazılmış kelimenin zıt anlamlısı aşağıdaki cümlelerden hangisinde vardır?

- a) Bu yıl sağlıklı ürünler tükettik.
- b) İlçemize yapay göl yapıldı.
- c) Nehrin duru suyunda yüzdü.



Anneme anneler gününde gül aldım.

Satıcı gülleri deste deste yaparak satıyor.



Gülmek sana çok yakışıyor.



6) "Gül" kelimesi yukarıdaki hangi çocuğun cümlesinde diğerlerinden farklı anlamda kullanılmıştır?

a)



b)



c)



😊 çok

♥ seviyorum

☆ okumayı

☀ kitap

7) Yukarıda verilen kelimelerden anlamlı ve kurallı bir cümle oluşturulursa sıralama nasıl olur?

- a) ☀😊♥☆
- b) ☀☆😊♥
- c) 😊♥☆☀



Sağlıklı olmak için
yedeklerimize dikkat etmeliyiz.

Zeynep

Başka bir ifadeyle

.....




Harun

8) Zeynep'in sözünü desteklemek için Harun hangi cümleyi söylemiş olur?

- a) bol bol ekme yemeliyiz.
- b) dengeli ve düzenli beslenmeliyiz.
- c) sadece et ürünleri tüketmeliyiz.

Ailemi çok
seviyorum. Çünkü
.....



9) Görsele göre Şebnem'in, ailesini hangi özelliğinden dolayı çok sevdiğini ifade eden seçenek aşağıdakilerden hangisidir?

- a) her zaman derslerimi çalışırım
- b) ailemde işbirliği vardır. Herkes birbirine yardımcı olur.
- c) kardeşim kişisel bakımına çok dikkat eder.



Yemeklerden

10) Abdullah'ın söylediği cümlede boş bırakılan yere hangi kelimenin yazılması doğru olur?

- a) ilk
- b) önce
- c) sonra



Evimizi farelerden minnoş
korur.



11) Emre'nin söylediği cümlede hangi kelimenin yazılışı yanlıştır?

- a) farelerden
- b) minnoş
- c) Evimizi

12) Aşağıdaki cümlelerin hangisinde bir yazım yanlışı yapılmıştır?

- a) Ahmet, Ankara'dan ağustosta dönecek.
- b) Geçen yıl nisan ayında izmir'e taşındık.
- c) Kardeşim aralık ayında yürümeye başladı.



Aaa() Kar yağıyor() Karlı
havada ne yaparız() Kardan
adam yaparız() kızak ile
kayarız()

13) Yukarıda verilen anlatımda () ile gösterilen yerlere sırasıyla hangi noktalama işaretleri getirilmelidir?

- a) (!) - (.) - (?) - (,) - (.)
- b) (.) - (?) - (,) - (!) - (.)
- c) (!) - (.) - (.) - (?) - (.)

14) Aşağıda verilen kelimelerin hangisinin yazılışı yanlıştır?


- a) domates
- b) şiyir
- c) saat

Kitap okumak istiyordum, uykum geldi.

15) Yukarıdaki cümlede boş bırakılan yere hangisi yazılamaz?

- a) daha önce
- b) ama
- c) fakat

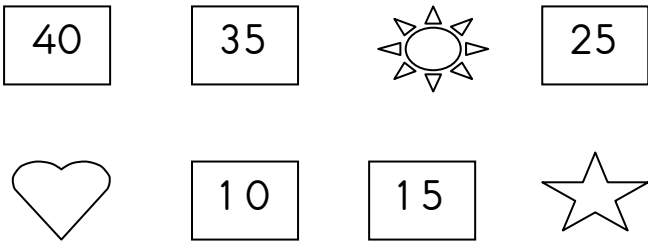
MATEMATİK TESTİ




- 1)  Yanda verilen ağaçtaki elmalar bir düzineden kaç tane eksiktir?

a) 2 b) 3 c) 4



- 2) Yukarıda verilen tırtıllar ile yapraklar eşleştirildiğinde hangi sayının olduğu tırtıl yapraksız kalır?
a) yetmiş b) kırk iki c) elli dokuz



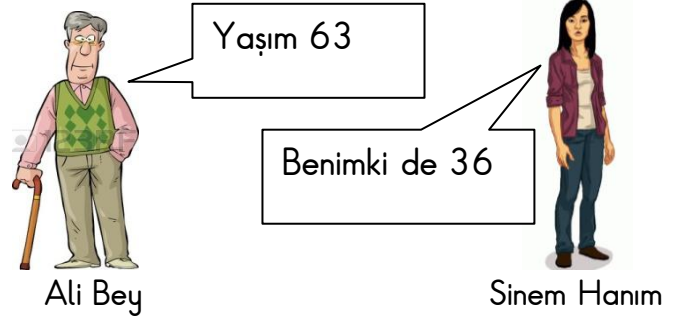
- 3) Yukarıda verilen kutular belli bir kurala göre dizilmiştir. Buna göre , ,  sembollerinin yerine hangi sayılar yazılmalıdır?



a) 30 40 5
b) 40 20 0
c) 30 20 5

$$(22) - (24) - (26) - (K) - (L) - (32) - (34)$$

- 4) Yukarıda verilen sayı örüntüsünde K ve L yerine yazılması gereken sayıların toplamı kaçtır?
a) 28 b) 38 c) 58




- 5) Yukarıdaki iki kişi yaşlarını söylemiştir. Bu iki kişinin yaşları ile ilgili söylenenlerden hangisi doğrudur?
a) Ali Bey, Sinem Hanım'dan küçüktür.
b) İkisinin yaşları eşittir.
c) Sinem Hanım, Ali Bey'den küçüktür.

$$\begin{array}{l} 1. \quad (63) \longrightarrow [6] \quad + \quad [30] \\ 2. \quad (47) \longrightarrow [40] \quad + \quad [7] \\ 3. \quad (86) \longrightarrow [80] \quad + \quad [60] \end{array}$$

- 6) Yukarıdaki çemberler içindeki sayılar basamak değerlerine ayrılarak gösterilmiştir. Buna göre hangi sayının basamak değerleri doğru verilmiştir?
a) 1. b) 2. c) 3.

- 7) Dikdörtgenler prizmasına örnek oluşturabilecek görsel aşağıdakilerden hangisidir?





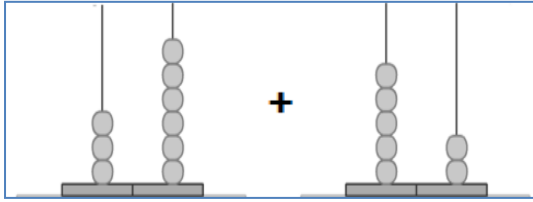
8) Yukarıda verilen trafik levhası aşağıdaki geometrik şekillerden hangisiyle ilgilidir?

- a) karesel bölge b) daire
c) üçgensel bölge



9) Yukarıda verilen örüntünün kuralı hangi seçenekteki örüntünün kuralı ile aynıdır?

- a) T T M Y T T M Y
b) M M T T Y M M T T Y
c) M T Y M T Y M T Y



10) Yukarıda verilen abaküslerdeki sayıların toplamı kaçtır?

- a) 80 b) 84 c) 88



Talha
Yaşı: 19



Talha'nın dedesi
Yaşı: ?

11) Dedesi Talha'dan 45 yaş büyük olduğuna göre ikisinin yaşları toplamı kaçtır?

- a) 64 b) 73 c) 83

$$\begin{array}{r} 49 \\ - 14 \\ \hline \dots \end{array} \quad \begin{array}{r} \dots \\ - 15 \\ \hline \dots \end{array} \quad \begin{array}{r} \dots \\ - 9 \\ \hline \dots \end{array} \quad \begin{array}{r} \dots \\ - 3 \\ \hline A \end{array}$$

12) Yukarıda verilen işlemler ok yönünde yapılırsa "A" yerine hangi sayı yazılmalıdır?

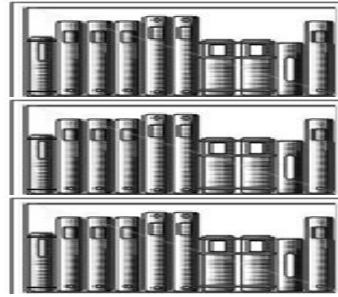
- a) 8 b) 6 c) 4



Apartman görevlisi Ahmet Efendi, 54 dairesel bir apartmanda 37 daireye uğrayıp ihtiyaçları olup olmadığını sordu.

13) Buna göre Ahmet Efendi'nin ihtiyaçlarını soracağı kaç tane daha dairesi vardır?

- a) 81 b) 17 c) 23



Yandaki kitaplığın her bir rafı 1 deste kitap almaktadır. Ayşegül kitaplıktaki kitapların 17 tanesini okumuştur.

14) Ayşegül'ün okumadığı kaç kitabı vardır?

- a) 8 b) 11 c) 13



Çıkarma işleminde 3 tane terim vardır.

15) Aşağıdaki terimlerden hangileri çıkarma işlemine aittir?

- a) toplanan - çarpım - eksilen
b) eksilen - çıkan - fark
c) toplam - kalan - bölen

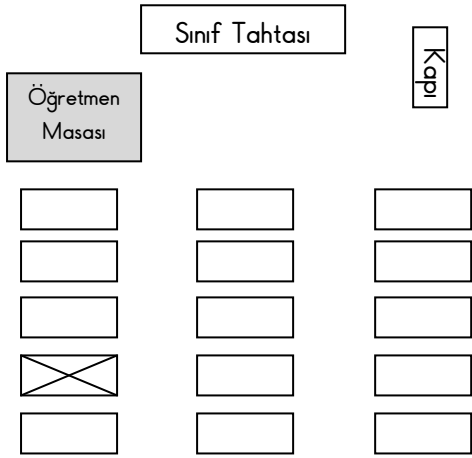
HAYAT BİLGİSİ TESTİ



Okula gitmek için sabah erkenden kalktım. Yüzümü yıkadım, kahvaltımı yaptım. Sonra

1) Oya'nın anlatımına göre cümle nasıl devam etmelidir?

- a) koşarak okula gittim.
- b) ayakkabılarımı giydim.
- c) dişlerimi fırçaladım.



2) Ali sınıfındaki yerini yukarıdaki çizim ile göstermiş ve sırasına X işareti koymuştur. Buna göre Ali'nin oturduğu yer hangisidir?

- a) Kapı tarafında, baştan 4.sıra
- b) Öğretmen masasının karşısında, baştan 4.sıra
- c) Öğretmen masasının karşısında, baştan 2.sıra

3) Aşağıdaki kişisel bakımlardan hangisi başka biri tarafından yardım alınarak yapılır?



Hangisi hem evde hem de okulda uyulması gereken kurallardandır?

4) Öğretmenin sorusuna hangi öğrenci doğru cevap vermiştir?

- a) Şeyma: Annemize yardım etmeli, ödevlerimizi zamanında yapmalıyız.
- b) Mehmet: Boşa akan suları kapatmalı, boşa yanan lambaları söndürmeliyiz.
- c) Nevin: Zil çaldığında sıralarımıza oturup öğretmenimizi beklemeliyiz.




Yanda verilen görseldeki tören pazartesi günü sabah derse başlamadan önce yapılmıştır.

5) Bu törende aşağıdaki marşlardan hangisi okunur?

- a) Gençlik Marşı
- b) İstiklal Marşı
- c) Mehter Marşı

6) Aşağıdaki davranışlardan hangisini yapan bayrağımıza ve İstiklal Marşımıza saygısızlık etmiş olur?

- a) İstiklal Marş'ını ezberleyip gür sesle okuyan
- b) İstiklal Marş'ı okunurken başkalarıyla konuşan
- c) Törenlerde saygı duruşuna geçen ve arkadaşlarıyla konuşmayan



7) Yukarıdaki bayrağımızı boyamak isteyen bir öğrenci hangi renk kalem kullanmalıdır?

- a) ak
- b) mavi
- c) al

