

TÜRKÇE TESTİ



Hoca, bir gün uzun bir yolculuktan sonra aç bir halde köyün birine varmış. Buyur etmişler Hoca'yı köy odasına. Biri soru sormuş Hoca'ya:

- Hocam demiş, bilirsin sen, acaba insan neden esner söylesene?

Hoca:

- Esnemenin çok nedeni var. Lakin bana sorarsanız, insan ya uykusu gelince esner ya da açlıktan, der ve uzunca esner. 😊

1) Yukarıdaki fıkraya göre Hoca'nın esnemesinin sebebi nedir?

- a) Espri yapmak için
- b) Çok aç olduğu için
- c) Çok yorulduğu için



Emre

..... bu nedenle pikniğe gidemedik.

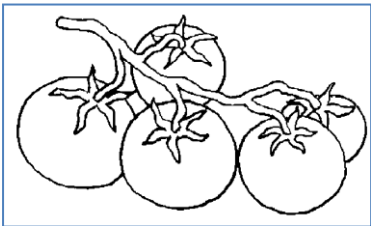


Fatih

Emre, arkadaşı Fatih'e hafta sonu neden pikniğe gidemediklerini söyledi. Ancak Fatih cümlenin başını duymadı.

2) Yukarıdaki konuşmada Emre'nin cümlesinin başı aşağıdakilerden hangisi ile tamamlanabilir?

- a) Kardeşim okula gitti
- b) Araştırma ödevimi erken bitirdim
- c) Çok yağmur yağdı



3) Yukarıda verilen sebzenin ismi hangi seçenekte doğru yazılmıştır?

- a) dometiz
- b) domates
- c) domatez



merdivenden

teyzem

Aysel

düşmüş

4) Yukarıda verilen kelimelerle anlamlı ve kurallı bir cümle oluşturulduğunda 3. sırada hangi kelime olur?

- a) düşmüş
- b) teyzem
- c) merdivenden

Ağacın dallarından meyveler sarkıyordu.



Ördekler göle dalıp balık yakalamaya çalışıyor.



Hafta sonu dedemin köydeki havuzuna daldık.



5) "dal" kelimesi yukarıdaki hangi çocuğun cümlesinde diğerlerinden farklı anlamda kullanılmıştır?

- a)
- b)
- c)

Karagöz'üm misafirleri güler yüzle karşılamalıyız.



6) Hacivat'ın cümlesindeki altı çizili kelimenin yerine, aşağıdakilerden hangisi gelirse cümlenin anlamı değişmez?

- a) akrabaları
- b) komşuları
- c) konukları

Kelime	Hece Sayısı	Harf Sayısı
karınca	☆	7
sincap	2	☀
kaplumbağa	😊	10

7) Yukarıda verilen tabloda semboller yerine hangi sayılar yazılmalıdır?

- a) ☆ 3 b) ☆ 7 c) ☆ 3
☀ 6 ☀ 4 ☀ 2
😊 4 😊 3 😊 8

aydınlık X karanlık

8) Yukarıdaki kelimeler arasındaki ilişki aşağıdaki hangi seçenekte vardır?

- a) hediye - armağan
b) şişman - zayıf
c) sabah - öğle

() Kimsin sen () Buraya nereden geldin ()
Seni daha önce buralarda hiç görmemiştim ()



9) Kaplumbağanın ifadesindeki () ile gösterilen yerlere sırasıyla hangi noktalama işaretleri gelmelidir?

- a) (—) (.) (?) (.)
b) (?) (?) (.) (!)
c) (—) (?) (?) (.)



Ay, Güneş'ten aldığı ışığı Dünya'ya yansıtır.

10) Mehmet'in cümlesinde kaç tane özel isim vardır?

- a) 3 b) 2 c) 1

11) Aşağıdaki cümlelerin hangisinde bir yazım yanlışı yapılmıştır?

- a) Nasrettin Hoca, Akşehir'de yaşamış.
b) Atatürk'ü anmak için ankaraya gideceğiz.
c) Ablam üniversiteyi İstanbul'da okumak istiyor.



12) Yukarıdaki varlıkların isimlerinin sözlükteki sırası, hangi seçenekte doğru verilmiştir?

- a) tarak - telefon - televizyon
b) telefon - tarak - televizyon
c) televizyon - telefon - tarak

13) Yanda resmi verilen varlığın tanımı aşağıdaki hangi seçenekte doğru verilmiştir?



- a) Su üstünde yüzen, insan ve yük taşımaya yarayan büyük araç.
b) Isıtılmış hava veya hafif bir gazla doldurulan, uçabilen küre biçiminde araç.
c) Kanatlarının altındaki havanın yaptığı basınç yardımıyla yükselip ilerleyebilen motorlu hava taşıtı.

- ☆ Hastanede diş doktorunu
☀ Dişlerimi fırçaladım.
😊 Büyüklerime karşı saygılı

14) Hangi sembolle verilen ifade bir cümledir?

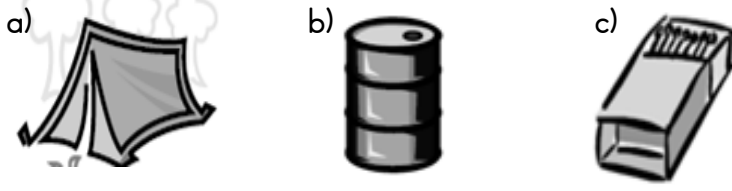
- a) ☆ b) ☀ c) 😊

15) "Kütüphaneye perşembe veya cuma günü gidelim." cümlesindeki kaçınıcı kelimenin tek başına bir anlamı olmayıp cümle kurmaya yarar?

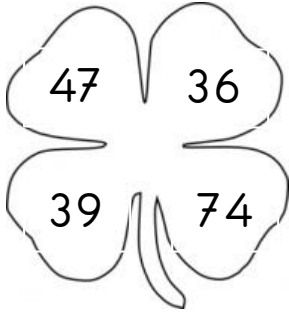
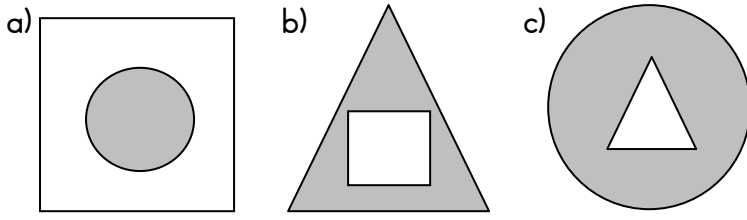
- a) 6 b) 4 c) 3

MATEMATİK TESTİ

1) Aşağıda verilen varlıklardan hangisi köşesi ve ayrıtı olmayan geometrik bir cisme benzer?

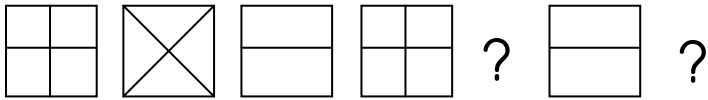


2) Aşağıdaki seçeneklerin hangisinde daireni içinde üçgen verilmiştir?

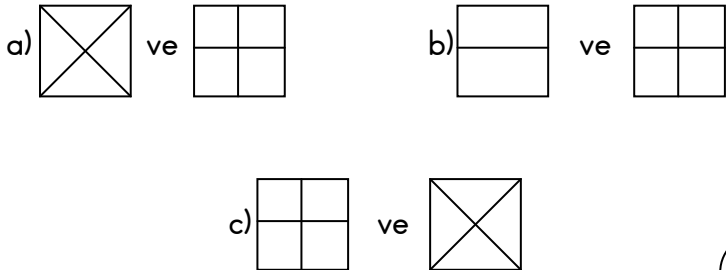


3) Yukarıda verilen dört yapraklı yoncanın yapraklarında yazan sayıların küçükten büyüğe doğru sıralanışı hangi seçenekte verilmiştir?

- a) 74 - 47 - 39 - 36
b) 39 - 36 - 74 - 47
c) 36 - 39 - 47 - 74



4) Yukarıda verilen örüntüde " ? " yerlere sırasıyla hangi şekiller getirilmelidir?



80 TL



58 TL



65 TL

5) Yukarıda verilen ürün fiyatlarına göre hangi ifade yanlıştır?

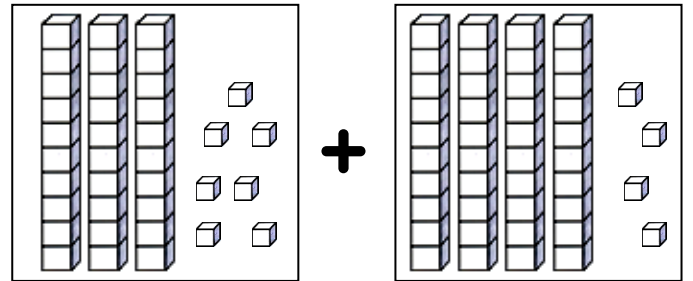
- a) Spor ayakkabısı futbol topundan ucuzdur.
b) Forma spor ayakkabısından pahalıdır.
c) Forma içlerinden en ucuz olan üründür.



Benim 42 tane misketim var.

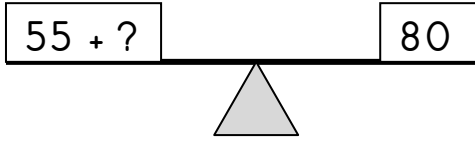
6) Yukarıda Emre kaç tane misketi olduğunu söylemiştir. Buna göre hangi arkadaşının misket sayısı Emre'nin misket sayısı ile aynıdır?

- a) Ayhan : Benim 3 düzine misketim var.
b) Alican : Benim 2 deste ve 7 tane daha misketim var.
c) Aydın : Benim 4 deste ve 2 tane daha misketim var.

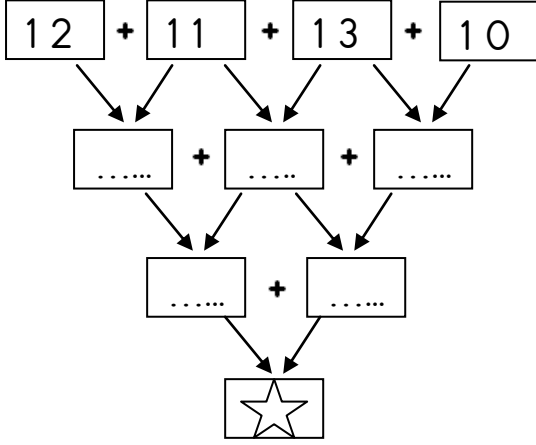


7) Yukarıda onluk bloklar ile modellenen iki sayının toplamı kaç onluk kaç birlikten oluşur?

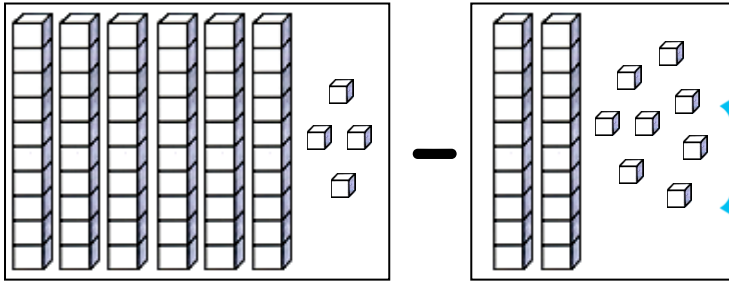
- a) 7 onluk + 1 birlik
b) 4 onluk + 7 birlik
c) 8 onluk + 1 birlik



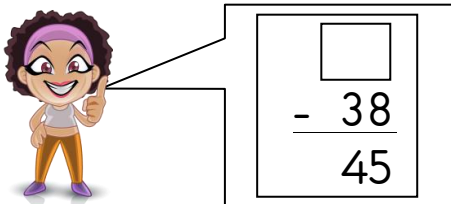
- 8) Yukarıda verilen tahtarevallinin dengede durabilmesi için " ? " yerine hangi sayı gelmelidir?
a) 25 b) 35 c) 15



- 9) Yukarıdaki toplama şemasında ☆ yerine hangi sayı yazılmalıdır?
a) 84 b) 94 c) 74




- 10) Yukarıda modellenen işlemin sonucu kaçtır?
a) 26 b) 36 c) 46



- 11) Nazlı'nın çıkarma işlemindeki eksilen sayı kaçtır?
a) 13 b) 73 c) 83



- 12) Yukarıda Harun ve Hüseyin'in yaşları verilmiştir. İkisinin 5 yıl sonraki yaşları toplamı kaçtır?
a) 32 b) 34 c) 36



- 13) Yukarıdaki trenin vagonlarındaki yolcu sayıları verilmiştir. Buna göre trende toplam kaç yolcu vardır?
a) 62 b) 72 c) 82



- 14) Yukarıda verilen görsele göre bardaklardan 2 destesi kırılırsa geriye kaç bardak kalır?
a) 4 b) 6 c) 8

$$43 - 14 = 29$$

$$29 + 11 = 40$$

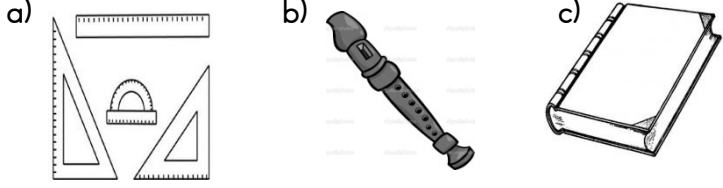
- 15) Yukarıda çözümü verilen problem aşağıdakilerden hangisidir?
a) 43 sayısının 11 eksiğinin 14 fazlası kaçtır?
b) Otobüsteki 43 yolcunun 14'ü birinci durakta indi. İkinci duraktan 11 yolcu bindi. Otobüste kaç yolcu vardır?
c) 43 kalemime annem 14, babam 11 kalem ekledi. Toplam kaç kalemim oldu?

HAYAT BİLGİSİ TESTİ



Haftalık ders programına göre okul çantamı hazırlarım. Ders programıma göre çarşamba günü 2 saat Türkçe, 2 saat matematik. 1 saat hayat bilgisi ve 1 saat oyun dersimiz var.

1) Merve'nin ifadelerine göre aşağıdaki ders araç ve gereçlerinden hangisi okul çantasında gereksizdir?



Ders: Hayat Bilgisi

Konu:

1. Arkadaşlarımız ve öğretmenimizle ilişkimizi düzenler.
2. Bulduğumuz yerde düzen ve disiplini sağlar.
3. Başarılı olmamızı hedefler.

2) Tahtada yazılanlara bakılarak hayat bilgisi dersinde hangi konu çalışılmış olabilir?

- a) Trafik Kuralları
- b) Yemek Kuralları
- c) Okul Kuralları



3) Yukarıdaki görselde öğrenciler grup çalışması ile bir proje hazırlamaktadırlar. Buna göre grup çalışmaları için aşağıdakilerden hangisi yanlıştır?


- a) Grup üyeleri işini yapmayan arkadaşlarını grup dışına atabilir.
- b) Grup üyeleri uyum içinde ve iş birliği yaparak çalışmalıdır.
- c) Grup üyeleri kendi sorumluluklarını yerine getirmelidir.



Bayrağımızın üzerinde
..... sembolleri vardır.

4) Murat'ın cümlesindeki boşluklara hangi kelimelerin yazılması uygun olur?

- a) kırmızı ve beyaz
- b) güneş ve yıldızlar
- c) ay ve yıldız



Besinler büyümemizi sağlar. Bize enerji verir. Çeşitli besinlerden vücudumun ihtiyacı kadarı ile beslenmeye özen gösteririm. Besinlerin sağlıklı olmasına dikkat ederim.

5) Hakan'ın beslenme konusundaki düşüncelerine göre onun nasıl beslendiğini söyleyebiliriz?

- a) sağlıksız beslenme
- b) düzenli beslenme
- c) dengeli beslenme



6) Yukarıdaki yüz ifadesi aşağıdaki hangi kişiye ait olabilir?

- a) Arzu, Buse'ye bir armağan aldı.
- b) Emir, arkadaşına bağırdı çünkü çok öfkeliydi.
- c) Büşra annesinin doğum gününü kutladı.



Bugün okul çıkışı tanımadığım biriyle karşılaştım. O kişi adımdı sordu ve bana bir paket bisküvi vermek istedi. Ben de

7) Tanju, karşılaştığı bu durumda nasıl davranırsa doğru yapmış olur?

- a) bisküviyi alıp hemen yedim.
- b) bağırarak oradan uzaklaştım.
- c) nazıkçe teklifi reddedip kişinin yanından ayrıldım.



Öğretmenimi ilk gördüğümde, ne yalan söyleyeyim, biraz korkmuştum. Oysa şu anda onun dünyalar iyisi biri olduğunu düşünüyorum.

8) Önder'in duygularındaki değişimi hangi seçenek ifade eder?

- a) Olumsuzdan olumluya doğru gelişmiştir.
- b) Olumludan olumsuzla doğru gelişmiştir.
- c) Olumsuzdan olumsuzla doğru gelişmiştir.



Aslı ile ben çok iyi arkadaşız. Bebeklerimizle oyun oynamayı çok seviyoruz. Her bulduğumuzda odamızı hastane gibi düşünür bebeklerimizi muayene ederiz.

9) Aslı ile Şeyma'nın oynadığı oyundan yola çıkarak, iki arkadaş büyüdüklerinde hangi mesleği seçebilirler?

- a) dişçi
- b) öğretmen
- c) çocuk doktoru



Okul bahçesindeki voleybol sahasında oyun oynadım.



Okul bahçesindeki ağaçların dallarını kırıp kale yaptım.



Okul bahçesine elimdeki çikolata kabını attım.

10) Yukarıdaki çocuklardan hangisi okul ve çevresini bilinçli kullanmaktadır?

- a)
- b)
- c)

11) Aşağıdakilerden hangisi toplu taşıma aracıdır?

- a)
- b)
- c)



Öğrenim hayatıma 7 yaşında başladım. İlk gittiğim okul

12) Mustafa Kemal'in cümlesi aşağıdakilerden hangisi ile tamamlanırsa doğru olur?

- a) Şemsi Efendi İlkokulu'dur.
- b) Selanik Askeri Ortaokulu'dur.
- c) mahalle mektebidir.



Öğretmenimiz hafta sonu ödevi olarak İstiklal Marşımızın şairinin hayatını araştırmamızı istedi.

13) Ebru, öğretmenin verdiği ödevi yapabilmesi için hangi kaynaklardan yararlanmalıdır?

- a) Türkçe sözlükten
- b) ansiklopedilerden
- c) yazım kılavuzundan



Bu sene bayramımıza yabancı ülkelere birçok çocuk ülkemize gelerek bizlere katıldı. Hep beraber bu bayramı kutladık.

14) Yukarıda bahsedilen bayram aşağıdakilerden hangisidir?

- a) Ramazan Bayramı
- b) Cumhuriyet Bayramı
- c) Ulusal Egemenlik Ve Çocuk Bayramı



Sınıftaki arkadaşımız bizden izin almadan sürekli eşyalarımızı alıyor.

15) Yukarıdaki sorun için en doğru çözüm yolu hangisidir?

- a) Arkadaşımızı öğretmene şikayet etmek
- b) Arkadaşımızla kavga edip onunla küsmek
- c) Arkadaşımıza, bir ihtiyacı olduğunda ihtiyacını bizden izin alarak isteyebileceğini söylemek