



FUFUK İLE DEYİM VE ATASÖZÜ BOYUYORUM



5 KİTAP
18 TL

✓ 1.Sınıf ✓ 2.Sınıf
✓ 3.Sınıf ✓ 4.Sınıf

Her kitaba özel
Değerlendirme Kitapçığı



WHATSAPP SİPARİŞ

0 552 252 83 85

Fiyatlar Toplu Alım İçin Geçerlidir.



Deyim ve Atasözlerini Boyama yaparak öğrenen eğlenceli bir settir. Türkiye'de benzeri yoktur.



TIKLA İÇERİĞİNİ İZLE

Toplam 5 kitap vardır. Her kitap 32 Sayfadır.

3 Kitap Deyim. 2 Kitap Atasözüdür.

48 Adet deyim ve 32 Adet Atasözü vardır.

Her kitabın ayrı bir değerlendirme kitapçığı vardır. Değerlendirme kitapçıklarında bulunan **karekod** ile tüm cevapları anında cep telefonunuz ile öğrenebilirsiniz.



TIKLA SİPARİŞ VER

0 552 252 83 85



İnsanlar ve hayvanlar yaşamak için oksijene ihtiyaç duyarlar. Ağaçlar kirli havayı alır ve bizlere temiz hava verir. Bu sayede hava temizlenmiş olur. Ne kadar fazla ağaç dikersek o kadar fazla temiz havamız olur. Bu yüzden bol bol ağaç dikmeliyiz.

Ormanlar bir çok canlının yuvasıdır. Küçük büyük bir çok canlı ormanda yaşar. Bunlardan bazıları tırtıl, maymun, geyik ve kuşlardır. Ormanları temiz tutmalıyız. Bu sayede hayvanlar temiz havada ve temiz yuvada yaşamış olurlar.

Ağaçlar aynı zamanda doğal afetlerden biri olan heyelanı önler. Ağaçların kökleri toprağı sıkı sıkı tuttuğu için toprağın kaymasını engeller.

Cumhuriyet ilan edildikten sonra Tarım ve Orman Bakanlığı kuruldu. Ormanları korumak ve çevremizi ağaçlandırmak için çalışmalar yaptılar.

Ülkemizde her yıl 21-26 Mart, Orman Haftası olarak kutlanmaya başlandı. Gelecek kuşaklara temiz çevre bırakmak için ağaçlarımıza sahip çıkmalıyız. Bu konuda bilinçli olmalı ve bilinçli olmayan diğer insanlara ağaçların önemini anlatmalıyız.

Atatürk Yalova'da bir köşk yaptırmış. Köşkün yanındaki ağacın kökleri zamanla köşkün temeline zarar vermeye başlamış. Atatürk ağacı kesmek yerine köşkü biraz daha ileriye taşıtmıştır.



1 Aşağıda verilen soruları yandaki metne göre cevaplayınız.

1. **Neden** bol bol ağaç dikmeliyiz?

2. Ağaçlar toprağın kaymasını **nasıl** engeller?

3. Tarım ve Orman Bakanlığı **ne zaman** kuruldu?

4. Atatürk'ün taşıdığı köşk **nerededir**?

1 Hangisi oksijene ihtiyaç duymaz?

- A** İnsan **B** Hayvan
C Ağaç

2 Hangisi ormanda yaşayan canlılardan biri değildir?

- A** Maymun **B** Balık
C Tırtıl

3 Ağaçlar hangi doğal afeti önler?

- A** Heyelan **B** Deprem
C Sel

4 Orman haftası hangi ayda kutlanır?

- A** Mart **B** Nisan
C Mayıs



2 Aşağıda verilen sözcüklerin anlamını sözlükten bulup cümle içinde kullanınız.

Heyelan :



Kuşak :



Bilinçli olmak :



Temel :





Türkçe

ETKİNLİK

1 Aşağıdaki çocuklar hangi metin türlerinden örnekler vermiştir altına yazınız.



Tohumlar fidana
Fidanlar ağaca
Ağaçlar ormana
Dönmeli yurdumda



Voleybol altı kişiden oluşan iki takım arasında oynanır. Bu oyunda amaç, sahayı ikiye bölünen filenin üzerinden topu karşı tarafın sahasına düşürmektir.

Keloğlan kralın söylediği emirleri kurnazlığını kullanarak yerine getirdi. Kral da ona 10 altın verdi. Artık şehirde hiç dev kalmadı.



Fufuk okuldan çıkar çıkmaz parka gitti. En yakın arkadaşı Mert ile yakalamaca oynadı. Önce Fufuk kaçtı. Mert yakaladı.



ETKİNLİK

2 Aşağıda verilen ifadelerden doğru olanların başına "D" yanlış olanların başına "Y" harfi yazınız.



- Masallar şiir ile başlar.
- Hikâyelerde 3 bölüm bulunur.
- Hikâyenin en az 2 kahramanı olmalıdır.
- Şiir yazan kişiye ozan denir.
- Gazete, bilgilendirici metin türüne örnektir.
- Şiirler tekerleme ile başlar.
- Masal hikâye edici metin türüne örnektir.
- Masalarda olağanüstü olaylar yaşanır.

3 Aşağıda verilen resimlerle ilgili bir masal yazalım. Masalımızı yazarken masalların özelliklerine ve noktalama işaretlerine dikkat edelim.



A large rectangular area with a blue scalloped border, containing 20 horizontal dotted lines for writing a story.

⚡ Aşağıda verilen şiirleri okuyunuz.. Yan tarafındaki soruları okuduğunuz şiire göre cevaplayınız.



Ormancılar Marşı



Ağaçların kökleri,
Kardeş gibi toprakla.
Senin bizce farkın yok,
Dalgalandan bayrakla.

Ormancıyız, keseriz,
Seni kesen her eli.
Vatanını sevenler,
Ormanı da sevmeli.

Seni candan sevmeyen
Duygusuzdur, utansın.
Toprak eğer vatansa,
Sen de bize vatansın.

Ismail Hakkı Sunat

1. Şiirin başlığı nedir?

2. Şiirde kaç dize vardır?

3. Şiirin konusu nedir?

4. Şiirin ana duygusu nedir?

5. Şiirin yazarı kimdir?

6. Şiirin yazarı kimdir?

Çanakkale Diyarında



Denize takılan kilit,
Dünyayı kaldıran yiğit,
Alaylar var toptan şehit,
Çanakkale diyarında.

Kahraman şehit çavuşlar,
Şehitliğe uçan kuşlar,
Savaşta yeni buluşlar,
Çanakkale diyarında.

Modern silahlı askerler,
Dersini alan liderler,
Geri kaçarak gidenler,
Çanakkale diyarında.

Ekrem Şema

1. Şiirin başlığı nedir?

2. Şiirde kaç dize vardır?

3. Şiirin konusu nedir?

4. Şiirin ana duygusu nedir?

5. Şiirin yazarı kimdir?

6. Şiirin yazarı kimdir?



5 Aşağıda verilen bilgilere göre bir hikâye yazınız.

Kahramanlar
Fufuk

Zaman
Okul çıkışı

Yer
Park

Olay
Fufuk'un kim-
sesiz çocuklara
yardım etmesi.

A large writing area with a blue wavy border and horizontal dotted lines for writing.

23. Hafta

Konu : Zaman Ölçme

Ad :

Soyad :

Matematik

FUFUK Haftalık Çalışma Kitabı

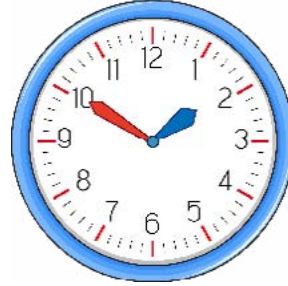
ETKİNLİK

1 Aşağıda verilen saatlerde boş bırakılan yerleri dolduralım.



Öğleden önce

Öğleden sonra



Öğleden önce

Öğleden sonra

Okunuşu :

Okunuşu :



Öğleden önce

Öğleden sonra



Öğleden önce

Öğleden sonra

Okunuşu :

Okunuşu :



Öğleden önce

Öğleden sonra



Öğleden önce

Öğleden sonra

Okunuşu :

Okunuşu :



Öğleden önce

Öğleden sonra



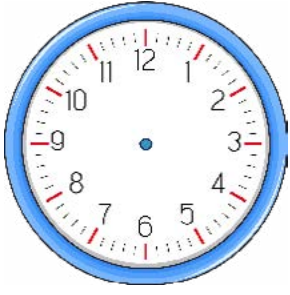
Öğleden önce

Öğleden sonra

Okunuşu :

Okunuşu :

2 Aşağıda verilen saatlerde boş bırakılan yerleri dolduralım.

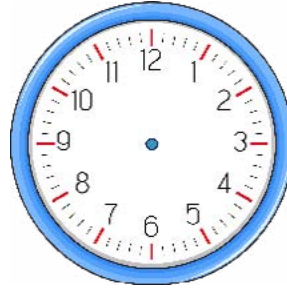


Öğleden önce

04:10

Öğleden sonra

Okunuşu :

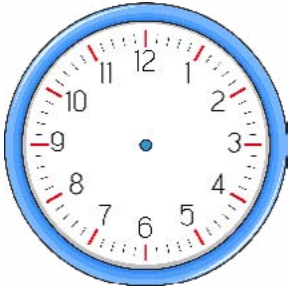


Öğleden önce

Öğleden sonra

22:30

Okunuşu :

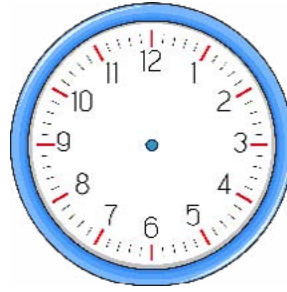


Öğleden önce

07:45

Öğleden sonra

Okunuşu :

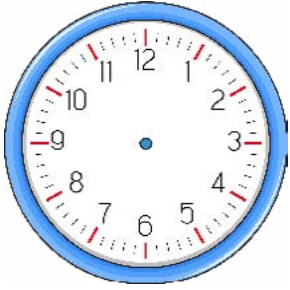


Öğleden önce

Öğleden sonra

20:50

Okunuşu :

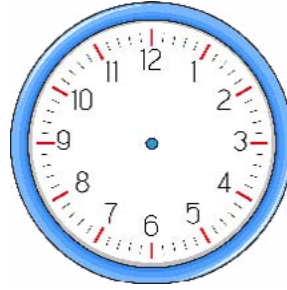


Öğleden önce

11:05

Öğleden sonra

Okunuşu :

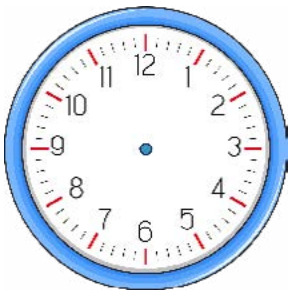


Öğleden önce

Öğleden sonra

17:05

Okunuşu :

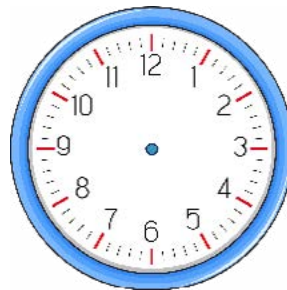


Öğleden önce

01:35

Öğleden sonra

Okunuşu :



Öğleden önce

Öğleden sonra

19:40

Okunuşu :

3 Aşağıda verilen saatlerde boş bırakılan yerleri dolduralım.



Öğleden önce

Öğleden sonra

Okunuşu :



Öğleden önce

Öğleden sonra

Okunuşu :



Öğleden önce

Öğleden sonra

Okunuşu :



Öğleden önce

Öğleden sonra

Okunuşu :

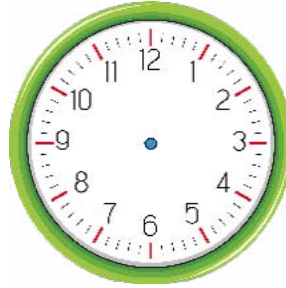


Öğleden önce

09:20

Öğleden sonra

Okunuşu :



Öğleden önce

Öğleden sonra

16:45

Okunuşu :



Öğleden önce

02:15

Öğleden sonra

Okunuşu :



Öğleden önce

Öğleden sonra

20:55

Okunuşu :



FUFUK YENİ NESİL SORU



Fufuk, tatilde babasının fırınına gider ve onu izlerdi. Onunla vakit geçirmeyi çok severdi. Dükkâna gelen müşterilerle konuşurdu. Her 5 dakikada bir müşteri gelirdi. Fufuk, 2 saat dükkânda kaldıktan sonra eve giderdi.

Yukarıda verilen resim ve metne göre aşağıdaki bilgiler verilmiştir.

- ➔ Fufuk, her sabah yukarıda verilen saatte dükkâna gelirdi.
- ➔ Yelkovan çift sayıları gösterdiğinde dükkâna erkek müşteri gelirdi.
- ➔ Dükkâna gelen erkek müşteriler hep 3 simit alırdı.

Fufuk'un babası, Fufuk dükkândayken erkek müşterilere kaç simit satmıştır?

A 39

B 36

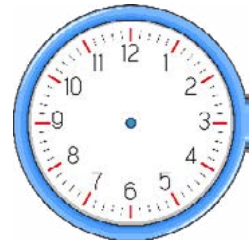





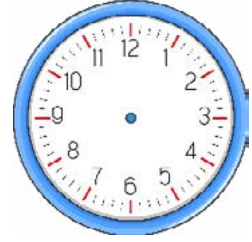

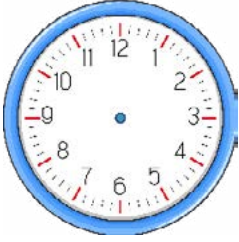

C 33

⚡ Aşağıda verilen kurallara göre saatlerde boş bırakılan yerleri dolduralım.



30 dk önce

30 dk sonra



5 Aşağıda verilen kurallara göre dijital saatleri yazalım.



20 dk öncesi	Şu an	20 dk sonrası	20 dk öncesi	Şu an	20 dk sonrası
	05:20			17:10	
	12:15			10:45	
	20:35			21:05	
	15:10			07:50	
	03:40			11:10	
	09:30			14:35	
	18:55			23:20	
	22:25			13:55	

6 Aşağıda verilen zamanları istenilen birime göre çevirip tekrar yazınız.



1 saat 15 dakika	=	dakika	1 dakika 20 saniye	=	saniye
2 saat 15 dakika	=	dakika	2 dakika 30 saniye	=	saniye
3 saat 25 dakika	=	dakika	4 dakika 50 saniye	=	saniye
1 saat 30 dakika	=	dakika	3 dakika 40 saniye	=	saniye
2 saat 45 dakika	=	dakika	7 dakika 55 saniye	=	saniye
3 saat 5 dakika	=	dakika	5 dakika 10 saniye	=	saniye
4 saat 20 dakika	=	dakika	6 dakika 35 saniye	=	saniye
5 saat 40 dakika	=	dakika	8 dakika 25 saniye	=	saniye
6 saat 10 dakika	=	dakika	9 dakika 45 saniye	=	saniye
7 saat 50 dakika	=	dakika	4 dakika 15 saniye	=	saniye
8 saat 15 dakika	=	dakika	5 dakika 5 saniye	=	saniye
9 saat 55 dakika	=	dakika	6 dakika 55 saniye	=	saniye
6 saat 50 dakika	=	dakika	8 dakika 35 saniye	=	saniye

7 Aşağıda verilen boşlukları dolduralım.



1 yıl	=	mevsim	2 mevsim	=	ay
2 yıl	=	ay	3 mevsim	=	hafta
3 yıl	=	mevsim	4 mevsim	=	yıl
2 yıl	=	gün	6 mevsim	=	ay
2 yıl	=	hafta	8 mevsim	=	hafta
5 yıl	=	mevsim	9 mevsim	=	ay
6 yıl	=	ay	5 mevsim	=	hafta
7 yıl	=	mevsim	16 mevsim	=	yıl
1 yıl	=	gün	12 mevsim	=	ay
8 yıl	=	hafta	16 mevsim	=	hafta

8 Yeni yayınlanan programa göre 30 dakika ders 10 dakika tenefüs olacak şekilde aşağıdaki planı dolduralım.



Dersler	Başlama Saati	Bitiş Saati	Süre
1.Ders	08:00	08:30	30 dk
Teneffüs	08:30	08:40	10 dk
2.Ders			
Teneffüs			
3.Ders			
Teneffüs			
4.Ders			
Teneffüs			
5.Ders			
Teneffüs			
6.Ders			

1 Soru

Bir saatin beşte ikisi kaç dakikadır?

Çözüm:

2 Soru

Bir yılın dörtte üçü kaç haftadır?

Çözüm:

3 Soru

08.30'da sınava giren Fufuk 80 dakika sonra çıkmıştır. Buna göre Fufuk, sınavdan saat kaçta çıkmıştır?

Çözüm:

4 Soru

20.00'de ödev yapmaya başlayan Fufuk, 70 dakika sonra yarım saat ara vermiştir. Ara verdiği saat kaç olmuştur?

Çözüm:

5 Soru

Akşam 23.30'da uçağa binen Fufuk sabah 05.00'te inmiştir. Buna göre Fufuk kaç saat yolculuk yapmıştır?

Çözüm:

6 Soru

2 Temmuz'da tatile giden Fufuk 35 gün tatil yapmıştır. Tatili bittiğinde takvim hangi tarihi gösteriyor olur?

Çözüm:

7 Soru

Bir saatin dörtte üçü kadar ders çalışıp geri kalan vakitte dinleniyorum. Buna göre 3 saatte kaç dakika dinlenmiş olurum?

Çözüm:

8 Soru

5 ayda 40 kitap okuyan Fufuk, 3 yılda kaç kitap okur?

Çözüm:

23. Hafta

Konu : Çevremizdeki Varlıkları Tanıyalım

Fen Bilimleri




Ad :

Soyad :

FUFUK Haftalık Çalışma Kitabı

ETKİNLİK

1 Aşağıda verilen resimleri inceleyelim. Canlı olan varlıkları işaretleyelim.



ETKİNLİK

2 Aşağıda verilen varlıkların canlı ya da cansız olduklarını nasıl anladığınızı yan tarafa yazınız.



Varlık	Canlı mı? cansız mı?	Nasıl anladın?
keçi		
kalem		
lale		
Dünya		
toprak		
çimen		
çocuk		
uçak		

3 Aşağıda verilen cümleleri okuyunuz. Cümlede geçen canlı ve cansız varlıkları uygun yerlere yazınız.



Cümle	Canlı varlıklar	Cansız varlıklar
Annem kek yaptı.		
Okulda top oynadım.		
Saksıya çiçek diktim.		
Karınca suya düştü.		
Denizde Ali'yi gördüm.		
Kulübede köpeğimi sevdim.		
Bardağa çay doldurdum.		
Sepeti ağaçta unutmuşlar.		

4 Aşağıda yazılan soruları cevaplayalım.



1) Ağaçlar nasıl büyür?

.....
.....

2) İnsanlar nasıl büyür?

.....
.....

3) Ağaçlar nasıl beslenir?

.....
.....

4) İnsanlar nasıl beslenir?

.....
.....

5) Ağaçlar nasıl hareket eder?

.....
.....

6) İnsanlar nasıl hareket eder?

.....
.....

7) Ağaçlar nasıl solunum yapar?

.....
.....

8) İnsanlar nasıl solunum yapar?

.....
.....

9) Ağaçlar nasıl boşaltım yapar?

.....
.....

10) İnsanlar nasıl boşaltım yapar?

.....
.....


11) Ağaçlar nasıl çoğalır?

.....
.....

12) İnsanlar nasıl çoğalır?

.....
.....

1 Aşağıda verilen yerlerden güvenli olanları işaretleyelim.



2 Aşağıda verilen ifadelerden doğru olanların başına "D" yanlış olanların başına "Y" harfi yazalım.



Bisiklete binmeden önce kask takmalıyız.

Top, güvenli alanın dışına da çıksa peşinden koşmalıyız.

Salıncakta sallanırken çok hızlı olmalıyız.

Güvenliğimiz için kaydırdaktan kayarken 2 kişi kaymalıyız.

Paten kullanırken mutlaka şapka takmalıyız.

Salıncağa bindiğimizde ayakta sallanmalıyız.

Kaykay kullanırken dizlik takmalıyız.

Parklar, çocuklar için güvenli alanlardır.

3 Aşağıda verilen kelimelerden uygun olanlarını boşluklara yazalım.



evimizin bahçesidir

tehlikelidir

sokakta

dizlik

Salıncakta sallanan arkadaşımızın önünden geçmek

..... top oynamak tehlikelidir.

Kask ve takmadan kaykaya binmemeliyiz.

Güvenli oyun alanlarından birisi de

1 Rakamları (1, 2, 3, 4, 5, 6) kullanarak sudokuyu yapalım.
Her satır ve sütunda farklı rakamlar olmasına dikkat edelim.

3	1	6			2
					1
4				3	
	5	4		1	
		5	6	2	
6	4	2		5	



				4	
	4		5		1
	1	2		5	6
	5		3		2
1		4	6		5
6	3		1		

	3		1	6	
1			2		
3		1			
6	4			5	
		6	5	2	3
5		3			6



2		4	5	6	
5			2		3
		5	6		4
			4	1	2
		2			6

5			6		3
4	1		2		
	6		4		
		2	3		6
3		6	1	5	2



	6		5		3
				4	6
2		5			1
6	1	3			
	5			1	2
	2	1			

Atasözü

Kaz gelen yerden
tavuk esirgenmez

Anlamı

Büyük bir kazanç elde edeceğini bildiğin işlerde küçük fedakarlıklar yapılmalıdır.

Resim

Kısa Hikâye

.....

.....

.....

.....

.....

.....

Deyim

Fareler cirit atmak

Resim

Anlamı

Bir yerde kimsenin olmaması.

Örnek

Fufuk'un gittiği parkta fareler cirit atıyordu.

Örnek Cümlem

Ahmet, yan sınıftaki Hasan ile konuştu. Ahmet "Okul çıkışı sizin sınıfla maç yapalım." dedi. Hasan bu teklifi hemen arkadaşları ile paylaştı. Sınıfça karar aldılar ve kabul ettiler. Okulun futbol sahasında iki sınıf maç yapmaya başladı. Hasanların sınıftaki herkes izlemeye geldiği için Hasan çok iyi oynuyordu. Ahmetlerin sınıftan ise hiç kimse izlemeye gelmedi. Ahmetlerin sınıf 3 gol attı. Hasanların sınıf ise 4 gol attı. Maç bitti. Birbirlerini tebrik ettiler.



Ahmet kiminle konuştu?

Hasan nasıl oynuyordu?

Ne zaman maç yaptılar?

En uzun cümlede kaç sözcük var?

Hasan teklifi duyunca ne yaptı?

Metinde kaç kelime vardır?

Nerede maç yaptılar?

Metinde kaç cümle vardır?

Ela 5 yaşında yaramaz bir kızdı. Alt komşusu ile her gün kapı önünde oynardı. Eve geldiğinde üstü başı hep pis olurdu. Kıyafetlerini çıkarıp hemen banyoya girendi. Annesi onu yıkadıktan sonra temiz kıyafetlerini giyip televizyon izledi.

Ela nasıl bir kızdı?

Akşam yemeğini yedikten sonra Burak annesi ile sofrayı topladı. Daha sonra babası ile balkona çıkıp çay içti. Annesi de onlara portakal getirdi. Babası portakal yavaş yavaş kesti. Kabuğundan ise yıldız yaptı.

Burak nerede çay içti?

Eve geldiğinde ne yapardı?

Babası portakalı nasıl kesti?