







## 2.SINIF GENEL TEKRAR SINAVI 5

1. 1. İnce ünlü harfler "e, i, ö, ü", kalın ünlü harfler "a, ı, o, u" dur. Buna göre hangi kelimedeki ünlü harflerin tümü **ince**dir?  
A) doktor B) mühendis C) tamirci
2. 2. "Şortunu( ) terliğini( ) havlusunu alıp denize gitti( )" cümlesinde parantez içlerine sırasıyla hangi işaretler konulmalıdır?  
A) (.) (.) (.) B) (!) (.) (?) C) (.) (!) (.)
3. 3. Hangi seçenekteki cümlenin hece sayısı **en azdır**?  
A) Hüseyin erkenden uyandı.  
B) Kahvaltısını mutfaktaki masada yaptı.  
C) Çantasını kendisi hazırladı.
4. 4. "Ona **yumuşak** elma vereceğiz." cümlesinde altı çizili sözcüğün zıt (**karşıt**) anlamı hangisidir?  
A) tatlı B) yuvarlak C) sert
5. 5. Aşağıdaki tümcelerden hangisinde **kişi adı** vardır?  
A) Gülşen tenis oynamayı sevmez.  
B) Yengem pazardan gelmiş.  
C) Kedi, fareyi kovaladı mı?
6. 6. Aşağıdaki sözcüklerden hangisi sözlükte **en önce** gelir?  
A) hemşire B) bakkal C) kasap
7. 7. "**Bizimle pikniğe** ..... ?" cümlesindeki noktalı yere, aşağıdakilerden hangisi yazılmalıdır?  
A) gelir misin B) geleceksin C) geliyorlar
8. 8. "**severdi, çocukları, Atatürk, çok**" sözcüklerinden anlamlı ve kurallı bir tümce oluşturduğumuzda **baştan ikinci sözcük** hangisi olur?  
A) severdi B) çok C) çocukları
9. 9. Hangi şekil çeyreği **belirtmez**?  
A)  B)  C) 
10. 10. Aşağıdaki harflerden hangisi simetri doğrusu ile eşit olarak **ayrılmaz**?  
A)  B)  C) 

11. 11. Aşağıdaki cisimlerden hangisinin boyu en kısadır?  
A) kapı B) kalem C) dolap

12. 12. Hangi parayla daha fazla alışveriş yapabiliriz?

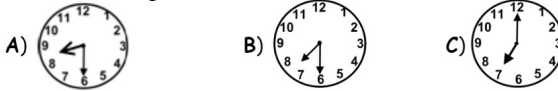


13. 13. Hangi şekil, dikdörtgenler prizmasına benzemektedir?




14. 14. Dört köşem var. İki uzun kenarım ve iki kısa kenarım var. Ben kimim?  
A) dikdörtgen B) kare C) silindir

15. 15. Cengiz, saat 08.30 da uyandı. Buna göre 1 saat öncesini gösteren saat hangisidir?



16. 16. "25" sayısının onluk ve birliklerini gösteren seçenek hangisidir?



17. 17. İki deste silginin 7 tanesi satıldı. Geriye kaç silgi kaldı?  
A) 17 B) 15 C) 13

18. 18. "Ayşe'nin babası yaralıları hastaneye taşıyan aracı kullanıyor." Sizce Ayşe'nin babasının mesleği nedir?  
A) kamyon şoförü B) ambulans şoförü C) itfaiye şoförü

19. 19. Aşağıdakilerden hangisi okul kurallarından değildir?  
A) Okul koridorlarında koşmamak.  
B) Odamızı toplamak.  
C) Sıraları kirletmemek.

20. 20. Hangisi derslerde kullanılan bir araç değildir?  
A) matkap B) defter C) bilgisayar

21. 21.



Yandaki trafik levhası ne anlama gelir?

- A) Tehlikeli yol.
- B) Otobüs durağı.
- C) Bisiklet geçebilir.

22. 22. Meslek seçimini neye göre yapmalıyız?

- A) Yetenek ve ilgimize göre
- B) Öğretmenimizin isteğine göre
- C) Ailemizin isteğine göre

23. 23. Hata yaptığımızda kullandığımız nezaket ifadesi hangisidir?

- A) Özür dilerim.
- B) İyi günler.
- C) Günaydın.

24. 24. "Şeyma 10 Kasım ..... şiir okuyacağı için çok heyecanlıdır." cümlesini hangisiyle tamamlanmalıdır?

- A) Zafer Bayramı'nda
- B) Atatürk'ü Anma Günü'nde
- C) Çanakkale Zaferi gününde

25. 25.



Resimde gösterilen şapka hangi mesleğe ait olabilir?

- A) hemşire
- B) mühendis
- C) polis