

## KAZANIM DEĞERLENDİRME SINAVI

ADINIZ SOYADINIZ: .....



Merhaba. Bu kazanım değerlendirme sınavında 25 soru var. Öğrendiklerinizi değerlendirmeye hazır mısınız?

1



Doğal afet çiçeğinin noktalı yaprağına aşağıdakilerden hangisini yazmamız doğru olmaz?




- A) heyelan B) trafik kazası  
C) yanardağ patlaması

2

Akşam hava durumunu izlediğimde yaşadığım şehirdeki hava durumu tahmininde yandaki sembolün kullanıldığını gördüm.



Buna göre yarın dışarı çıkarken yanıma hangisini almam daha doğru olur?

- A)  B)   
C) 

3



Görseldeki küçük kız için hangisini söylenemez?

- A) Bencildir. B) Yardımseverdir.  
C) Duyarlıdır.

4




Görseldeki durumla karşı karşıya kaldığımızda aşağıdaki numaralardan hangisini aramamız doğru olur?

- A) 112 - Ambulans  
B) 122- AFAD  
C) 177 - Orman Yangın





# HAYAT BİLGİSİ



5

Aşağıdaki görsellerde yer alan kişilerden hangisi sanayi alanında üretim yapmaktadır?

A)



B)



C)



6



Ülkemizde yaşanan orman yangınlarının ortaya çıkmasındaki en büyük faktör insan faktörüdür. İnsanların dikkatsizliği ve tedbirsiz davranışları sıkça bu yangınlara sebep olmaktadır.

Orman yangınlarına sebep olan aşağıdaki durumlardan hangisinde insanların etkisi yoktur?

- A) Ormana yıldırım düşmesi.
- B) Mangal ateşinin söndürülmeden ormanlık alana dökülmesi
- C) İçilen sigaraların söndürülmeden atılması.

7

	Alt ve üst geçitler
	Yaya geçitleri
	Sokaklar
	Trafik ışıklarının olduğu yerler.

Yukarıdaki tabloda trafikteki güvenli geçiş yerlerine '✓' işareti konursa tablonun görüntüsü hangi seçenekteki gibi olur?

A)



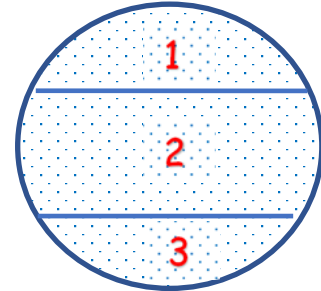
B)



C)



8



Yukarıdaki şeklin dünyamız olduğunu varsaydıgımızda ülkemiz kaç numaralı bölgede yer alır?

A) 1

B) 2

C) 3

9

Milli bayramlar her yıl aynı tarihlerde kutlanır.

Aşağıdaki tarihlerden hangisi milli bayramlarımızdan birine aittir?

A) 20 Ocak


B) 29 Mayıs

C) 23 Nisan





# HAYAT BİLGİSİ



10

1	Hüzün	4	Coşku
2	Paylaşma	5	Beraberlik
3	Mutluluk	6	Kıskançlık

Milli ve dini bayramlarda yaşanan duygular denince hangi kavramlar akla gelir?

- A) 1-3-6    B) 2-3-5-6    C) 2-3-4-5

11

Yeryüzündeki sular Güneş'in verdiği ısının etkisiyle buharlaşır.

D

Y

Yükselen su buharı soğuk havayla karşılaşıncaya yeryüzüne tekrar yağmur olarak düşer.

Su buharının donarak katılaşması ve yeryüzüne düşmesi ile yağmurlar meydana gelir.

1-D

2-Y

3-D

4-Y

Yukarıdaki bilgiler doğru ya da yanlış oluşlarına göre değerlendirildiğinde hangi sayıya ulaşılır?

- A) 1    B) 2    C) 4


12

Deprem esnasında aşağıdakilerden hangisini yapmamalıyız?


- A) Bulduğumuz yerde yaşam üçgeni oluşturmalıyız.  
B) Asansörlerden uzak durmalıyız.  
C) Derhal balkona çıkmalıyız.

13


Aşağıdaki öğrencilerden hangisi bize doğru bir bilgi vermektedir?



Geri dönüşüme önem vermek ülke ekonomisine katkı sağlar.



Atık pilleri toprağa gömmek onların zararlı etkilerini azaltır.



Metal eşyaların geri dönüşümü mümkün değildir.



- Bitkilerin büyüyüp gelişebilmesi için hava, su ve güneşe ihtiyaçları vardır.
- Bitkiler çoğunlukla kendi besinlerini kendileri üretirler.
- Hayvanlar da tıpkı insanlar gibi yaşamlarını sürdürebilmek için beslenme ve barınmaya ihtiyaç duyarlar.
- Hayvanların bir kısmı etle, bir kısmı otla ve bir kısmı da sütle beslenir.

14

Yukarıdaki bilgilerden kaç tanesi doğrudur?

- A) 2    B) 3    C) 4




15

kasırga	heyelan
deprem	tsunami

Öğretmeni Serkan'dan tabloda ülkemizde görülmesi olasılığı daha yüksek olan doğal afetlerin bulunduğu kutuları yeşile boyamasını istedi.

Buna göre Serkan doğru kutucukları boyadığında oluşan şekil hangisi olur?



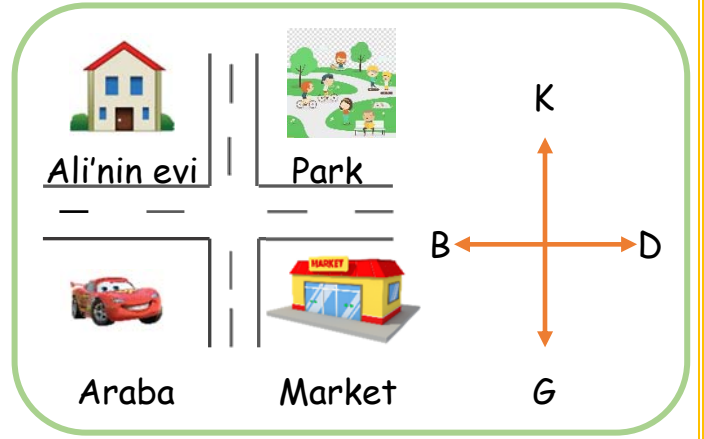
16



Annem eve dönerken yolda, Cumartesi günü kuzeninin bize geleceğini söyledi. Fakat ben kimin geleceğini tam olarak anlamadım.

Aslı'nın ifadesine göre onları ziyarete gelecek kişi kim olamaz?

- A) Annesinin halasının oğlu
- B) Annesinin teyzesi
- C) Annesinin amcasının kızı



Yukarıdaki görsele göre 17. ve 18. soruları cevaplandıralım.

17

Park Ali'nin evine göre hangi yöndedir?

- A) Doğu
- B) Batı
- C) Kuzey

18


Araba ile önce markete sonra oradan parka gitmek isteyen Ahmet Bey sırasıyla hangi yönlere gitmelidir?

- A) Doğu ve Güney
- B) Doğu ve Kuzey
- C) Kuzey ve Doğu





# HAYAT BİLGİSİ



19




Aytuğ ve Göktuğ'un izledikleri programda çölde daha az bitkiye rastlandığı bilgisi verildi. Çocuklar bunun nedenleri üzerinde düşündüler.







Çöllerde daha az bitkiye rastlanmasının nedeni hangisi olabilir?

- A) Çöllerde yeterince güneş ışığı olmaması.
- B) Çöllerde yaşayan insanların bitkilere zarar vermesi.
- C) Çöllerde yeterli su kaynağı bulunmaması.

20

-  savaşlar
-  tatil
-  hastalık
-  bayramlaşma

Yukarıda verilenlerden hangileri zorunlu göçün sebeplerindendir?

- A)  - 
- B)  - 
- C)  - 

21



- |   |              |
|---|--------------|
| 1 | karton kutu  |
| 2 | cam şişe     |
| 3 | muz kabuğu   |
| 4 | kalem pil    |
| 5 | kağıt        |
| 6 | yemek artığı |

Ela elindeki fırçayla geri dönüşüme uygun olan maddelerin olduğu satırları maviye, uygun olmayanları kırmızıya boyamak istiyor.

Ela hangi satırları maviye boyamalıdır?

- A) 3-4-6
- B) 1-2-4-6
- C) 1-2-4-5

22



Arkadaşım Burak koşu yarışmasında birinci oldu.


Ona ne söylemem gerekir?

- A) Ben de birinci olabilirdim pekâlâ.
- B) Tebrik ediyorum Burak, senin adına çok sevindim.
- C) Aferin sana.






# HAYAT BİLGİSİ



23



Dünyanın Güneş etrafındaki hareketinin sonucunda aşağıdakilerden hangisi oluşur?

- A) Günler
- B) Aylar
- C) Mevsimler

( ) Doğal afetlerin oluşması engellenemez ama öngörülebilir.

( ) Kasırga son derece güçlü bir fırtına çeşididir.

( ) Depremlerin yıkıcı etkisini azaltabilecek hiçbir önlem yoktur.

24

Yukarıdaki ifadeler doğru ya da yanlış olarak değerlendirildiğinde oluşan tablo hangi seçenekte verilmiştir?

- |        |        |        |
|--------|--------|--------|
| A) (D) | B) (Y) | C) (Y) |
| (Y)    | (D)    | (Y)    |
| (Y)    | (Y)    | (D)    |



25

Yukarıdaki tabloda yetiştikleri mevsime sebze ve meyveler yer almaktadır.

Buna göre  yerine hangisi gelemez?

A)



B)



C)



Tebrikler! Sınavı tamamladın. Aşağıdaki görsellere tıklayarak dilediğin şarkıyı seçerek dinleyebilirsin.

