

UFUK KOCA TAKİP ET

Instagram Adresim **TIKLA**



İnternet Sitem **TIKLA**



Facebook Grubum **TIKLA**



Telegram Kanalım **TIKLA**



Youtube Kanalım **TIKLA**



Twiter Adresim **TIKLA**



İnstagramdan ve Telegramdan Etkinliklerimi Takip Edebilirsiniz.
Youtubedan Konu Anlatımlı Videolarımı İzleyebilirsiniz.

FUFUK GÜNLÜK ÖDEV



Hazırlayan, Dizgileyen Ufuk KOCA.



EBA dışında başka ortamlarda ve sosyal medyada
(web site, whatsapp, telegram, facebook, instagram vb.)

Dosya ya da Resim olarak paylaşım

İZİN VERMİYORUZ.

Aşağıdaki İndirme Linki Kopyalayıp

Dilediğiniz her yerde (sosyal medyada) paylaşabilirsiniz.





<https://www.etkinlikburada.com/etkinlik.php?id=5150>




Bilginiz Olsun !

**ETKİNLİK**

1 Aşağıda verilen hayvanları inceleyiniz. Çevremizde olan hayvanları ise altındaki kutucuğu işaretleyiniz.

**ETKİNLİK**

2 Aşağıda verilen hayvanları barındıkları evleri ile eşleştiriniz.

**ETKİNLİK**

3 Çevremizde gördüğünüz bitki ve hayvanları aşağıdaki kutucuklara yazınız.

**Bitkiler****Hayvanlar**



Ad

Soyad

No

.....
.....
.....

1 Soru

Tanesi 2 TL olan limondan 5 tane aldım. Satıcıya 20 TL verdiğime göre kaç TL para üstü almalıyım?

.....
.....
.....
.....
.....

Cevap :

4 Soru

Tanesi 2 TL olan simitten 4 tane, tanesi 3 TL olan ay-randan 2 tane aldım. Toplam kaç TL harcadım?

.....
.....
.....
.....
.....

Cevap :

2 Soru

Tanesi 3 TL olan sarımsak-tan almak istiyorum. 24TL ile kaç tane sarımsak alabilirim?

.....
.....
.....
.....
.....

Cevap :

5 Soru

3 TL'ye satılan kalemlerden 8 tane aldım. Satıcı 25 TL para üstü verdiğine göre ben satıcıya kaç TL verdim?

.....
.....
.....
.....
.....

Cevap :

3 Soru

2 TL'ye kalem, 5 TL'ye kitap ve 20 TL'ye boya aldım. Sa-tıcıya 50 TL ödediğime göre kaç TL para üstü almalıyım?

.....
.....
.....
.....
.....

Cevap :

6 Soru

100 TL ve 200 TL hariç di-ğer kağıt paraların toplam değeri kaç TL'dir?

.....
.....
.....
.....
.....

Cevap :



Ad :
Soyad :
No :

Atasözü

Mum dibine
ışık vermez.

Anlamı

Bir kimse, başkalarına bol bol yaptığı
yardımı kendi yakınlarına yapmaz.

Resim

Kısa Hikâye

.....
.....
.....
.....
.....

Deyim

Tası tarağı toplamak

Resim

Anlamı

Gitmek üzere bütün
eşyalarını toplamak.

Örnek Cümle

Fufuk tası tarağı toplayıp şehre gitti.

Örnek Cümlem

.....
.....



1 Fufuk en sevdiği kalemini okulda unuttu. Pazar günü okula gidip kalemini aldı.

Fufuk kalemini **nerede** unuttu?

Fufuk **ne zaman** kalemini aldı?

3 Efe bahçeye koşarak çıktı. Yeni çıkan gülleri sevdi. Hepsi mis gibi kokuyordu. Onları güzelce suladı.

Efe bahçeye **nasıl** çıktı?

Efe **neyi** sevdi?

2 Aslı oruç tuttuğu için öğlen yemek yemedi. Akşam ezanı okununca orucunu açıp yemek yedi.

Aslı **neden** öğlen yemek yemedi?

Aslı orucunu **ne** zaman açtı?

4 Oya sınıfta yaramazlık yaptı. Ela, Oya'yı öğretmene şikayet etti. Bu yüzden Oya ile Elif de Ela'ya kızdı.

Oya'yı öğretmene **kim** şikayet etti?

Oya ile Elif, Ela'ya **neden** kızdı?


5 Ali ile Aycan köpeği Fino'yu gezdirmek istediler. Ali eline aldığı kemiği Fino'ya attı. Fino kemiği havada yakaladı. Hemen Ali'ye getirdi. Aycan da kemiği alıp fırlattı. Fazla uzağa gitmediği için Fino koşup yakalamadı. Ali "Hadi Fino yakala!" dedi. Fino koşarak kemiği yakaladı ve Ali'ye getirdi. Aycan "Fino seni daha çok seviyor herhalde her dediğini yapıyor." dedi.



Köpeğin adı **nedir**?

Ünlem işareti olan cümleyi yazınız.

Ali'nin attığı kemiği Fino **nasıl** yakaladı? Aycan'ın attığı kemiği **neden** yakalamadı?



1 Rakamları (1, 2, 3, 4) kullanarak sudokuyu yapınız. Her satır ve sütunda farklı rakamlar olmasına dikkat ediniz.



1

	1	2	
3			
	4		2
		4	

2

	2		3
4			
			1
	1	3	

3

	4		
2		4	
			3
3		1	

4

1			3
	2		1
		3	
			4

5

			3
	3	1	
	2		
4			

6

1			
	2		
		4	
4			3

7

		4	
			3
2			
	1		4

8

4			
	1		
	2	3	
			2

9

2		3	
			2
4			
	1		



ETKİNLİK

1 Aşağıda çocuklar resimde verilen eşyaları almak istiyor. Eşyayı alabilmeleri için kaç liraya ihtiyacı olduklarını altındaki kutucuğa yazın.



param



₺ 1

kuruşa ihtiyacı var.



param



₺ 70

TL'ye ihtiyacı var.



param



₺ 35

TL'ye ihtiyacı var.

ETKİNLİK

2 Aşağıda oyuncakların fiyatları yazmaktadır. Buna göre verilen soruları cevaplayalım.



₺ 15



₺ 80



₺ 45

En ucuz hangisidir?

50 liram var. 2 topaç alırsam kaç liram kalır?

En pahalı hangisidir?

Oyuncak ufo ile topaç alırsam kaç TL ederim?

ETKİNLİK

3 Aşağıda kırtasiye eşyalarının fiyatları yazmaktadır. Buna göre verilen soruları cevaplayalım.



Peynir

1 Yumurta

Süt



En ucuz hangisidir?

16 TL ile kaç tane yumurta alabilirim?

En pahalı hangisidir?

En pahalı olan en ucuz olandan kaç TL fazladır?