

1. Sınıf Onluk Birlik Konu Değerlendirme Testi

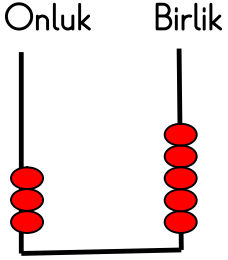
1. 1 onluk ve 8 birlikten oluşan sayı aşağıdakilerden hangisidir?

A. 81

B. 18

C. 9

2. Aşağıdaki abaküste belirtilen sayı hangisidir? İşaretleyiniz.




A. 35

B. 43

C. 25

3.



Yanda verilen arabaları sayalım.
Arabaların sayısını bulalım. Arabaların sayısını gösteren onluk ve birlik tablosunu işaretleyelim.

A.

onluk	birlik
2	2

B.

onluk	birlik
1	2

C.

onluk	birlik
2	0

4. 56 sayısının kaç tane onluğu vardır? İşaretleyiniz.

A. 6

B. 9

C. 5

5. '3 onluk ve 2 birlik' ten oluşan sayının okunuşu aşağıdakilerden hangisidir?

A. yirmi üç

B. üç iki

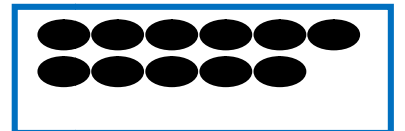


C. otuz iki

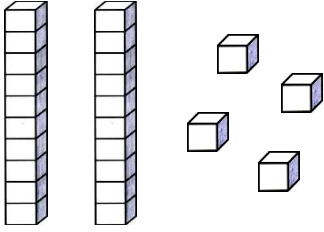
6. Aşağıdakilerden hangisi '1 onluk ve 4 birlik' ten oluşan sayıyı gösterir?

A.

B.

C.

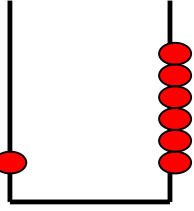


7.  Yan taraftaki bloklarla oluşturulan sayı için aşağıdakilerden hangisi söylenemez?

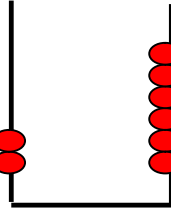
- A. 2 onluk ve 4 birlikten oluşmuştur.
B. Okunuşu 'yirmi üç' tür.
C. 2 birlik ve 4 onluktan oluşmuştur.

8. Aşağıda verilen abaküslerden hangisi 26 sayısını göstermektedir?

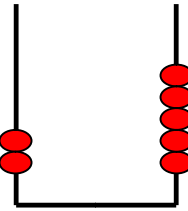
A.



B.



C.



9. Aşağıda verilen taşıtları sayın ve onluk birlik şeklinde altlarına yazınız.



....onluk.....birlik

....onluk.....birlik

....onluk.....birlik

10. Aşağıdaki soruların cevaplarını karşlarına yazalım.

Onluk ve birliği aynı olan sayı yazar mısın?.....

7 birlik 3 onluk kaç eder?

28 sayısında kaç onluk vardır?.....

17 sayısına kaç eklersem 2 onluk eder?.....

8 rakamına kaç eklersem 1 onluk eder?.....

