

## KONU BAZLI DENEME SINAVI

1. "Ulus" sözcüğünün anlamdaşı hangi cümlede bulunmaktadır?
- A) Vatanımı çok seviyorum.
  - B) Milletçe futbolu severiz.
  - C) Yurdumun her köşesi cennettir.
  - D) Cumhurbaşkanı ulusa sesleniyor.

2. Aşağıdakilerden hangisi bir yönüyle diğerlerinden farklıdır?
- A) aşağı - yukarı
  - B) çıkış - iniş
  - C) emniyet - güven
  - D) alt - üst

3. Aşağıdaki cümlelerden hangisinde zıt anlamlı kelimeler bir arada kullanılmıştır?
- A) Okula giderken Elif'e rastladım.
  - B) Yarın kırtasiyeye gidip kalem alacağım.
  - C) Az önce telefonla konuşurken çok bağırışım.
  - D) Kapıyı sen mi açtın?

4. uzun - kısa
- Yukarıdaki sözcükler arasındaki anlam ilişkisinin benzeri aşağıdakilerden hangisinde vardır?
- A) soğuk - sıcak
  - B) yıl - sene
  - C) misafir - konuk
  - D) ilgi - alaka

5. Aşağıdaki sözcüklerden hangisinin birden çok anlamı vardır?

- A) var                      B) gel  
C) al                        D) koş

6. "yanmak" sözcüğü aşağıdaki cümlelerden hangisinde mecaz anlamda kullanılmıştır?

- A) Tiyatroya gidemeyince biletimiz yandı.  
B) Yemeği unutunca dibi yandı.  
C) Kibritle oynarken eli yandı.  
D) Sıcak cezveyi tutunca yaniverdi.

7. "Bardak elinden düşünce kırıldı."  
Yukarıdaki cümlede "kırıldı" sözcüğü hangi anlamda kullanılmıştır?

- A) Gerçek anlam      B) Mecaz anlam  
C) Yan anlam         D) Terim anlam

8. Aşağıdakilerden hangisi matematik ile ilgili terim anlamı bir sözcüktür?

- A) gol                      B) nota  
C) perde                 D) köşe

9. Aşağıdaki cümlelerden hangisinde terim anlamı bir sözcük yoktur?

- A) Ali, futbolcu olmak istiyor.  
B) Esra bize geldi.  
C) Dikdörge'nin alanını hesaplamayı öğrendim.  
D) Hemşire iğnemi yaptı.

10.

Aşağıdaki sözcüklerden hangisi eş sesli **değildir**?

- A) kaz                      B) bin  
C) su                        D) kız

13.

Bir çıkarma işleminde eksilen sayı 5921, fark 2354 ise çıkan kaçtır?

- A) 3567                      B) 3578  
C) 3596                      D) 4537

11.

O, çok ağır konuşuyordu.

Yukarıdaki cümlede mecaz anlamda kullanılan sözcük hangisidir?

- A) O                         B) Çok  
C) Ağır                      D) Konuşuyordu

14.

5A30

- B9C4

-----

3876

Yukarıdaki çıkarma işlemine göre  $A + B + C = ?$

- A) 11                      B) 12                      C) 13                      D) 14

12.

.....  
- 4237  
-----  
1894

Yukarıdaki çıkarma işleminde noktalı yere hangi sayı yazılmalıdır?

- A) 4896                      B) 5131  
C) 5293                      D) 6131

15.

Bir çıkarma işleminde çıkan 3675, fark 4749 ise eksilen kaçtır?

- A) 6468                      B) 7424  
C) 7472                      D) 8424

16.

$$\begin{array}{r} 4238 \\ - 1523 \\ \hline \end{array}$$

Yukarıdaki işlemin tahmini sonucunu en yakın onluğa yuvarladığınızda sonuç kaç olur?

- A) 2720                      B) 2740  
C) 2730                      D) 2750

17.

$$\begin{array}{l} 6330 - A = 4356 \\ 8975 - B = 5429 \end{array}$$

Yukarıdaki işlemlere göre;  $B - A = ?$

- A) 1472                      B) 1572  
C) 1672                      D) 1772

18.

Rakamları birbirinden farklı en büyük dört basamaklı sayı, 5987 sayısından ne kadar fazladır?

- A) 3500                      B) 3674  
C) 3889                      D) 3995

19.

550 TL paranın önce 175 TL'sini, sonra kalan paranın 80 TL'sini harcadım.

Geriye kaç TL kaldı?

- A) 270                      B) 285  
C) 295                      D) 310

20.

4700 km'lik yolun önce 1620 km'sini sonra 1480 km'sine bakım yapılmıştır.

Bakım yapılacak kaç km yol kalmıştır?

- A) 1400                      B) 1500  
C) 1600                      D) 1700





21.

Ayakkabı üreten bir firma 1560 çift bayan ayakkabısı, bundan 370 çift daha fazla erkek ayakkabısı üretmiştir.





Firmanın ürettiği toplam ayakkabı çifti kaç tanedir?

- A) 3470                      B) 3490  
C) 3500                      D) 3525


22. ✓ Saç taramak  
✓ Yürümek  
✓ Yazı yazmak  
✓ Bisiklet sürmek
- Yukarıdakilerden kaç tanesini yaparken kuvvet uygularız?
- A) 4 B) 3  
C) 2 D) 1

23. Aşağıdakilerden hangisinde kuvvetin farklı bir etkisi vardır?
- A)  B)  C)  D) 

24. Daldan düşen elmaya yere düşerken etki eden kuvvet elmaya ..... etki yapar.
- Yukarıdaki ifadede noktalı yere hangisi yazılmalıdır?
- A) hızlandırıcı B) yön değiştirici  
C) yavaşlatıcı D) şekil değiştirici

25. Aşağıdaki cisimlerden hangisine uygulanan kuvvet kalıcı şekil değişikliğine neden olur?
- A)  B)  C)  D) 

26. Aşağıdakilerden hangisi kuvvetin döndürme etkisine örnektir?



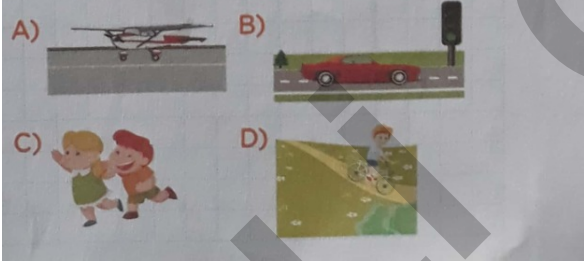
28.

- ✓ Kuvvet, cismin şeklini değiştirir.
- ✓ Kuvvet, cismin yönünü değiştirir.
- ✓ Kuvvet, cismin rengini değiştirir.
- ✓ Kuvvet, cismin hızını değiştirir.

Yukarıdaki ifadelerden kaç tanesi doğrudur?

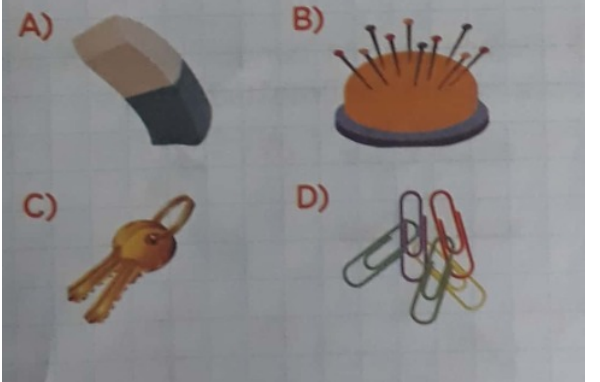
- A) 1                      B) 2  
C) 3                      D) 4

27. Aşağıdaki durumların hangisinde kuvvetin yavaşlatıcı veya durdurucu etkisini görürüz?




29.

Aşağıdaki cisimlerden hangisine mıknatısın çekme kuvveti etki **etmez**?



30. Aşağıdakilerden hangisi mıknatısın günlük hayattaki kullanım alanlarından biri **değildir**?



31. "Mıknatısların uyguladığı itme ve çekme kuvveti ....."

Yukarıdaki cümlede noktalı yere aşağıdakilerden hangisi yazılmalıdır?

- A) temas gerektirir
- B) temas gerektirmez
- C) etki etmez
- D) etki oluşturmaz

32. Aşağıdaki ifadelerden hangisi **yanlıştır**?

- A) Mıknatısın iki kutbu vardır.
- B) Mıknatısın at nalı, çubuk, halka gibi farklı çeşitleri vardır.
- C) Mıknatısta aynı kutuplar birbirini çeker.
- D) Mıknatısta zıt kutuplar birbirini çeker.

33. Aşağıdaki maddelerden hangisini mıknatıs **çekemez**?

- A) Demir
- B) Nikel
- C) Kobalt
- D) Bakır

34. Aile tarihimizi öğrenirken hangisinden **doğru bilgi edinmeyiz**?

- A) dedemiz
- B) öğretmenimiz
- C) babamız
- D) anneannemiz

35. Geçmişte yaşanan olaylarla ilgili olarak; o olayları yaşamış kişilerle yapılan görüşmelere ..... yöntemi denir. Yukarıdaki açıklamalardan noktalı yere hangisi yazılmalıdır?
- A) sözlü tarih
  - B) yazılı tarih
  - C) sözlü anlatım
  - D) yazılı anlatım

36. Aşağıdaki ifadelerden hangisi yanlıştır?
- A) Sözlü tarih; genellikle kişinin yaşam öyküsünü saptar.
  - B) Sözlü tarih yönteminde, görüşülen kişi rastgele seçilir.
  - C) Sözlü tarih yönteminde, anlatılanlar yazıya dökülür.
  - D) Sözlü tarih yönteminde, sorulacak sorular önceden hazırlanır.

37. Aşağıdakilerden hangisi geleneksel el sanatlarımızdan biri değildir?
- A) Çinicilik
  - B) Ebru sanatı
  - C) Hat sanatı
  - D) Üç boyutlu resim sanatı

38. "Zeybek" hangi bölgemize ait bir halk oyunudur?
- A) Akdeniz Bölgesi
  - B) Karadeniz Bölgesi
  - C) Ege Bölgesi
  - D) İç Anadolu Bölgesi

39. Aşağıdakilerden hangisi gelenek - göreneklerimize ait bir kutlama örneği değildir?
- A) Düğün
  - B) Bayram ziyareti
  - C) Kına gecesi
  - D) Noel



40.

- ✓ Hamburger      ✓ Manti  
 ✓ Etili ekmek      ✓ Pizza  
 ✓ Baklava

Yukarıdaki yiyeceklerden kaç tanesi millî kültürümüze aittir?

- A) 5                      B) 4  
 C) 3                      D) 2

42.

Bir kültürel ögenin geçmişten günümüze kadar gelmesine değer denir.

Buna göre aşağıdakilerden hangisi değerlerimizden biridir?

- A) misafirperverlik  
 B) okula gitme  
 C) yemek pişirme  
 D) sohbet etme

41.

Aşağıdakilerden hangisi millî kültürümüze ait unsurlardan biri değildir?



43.

Aşağıdaki savaşlardan hangisi Millî Mücadele'den önce yapılmıştır?

- A) I. İnönü Savaşı  
 B) Sakarya Savaşı  
 C) Çanakkale Savaşı  
 D) II. İnönü Savaşı

44. Mustafa Kemal'e, Gazilik ve Mareşallik ünvanı hangi savaşın sonunda verilmiştir?
- A) I. İnönü Savaşı
  - B) Sakarya Savaşı
  - C) II. İnönü Savaşı
  - D) Büyük Taarruz ve Başkomutanlık Meydanı Savaşı

45. Millî Mücadele ile ilgili bilgi edinmek istediğimizde aşağıdaki yerlerden hangisine gitmeliyiz?
- A) müze
  - B) anıt
  - C) şehitlik
  - D) avm