
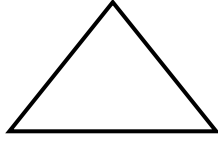


# ÖDEVİM


**GÖREV 1-** Aşağıdaki şekilleri Matematik defterinize çizin ve belirtilen kadarını boyayın.



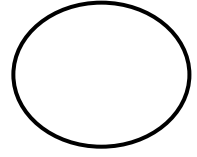
ÇEYREK



BÜTÜN

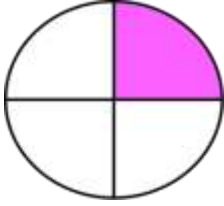


YARIM



ÇEYREK


**GÖREV 2-** Aşağıdaki şekilleri defterinize çizin ve boyayın. Boyalı kısım bütün ,yarım,çeyrek kavramlarından neyi ifade eder altına yazın?



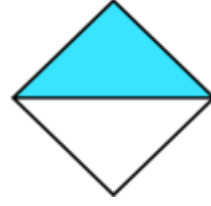
.....



.....



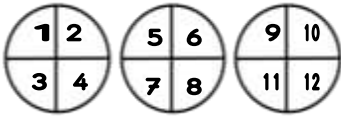
.....



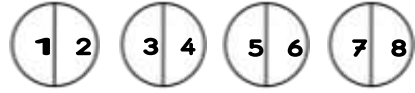
.....

**GÖREV 3-**Aşağıda verilen örneklere göre soruları çöz ve defterine yaz.

Örnek : 3 bütün **12** çeyrektir.



Örnek : 8 yarım **4** bütündür.



❖ 5 bütün ..... çeyrektir.

❖ 16 çeyrek ..... yarımır.

❖ 12 yarım ..... bütündür.

**GÖREV 4-** Aşağıdaki deyimleri anlamlarını yandaki tablodan bularak anlamlarıyla birlikte Türkçe defterinize yazın. Deyimleri birer cümlede kullanın. Bu deyimleri anlamına uygun bir şekilde ailenizle canlandırabilirsiniz.

1- Parmak ısırma :

2- Göz atma :

3- Etekleri zil çalma :

4- Ağızdan bal damlamak :

Şöyle bir bakmak

Güzel konuşmak

Çok şaşırma

Çok sevinmek