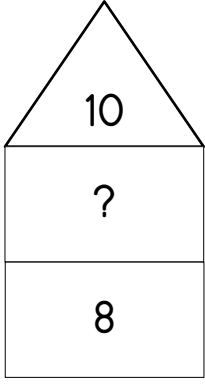


Toplama İşlemini Öğreniyorum

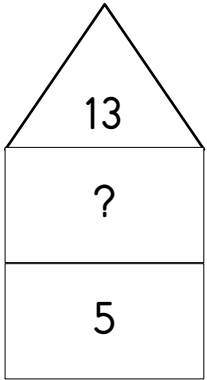
Aşağıdaki verilmeyen toplananı bulalım.



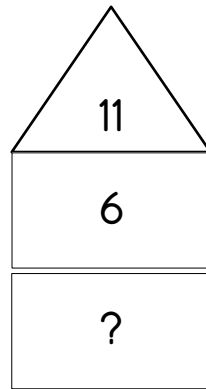
$$\begin{array}{r} \boxed{?} \\ \boxed{8} \\ + \\ \hline \boxed{1} \boxed{0} \end{array}$$

Evde 10 kişi oturuyor. Birinci katta 8 kişi oturuyor.
2. Katta kaç kişi oturuyor bilmiyorum.
2.katta oturan kişi sayısını bulmak için 8'den 10 kadar sayalım.

$$\begin{array}{c} 8 \quad - \quad 9 \quad - \quad 10 \\ \underbrace{\hspace{1cm}} \quad \underbrace{\hspace{1cm}} \\ 1 \quad \quad \quad 2 \\ 2 \text{ kişi oturmaktadır.} \quad \boxed{?} = 2 \end{array}$$



$$\begin{array}{r} \boxed{?} \\ \boxed{5} \\ + \\ \hline 13 \end{array}$$



$$\begin{array}{r} \boxed{?} \\ \boxed{6} \\ + \\ \hline 11 \end{array} \quad \boxed{?} = ?$$