

Adı soyadı:

4. Sınıf Günlük Çalışmalar

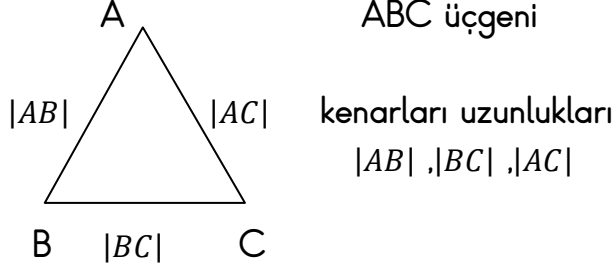
Üçgen , kare ve dikdörtgenin kenar uzunluklarını isimlendirme

örnek

kenar uzunlukları | | sembolü ile gösterilir.

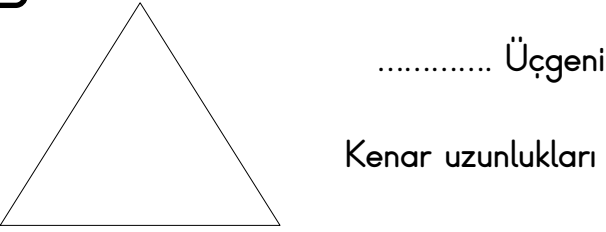
Örnek: üçgenin kenar uzunlukları sembolle gösterelim.

1

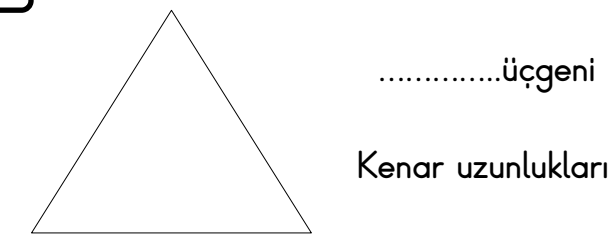


Örnekteki gibi isimlendirip, kenar uzunlukları sembolle gösterin.

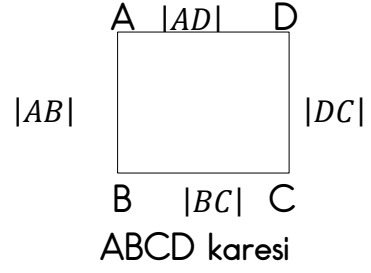
2



3




4



Kenar uzunlukları : $|AB|$  , $|BC|$  , $|DC|$  , $|AD|$

Örnekteki gibi isimlendirip, kenar uzunluklarını sembolle gösterin.

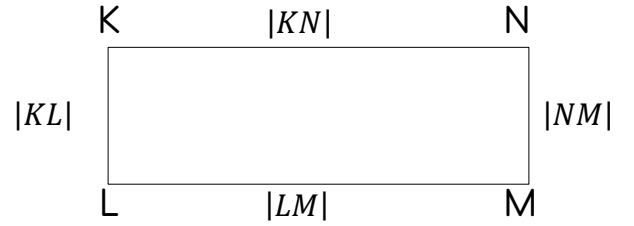
5



..... karesi  
Kenar uzunlukları

6

Örnek



Kenar uzunlukları:  $|KL|$  , $|LM|$  , $|NM|$  , $|KN|$

Örnekteki gibi isimlendirip, kenar uzunlukları sembolle gösterin.

7



.....dikdörtgeni  
Kenar uzunlukları :