



**Dolu Dolu**  
**64 SAYFA**

**METİN İLE İLGİLİ**  
**5 N 1 K**  
**DOĞRU YANLIŞ**  
**TEST**  
**SORULARI**

**TOPLAM**  
**345 soru**



**EĞLENCELİ**  
**OKUMA ANLAMA**  
**ETKİNLİKLERİ**

**SİPARİŞ**

**0 552 252 83 85**

**KARGO ÜCRETSİZ**


**EN AZ 10 TANE ALIM**



**Fiyat : 10 TL**

**Sipariş Whatsapp :**


**0 552 252 83 85**



SORU

1

Yandaki cisme benzeyen varlıkları bulup aşağıya yazınız.



Cevap : .....

SORU

5


4 kenarı olan geometrik şekillerin adını yazınız.

Cevap : .....

SORU

2

Yandaki cisme benzeyen varlıkları bulup aşağıya yazınız.



Cevap : .....

SORU

6


Kare ile dikdörtgenin benzer özelliklerini yazınız.

Cevap : .....

SORU

3

Yandaki cisme benzeyen varlıkları bulup aşağıya yazınız.



Cevap : .....

SORU

7

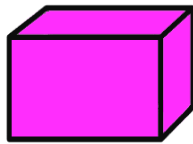
Köşesi olmayan geometrik cisimleri yazınız.

Cevap : .....

SORU

4

Yandaki cisme benzeyen varlıkları bulup aşağıya yazınız.



Cevap : .....


SORU

8

Portakal, karpuz hangi geometrik cisme benzemektedir?

Cevap : .....


1 Yandaki geometrik cisme benzeyen şekil aşağıdakilerden hangisidir?




2 Kenarı olmayan geometrik şekil arıyorum.



Buna göre Fufuk'un aradığı geometrik şekil aşağıdakilerden hangisidir?



3 Yanda verilen kare prizmayı kullanarak aşağıdaki şekillerden hangisini çizemeyiz?



Yukarıda çizilen resimde en çok hangi geometrik şekil vardır?



5 Hangi geometrik cisme benzeyen şekil yukarıda verilmemiştir?

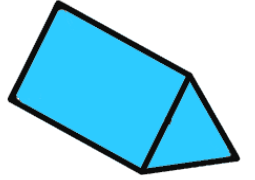


6 6 tane yüzü vardır.

9 tane ayrıtı (kenarı) vardır.

6 tane köşesi vardır.

Yukarıdaki çocuklardan hangisi yanda verilen geometrik cismin özelliğini yanlış söylemiştir?



Adı : .....  
Soyadı : .....  
Sınıfı : ..... / ..... No : .....

### CEVAPLAR


1	A	B	C	6	A	B	C
2	A	B	C	7	<del>A</del>	<del>B</del>	<del>C</del>
3	A	B	C	8	<del>A</del>	<del>B</del>	<del>C</del>
4	A	B	C				
5	A	B	C				

FUFUK İle Deyimleri Boyuyorum

www.ufukkoca.com

# FUFUK İLE DEYİMLERİ BOYUYORUM


2.BASKI



48 DEYİM

14 SAYFA ETKİNLİK

110 SAYFA



Facebook.com/ufukkoca61  
instagram.com/ufukkoca61

ISBN 978-605-810-47-0-9  
9 786058 104709

Ufuk KOCA  
www.ufukkoca.com

10 TL

Whatsapp Sipariş

0 552 252 83 85

Kargo Ücretsiz

EN AZ 10 TANE ALIM

48 DEYİM - 110 SAYFA

14 SAYFA ETKİNLİK SORULARI

www.ufukkoca.com

www.etkinlikburada.com