

**22 NİSAN 2020**

**ÖĞRENCİ  
GÖREVLERİ**



nihalkaralikorkmaz

# İLK HARFİ NEDEN BÜYÜK

Cümlelerde kullanılan büyük harfleri daire içine alın. Neden büyük yazıldığını örnekteki gibi belirtin.

ÖRNEK

Bugün Türkiye'nin en kalabalık şehrinin İstanbul olduğunu öğrendim.



- 1- Cümle başı
- 2- Ülke adı
- 3- Şehir Adı

1

En yakın arkadaşımın ismi İsmail.



- 1- .....
- 2- .....

2

Melihler Ankara'dan Adana'ya taşınacaktı.



- 1- .....
- 2- .....
- 3- .....

3

Köpeğimiz Oskar ve kedimiz Pamuk çok iyi anlaşılıyor.



- 1- .....
- 2- .....
- 3- .....

4

Bu göklerin, bu yerin.  
Kutlu emanetlerin  
Bekçisiyiz çocuklar.



- 1- .....
- 2- .....
- 3- .....

5

Küçük Prenses'i çok severek okudum.



- 1- .....
- 2- .....

6

Salihlerin oturduğu Cumhuriyet Sokak'ta çok büyük bir yangın çıkmış.



- 1- .....
- 2- .....
- 3- .....

7

Bilim adamları Mars'ta su bulduklarını açıklamış.



- 1- .....
- 2- .....



nihalkaralikorkmaz

# ÜLKEMİZDE HAYAT TEKRAR ÇALIŞMAMIZ

Cümlelerde boş bırakılan yerleri kutucuktaki kelimelerden uygun olanı ile doldurarak hayat bilgisi defterinize yazın.

- 1- Bayrağımız ve İstiklal Marşımız ..... sembolüdür.
- 2- Bayrağımızın zemin rengi .....dır. Üzerinde ay ve ..... vardır.
- 3- Milli marşımızı ..... yazmıştır.
- 4- İstiklal Marşımızı ayakta ve ..... duruşunda dinleriz.
- 5- Atatürk, Türkiye Büyük Millet Meclis'inin açıldığı günü ..... bayram olarak hediye etmiştir.
- 6- 29 Ekim günü ..... ilan edildi.
- 7- Milli bayramlarda evler, okullar, caddeler ..... donatılır.
- 8- Atatürk 19 Mayıs günü ..... 'a çıktı. Kurtuluş Savaşı'nı başlattı. Bu günü ..... armağan etti.
- 9- ..... yurdumuzun atıldığı 30 Ağustos' u ..... Bayramı olarak kutlarız.

düşmanların

gençlere

Samsun

bağımsızlığımızın

yıldız

saygı

Cumhuriyet

zafer

bayraklarla

Mehmet Akif Ersoy

kırmızı

çocuklara




nihalkaralikorkmaz

# ÖĞLEDEN ÖNCE, ÖĞLEDEN SONRA

Aşağıdaki saatlerin üzerinde yazan zaman dilimine göre kaç gösterdiğini dijital saatlere yazalım.


Öğleden önce

1



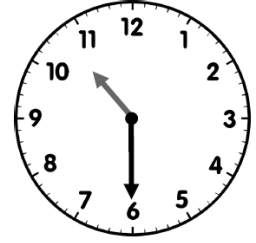
Öğleden sonra

2



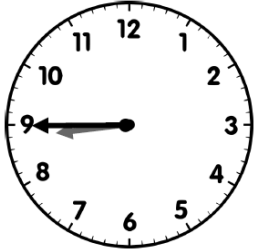
Öğleden sonra

3



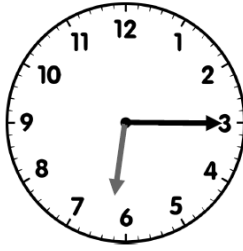
Öğleden önce

4



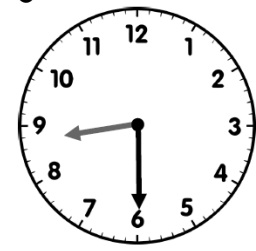
Öğleden önce

5



Öğleden sonra

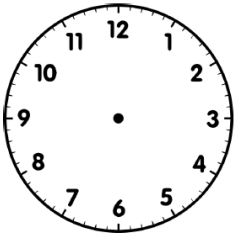
6



Dijital saatlerde verilen zamanları , analog saatlerin üzerine akrep ve yelkovan çizerek gösterin.

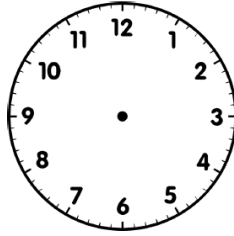
1

21:00



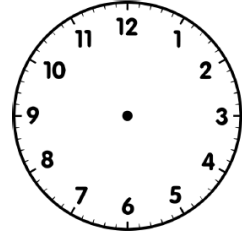
2

17:15



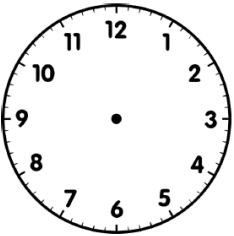
3

12:45



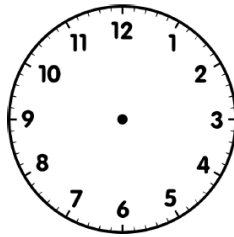
4

03:30



5

18:30



6

00:15

