




## VERİ TOPLAMA

1.Etkinlik:Tabloyu inceleyelim. Soruları tabloya göre cevaplayalım.

Gol Atan Çocukların Tablosu			
Çocuklar	 Semih	 Önder	 Barış
Gol Sayısı	5	3	8

Barış ..... tane gol atmış.

Semih ..... tane gol atmış.

Önder ..... tane gol atmış.

En fazla golü kim atmış ?  
.....

En az golü kim atmış ? .....

Üç çocuk toplam kaç gol atmış ? .....

Barış Semih'ten kaç tane fazla gol atmış? .....



2.Etkinlik: Tabloyu inceleyelim. Soruları tabloya göre cevaplayalım.

Satılan Karpuz Tablosu							
Günler	Pazartesi	Salı	Çarşamba	Perşembe	Cuma	Cumartesi	Pazar
Sayısı	8	12	9	12	6	15	10

Çarşamba günü kaç tane karpuz satılmış ? .....

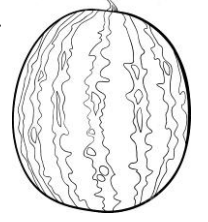
En az karpuz hangi gün satılmış ? .....

En fazla karpuz hangi gün satılmış ? .....

Hangi günler aynı miktarda karpuz satılmış ? .....

Cumartesi günü satılan karpuz çarşamba gününden kaç tane fazladır ? .....

Pazar ve pazartesi günü toplam kaç karpuz satılmış ? .....



3.Etkinlik: Tabloyu inceleyelim. Soruları tabloya göre cevaplayalım.

Kursa Katılanlar Tablosu						
Kurslar	Yüzme	Tenis	Basketbol	Futbol	Tekvando	Voleybol
Sayısı	12	7	9	18	6	7

En fazla öğrenci hangi kursa gitmektedir ? .....

En az öğrenci hangi kursa gitmektedir? .....

Hangi kursları aynı sayıda öğrenci gitmektedir ? .....

Yüzme ve tekvandoya toplam kaç öğrenci gitmektedir? .....

Basketbol ve tenise toplam kaç öğrenci gitmektedir? .....

Futbola gidenlerin sayısı basketbola gidenlerden kaç fazladır ? .....

