


03 Nisan 2020


**ÖĞRENCİ
GÖREVLERİ**

☺ TÜRKÇE ÇALIŞMAMIZ ☺


Örnekte olduğu altı çizili kelimenin cevap olabileceği soru cümleleri yazalım.



Ceren, uçakla Adana'ya gitti. → Ceren uçakla nereye gitti?



Ablam meyveli pasta yaptı. → _____



Bugün hasta olduğum için işe gidemedim. → _____



Yasin, kitap okumayı çok sever. → _____

Aşağıdaki cümleleri aklınızdan oluş sırasına göre sıralayın, daha sonra doğru sırada defterinize yazın.

Annelerinin hazırladığı poğaç, börek ve kekleri sepetlerine koydular.

Burası piknik için çok uygundu.

Öğrenciler Pazar günü pikniğe gitmeye karar verdiler.

Kocaman ağaçların gölgesinde getirdikleri yiyecekleri keyifle yediler.

Güle oynaya, şarkılar söyleyerek şehrin içerisindeki yeşil alana geldiler.

☺PROBLEMLERİMİZ☺

Problemleri matematik defterine yaz ve cevapla bakalım.

PROBLEM 1:

Cebinde 50 TL'si olan Çınar, tanesi 4 TL'den 9 tane kalem aldığında kaç TL'si kalır ?

PROBLEM 2:

4 tane karpuz 16 kilogramdır.
7 tane karpuz alırsak, kaç kilogram karpuz almış oluruz?

PROBLEM 3:

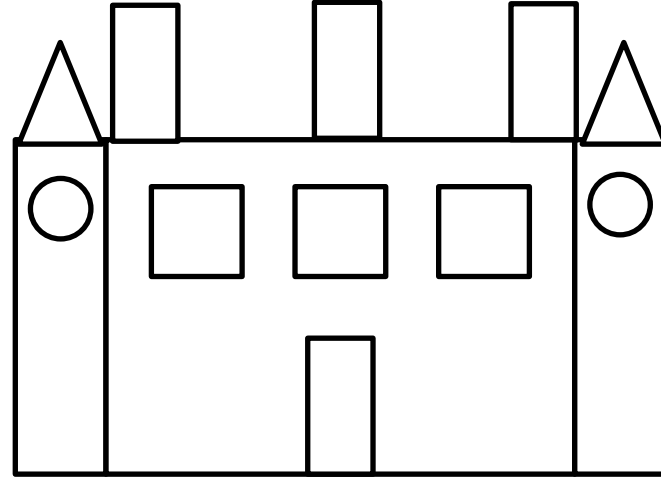

58 sayısının rakamlarının yerleri değiştirildiğinde oluşan yeni sayı ile ilk sayı arasındaki fark kaçtır?

PROBLEM 4:

5 hafta 18 gün
toplam kaç gündür?

☺ GEOMETRİK ŞEKİLLER ☺

Aşağıdaki resimleri matematik defterinize çizin. Hangi geometrik şekilden kaç tane olduğunu yazınız.



ŞİMDİ SIRA SİZDE

Sizde matematik defterinize geometrik şekilleri kullanarak bir resim oluşturun.