


Emine 6 vazonun her birine 5 çiçek koydu. Vazolardaki toplam çiçek sayısı kaçtır?




Ahmet kitaplığındaki 4 bölümün her birine 5'er kitap yerleştirdiğine göre kaç kitabı vardır?




9 kuzunun kaç ayağı vardır?


ÇARPMA İŞLEMİ PROBLEMLERİ



Bir kutu süt 3 TL'dir. 8 kutu süt alan annem kaç TL öder?



Murat 9 ineğin her birinden üçer kova süt sağdı. Toplam kaç kova süt sağmıştır?



Bir bahçede 4 ağaç vardır. Her ağaçta 4 kuş olduğuna göre ağaçlarda toplam kaç kuş vardır?