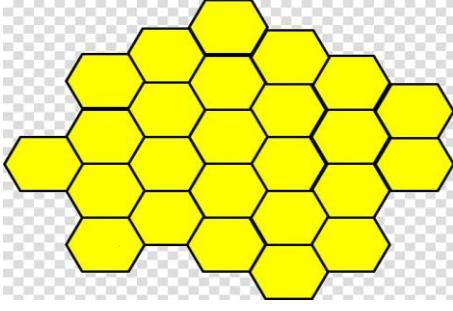


KUZULARIMA ÖDEV



1-Yukarıda kaç adet petek vardır?
Yazınız.

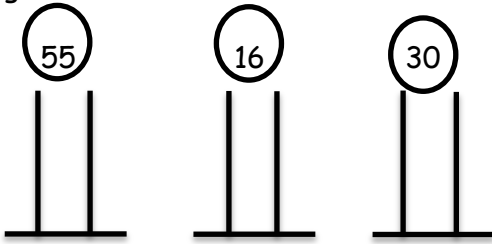
2-Aşağıdaki soruları tabloya göre
cevaplayınız. Tablodaki şekilleri sayalım.

▲	▲	▲	▲	▲	▲
▲	▲	▲	▲	▲	▲
▲	▲	▲	▲	▲	▲
▲	▲	▲	▲	▲	▲
▲	▲	▲	▲	▲	▲

▲ şeklionlukbirlikten
oluşur.

▲ şeklionluk.....birlikten
oluşur.

3- Aşağıda verilen sayıları abaküste
gösteriniz.



4- 8 11 14 ? 20
Örüntüsünde ? olan kısmı hangi sayı
gelmelidir?

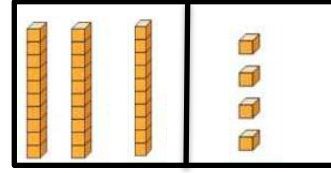
ceydaogretmen



5-Aşağıda verilen bilgilerden doğru
olanların başına (D) yanlış olanların
başına (Y) yazınız.


- () 41 sayısında 4 onluk vardır.
() 85 sayısının 8 birlik vardır.
() 12 kalem, 1 deste oluşturur.
() 11 çilek, 1 düzinedir.
() 68 sayısı 6 onluk, 8 birlikten
oluşmaktadır.

6-



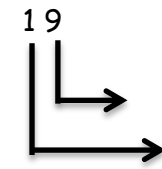
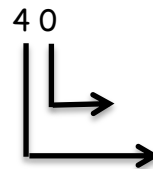
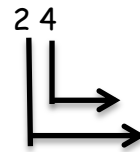
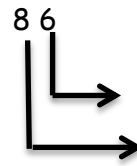
Sayı:		
Basamak Adı:		
Basamak Değeri:		

7- Aşağıdaki nesnelere sayınız.
Boşlukları doldurunuz.



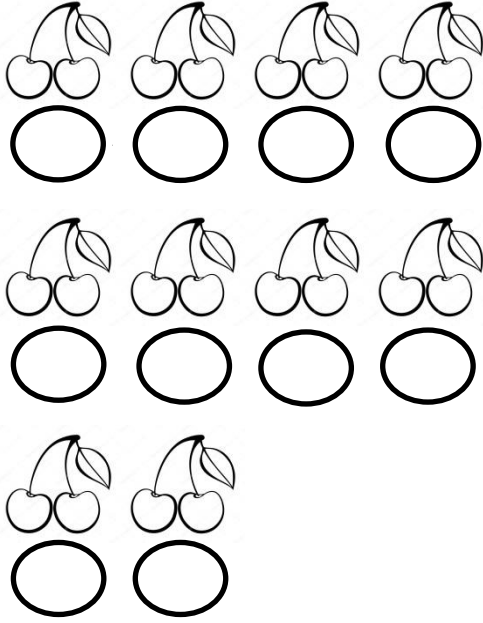
Sayı:		
Basamak Adı:		
Basamak Değeri:		

8- Aşağıdaki sayıların basamak adlarını
yazınız.




KUZULARIMA ÖDEV


9- Aşağıdaki kirazları 2'şer 2'şer sayınız boşluklara yazınız ve boyayınız.



10- Aşağıdaki boşlukları 3'er 3'er sayarak doldurunuz.




11- Aşağıdaki boşlukları 4'er 4'er sayarak doldurunuz.



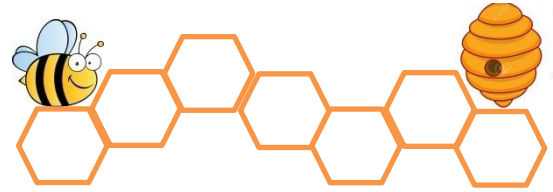
ceydaogretmen



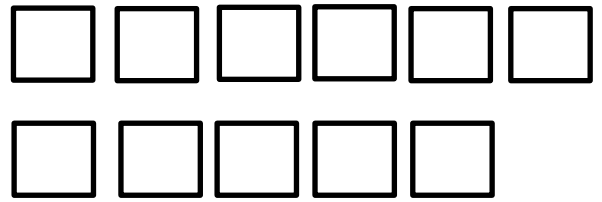
12- Aşağıdaki şekillerin üzerlerine 5'er 5'er sayarak yazalım.




13- 7'den başlayıp 3'er 3'er yazarak arıyı kovanına ulaştırın.



14- 44'ten başlayıp geriye doğru 4'er 4'er sayalım boşluklara yazalım.



15- 100'den geriye doğru 10'ar 10'ar sayalım. Uygun boşluklara yazalım.



KUZULARIMA ÖDEV

16- 75, 80, 16, 44 sayılarını küçükten büyüğe doğru (<) işareti kullanarak sıralayınız.

17- 44, 48, 40, 44, 43 sayılarını büyükten küçüğe doğru (>,) işaretlerini kullanarak sıralayınız.

18- Erva'nın 18, Eren'in 32, Bedirhan'ın 29, Zeynep'in 30, Ömer Salih'in 41 adet bilyesi vardır. Çocukları bilyelerinin en çok olandan en az olana doğru sıralayınız.

19- Asel'in 39, Tuana'nın 27, Nisa Nur'un 33 hikâye kitabı vardır. Kitapların sayılarının hangi onluğa yakın olduğunu bulunuz.

20- Aşağıda sayıların hangi onluğa yakın olduğunu bulunuz ve kutucuğu boyayınız.

32

30
40

 79


70
80

55

50
60

 81

80
90

21-  Örüntüsünde bir sonraki adım sizce hangi şekil olmalıdır bulunuz.

ceydaogretmen



22- Aşağıdaki toplama işlemlerini yapınız.

$$\begin{array}{r} 22 \\ + 8 \\ \hline \end{array} \quad \begin{array}{r} 17 \\ + 13 \\ \hline \end{array} \quad \begin{array}{r} 36 \\ + 21 \\ \hline \end{array} \quad \begin{array}{r} 50 \\ + 10 \\ \hline \end{array}$$

$$\begin{array}{r} 38 \\ + 23 \\ \hline \end{array} \quad \begin{array}{r} 40 \\ + 16 \\ \hline \end{array} \quad \begin{array}{r} 57 \\ + 33 \\ \hline \end{array} \quad \begin{array}{r} 31 \\ + 39 \\ \hline \end{array}$$

23- Bir Lokanta öğleden önce 25 ayran öğleden sonra da 37 ayran satmıştır. Bu lokanta bir günde toplam kaç ayran satmıştır?

24- Kitap okuma turnuvasına katılan Gülfem 1.gün 57 sayfa kitap okumuştur. 2. Gün 1.gün okuduğu kitap sayfasından 15 sayfa fazla kitap okumuştur. Gülfem 2. Gün kaç sayfa kitap okumuştur?

25- Bir Fırıncı 1.gün 36 adet simit satmıştır. Bu fırıncı 2. Gün, 1.gün sattığı simitlerden 23 adet daha fazla simit satmıştır. Bu simitçi bu iki günde toplam kaç adet simit satmıştır?

26- Hergün evinden çocuk parkına 120 adımda gidip dönen Doğan 3gün boyunca parka gidip dönmüştür. Bu 3 günün sonunda Doğan toplam kaç adım atmıştır?

KUZULARIMA ÖDEV

27- Aşağıdaki çıkarma işlemlerini yapalım.

$$\begin{array}{r} 35 \\ - 23 \\ \hline \end{array} \quad \begin{array}{r} 57 \\ - 42 \\ \hline \end{array} \quad \begin{array}{r} 98 \\ - 37 \\ \hline \end{array} \quad \begin{array}{r} 16 \\ - 14 \\ \hline \end{array}$$

$$\begin{array}{r} 49 \\ - 26 \\ \hline \end{array} \quad \begin{array}{r} 25 \\ - 9 \\ \hline \end{array} \quad \begin{array}{r} 74 \\ - 36 \\ \hline \end{array} \quad \begin{array}{r} 90 \\ - 65 \\ \hline \end{array}$$


28- Terzi Musa Bey 57m uzunluğundaki kumaşın 29 metresi ile bir elbise dikmiştir. Musa Bey'in geriye kaç metre kumaşı kalmıştır?

29- Ahmet 5 deste yumurtanın 16 tanesini taşırken kırmıştır. Geriye kaç sağlam yumurta kalmıştır?
(not: 1deste=10)

30-Ensar aklından bir sayı tutmuştur. Daha sonra tuttuğu sayıdan 25 çıkarmış ve 38 bulmuştur. Ensar'ın aklında tuttuğu sayıyı bulunuz.

31-

57	-	26	45	-	17
----	---	----	----	---	----

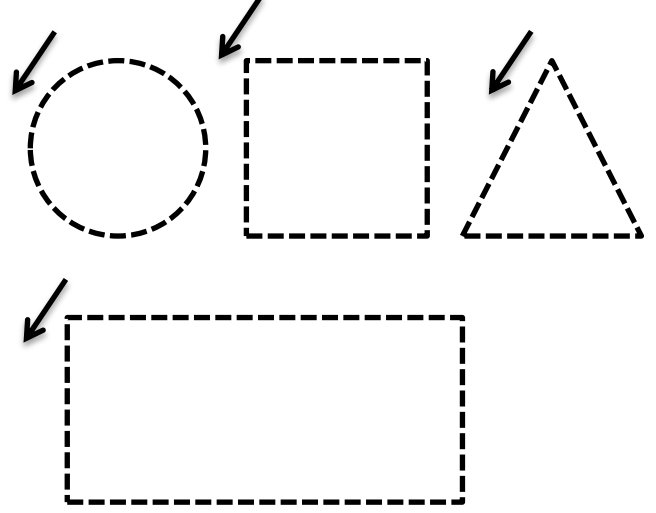


- =

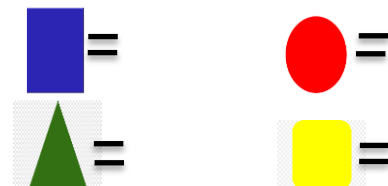
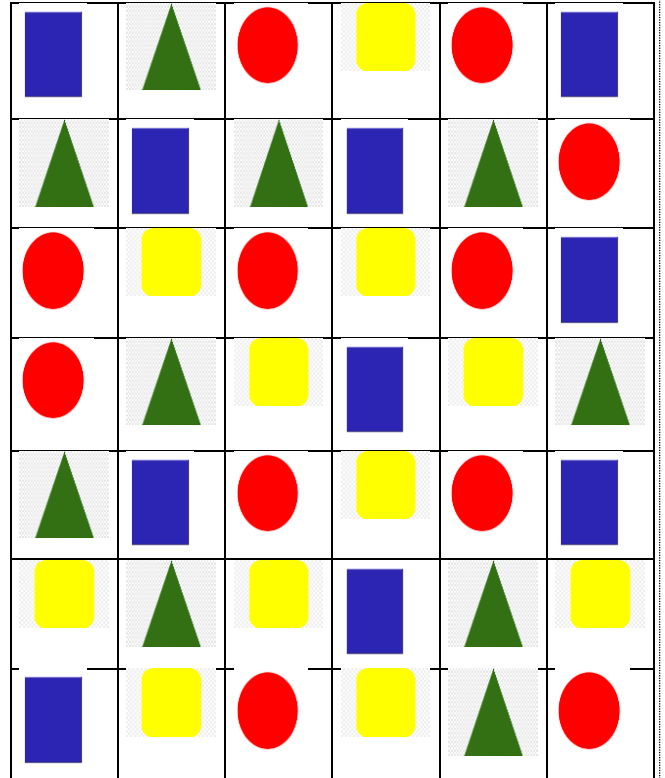
ceydaogretmen



32- Aşağıdaki şekilleri ok yönünde birleştiriniz. Varsa köşelerinin belirleyiniz. İsimlerini yazınız.

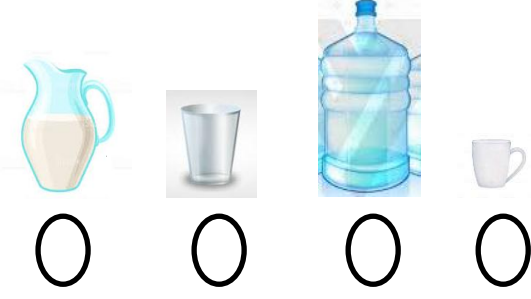


33- Aşağıdaki görselde geometrik şekillerin kaçar tane olduğunu bulunuz.



KUZULARIMA ÖDEV

34- Aşağıdaki kaplardan en az su alanı işaretleyin.



35- Aşağıdaki kaplardan en fazla sıvı alanı işaretleyin.



36- Bir tencere 15 su bardağı süt almaktadır. Tencereden önce 3 bardak sonra da 4 bardak süt içiliyor. Tencerede kaç bardak süt kalmıştır?

37- Eda günde 2 bardak süt içmektedir. Eda 10 günde toplam kaç bardak süt içmektedir?

38- Bir kova 16 sürahi su ile dolmaktadır. 2 kovayı doldurabilmek için kaç sürahi suya ihtiyaç vardır?

ceydaogretmen




39- Aşağıdaki çarpma işlemlerini yapalım.

$$\begin{array}{r} 4 \\ \times 5 \\ \hline \end{array} \quad \begin{array}{r} 3 \\ \times 3 \\ \hline \end{array} \quad \begin{array}{r} 2 \\ \times 6 \\ \hline \end{array} \quad \begin{array}{r} 1 \\ \times 3 \\ \hline \end{array}$$

$$\begin{array}{r} 5 \\ \times 3 \\ \hline \end{array} \quad \begin{array}{r} 4 \\ \times 7 \\ \hline \end{array} \quad \begin{array}{r} 3 \\ \times 9 \\ \hline \end{array} \quad \begin{array}{r} 2 \\ \times 10 \\ \hline \end{array}$$

40- Bir Pet shoapta 5 adet akvaryum vardır. Bu akvaryumların her birinde 7'şer balık bulunmaktadır. Pet shoapta bulunan balık sayısı kaçtır? (Petshop = Evcil hayvanların ve ihtiyaçlarının satıldığı yer.)

41-



Yukarıdaki koyunların toplam ayak sayılarının çarpma işlemi yaparak bulunuz.

42- Aşağıdaki tabloda eksik bırakılan yerleri karşılıklı çarparak bulunuz.

x	1 ↓	2	3	4	5
1 →	1				
2		4			
3			9		
4					
5					

KUZULARIMA ÖDEV

43- Aşağıdaki ağaçlardaki toplam elma sayısını çarpma işlemi yaparak bulunuz.



44- Merve tanesi 5 TL olan kartonlardan 8 adet almıştır. Merve satıcıya kaç TL para ödemiştir?

45- Aşağıdaki bilyeleri 4'erli gruplarsak kaç grup elde etmiş oluruz?



46- Aşağıdaki bölme işlemlerini yapınız.

$$\begin{array}{r} 8 \overline{) 2} \\ 16 \overline{) 4} \\ 6 \overline{) 3} \\ 10 \overline{) 5} \\ 18 \overline{) 6} \\ 14 \overline{) 2} \\ 25 \overline{) 5} \\ 24 \overline{) 6} \end{array}$$

47- Ufuk, Hazal, Şevval, Eren 24 dilimlik bir pastayı eşit bir şekilde paylaşmak istemektedir. Her birine kaç dilim pasta düşer bulunuz?

48- Sınıfımızda 32 öğrenci vardır. Her sırada 2 öğrenci oturmaktadır. Buna göre sınıfımızda kaç adet sıra vardır?

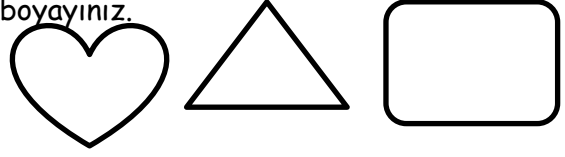
ceydaogretmen



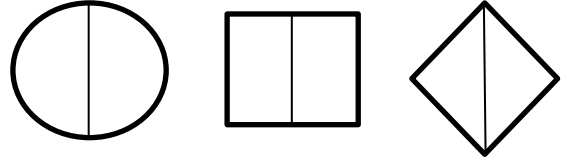
49- Babam 100 TL parayı 4 kardeşe bölüştürecektir. Her birimize kaç TL para düşer?

50- 36 adet ceviz 4 kişiye eşit olarak paylaşılacaktır. Kişi başı kaç adet ceviz düşer bulunuz?

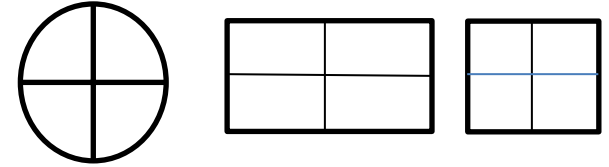
51- Aşağıdaki şekillerin bütününi boyayınız.



52- Aşağıdaki şekillerin yarısını boyayınız.



53- Aşağıdaki şekillerin çeyreğinin boyayınız.



54- Aşağıdaki cümledeki boşlukları uygun ifadelerle doldurunuz.


Çeyrek-Üç - Bütün-Dört -Yarım-İki-

- Bir bütünün iki eş parçasından her birinedenir.
- İki yarım bireder.
- Bir bütünün içindeçeyrek vardır.
- Bir bütünün içerisindeyarım vardır.
- 6 yarım elmabütün elma eder.
- Bir bütünün dört eş parçaya bölünmüş şeklinedenir.

KUZULARIMA ÖDEV

55- Nehir ile Defne dışardaki yiyecekleri sağlıksız bulduğu için babaları onlara lahmacun yapmıştır. Nehir 6 yarım lahmacun, Defne ile 4 çeyrek lahmacun yemiştir. Nehir ile Defne kaç tam lahmacun yemiştir? Şekil çizerek bulunuz.

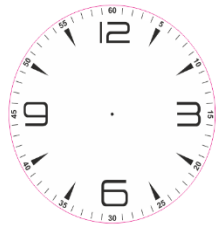
56- Aşağıdaki çeyrek limonlar kaç tam limon eder? Bulunuz.



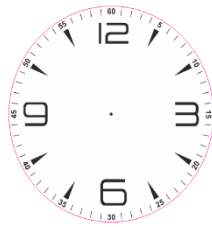
57- Nazmi 20TL parasının yarısının yarısını kardeşi Yiğit'e vermiştir. Nazmi kardeşi Yiğit'e kaç TL para vermiştir?

58- 10 bütün ekmek kaç kaç yarım ekmek eder?

59- Aşağıda verilen saatleri akrep ve yelkovan çizerek gösteriniz.

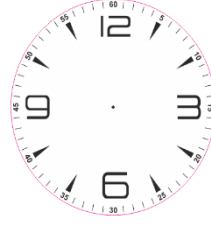


15.00

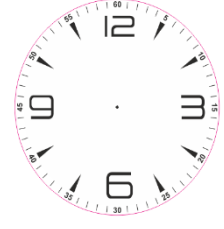


12.30

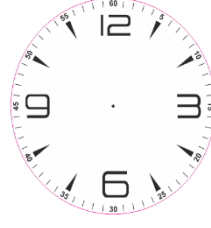
ceydaogretmen



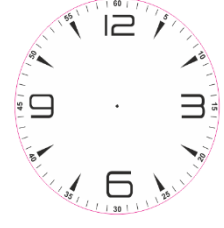
02.45



10.15





06.00



20.30

60- Aşağıdaki saatlerin kaç olduğunu altlarına yazınız.



61- Aşağıdaki saat 11.00'dir. Bu süreden bir saat önceki ve bir saat sonraki zamanı yazınız.



Bir saat önce:

Bir saat sonra:

KUZULARIMA ÖDEV

62-Asel her sabah saat 07.00 da uyanır. 08.15' te servise biner. Asel'in servise yetişebilmesi için uyandıktan sonra kaç dakikaya ihtiyacı vardır?

63- Şanver ablası ile saat 16.00'da parka gitmiştir. Eve döndüklerinde saat 17.30'u göstermektedir. Şanver ve ablası parkta kaç saat kalmışlardır?

64- Aşağıda 2019 yılı Nisan ayına ait takvim bulunmaktadır. Aşağıdaki soruları takvime göre cevaplayınız.


Pazartesi	Salı	Çarşamba	Perşembe	Cuma	Cumartesi	Pazar
		1	2	3	4	5
6	7	8	9	10	11	12
13	14	15	16	17	18	19
20	21	22	23	24	25	26
27	28	29	30			

- Nisan ayının 1.günü hangi gündür?
- Bugün 3 Nisan Cuma günü ise haftaya kaç Nisan olur?
- 23 Nisan Ulusal Egemenlik ve Çocuk Bayramı hangi gün kutlanmaktadır?
- Her Çarşamba Jimnastiğe giden Almıla Nisan ayında kaç kez Jimnastiğe gitmiştir?
- Yukarıdaki Nisan ayı takviminde kaç tane Salı günü vardır?

ceydaogretmen



7 TL



15TL



20TL



5TL

65- Aşağıdaki problemleri yukarıdaki bilgilere göre cevaplayınız.

- Oyuncak bebek ile araba alan biri satıcıya kaç TL öder?
- Yukarıdaki oyuncakların toplam fiyatı kaç TL dir?
- 30TL parası olan Berk tren ve oyuncak bebeği almak istemektedir. Buna göre Berk'in kaç TL daha paraya ihtiyacı vardır?
- Fiyatı en ucuz olan iki oyuncak almak isteyen bir çocuk kaç TL para öder?

66-



Yukarıda Fulya'nın kumbarası ve içerisindeki paraları bulunmaktadır. Aşağıdaki soruları görsele göre cevaplayalım.

a)Fulya'nın kaç TL parası vardır?

b)Fulya parasıyla 55 TL fiyatındaki elbiseyi almak istiyor. Fulya'nın geriye kaç TL parası kalır?

c)Fulya'nın biriktirmiş olduğu en büyük kağıt para kaç TL dir?

d)Fulya'nın 95TL fiyatındaki kulaklığı alabilmesi için kaç TL daha paraya ihtiyacı vardır?

KUZULARIMA ÖDEV

67-Aşağıdaki tabloda 2A,2B ve 2C sınıfına ait kız ve erkek öğrenci sayıları verilmiştir.

Şube	Kız	Erkek
2A	18	14
2B	12	12
2C	16	13

Aşağıdaki soruları yukarıdaki tabloya göre cevaplayalım.

- 2A sınıfındaki toplam öğrenci sayısı kaçtır?
- 2B sınıfındaki toplam öğrenci sayısı kaçtır?
- 2C sınıfındaki toplam öğrenci sayısı kaçtır?
- 2A sınıfındaki kız öğrenci sayısı 2B sınıfındaki kız öğrenci sayısından kaç fazladır?
- 2B sınıfındaki erkek öğrenci sayısı ile 2C sınıfındaki erkek öğrenci sayıları toplamı kaçtır?
- Mevcudu en kalabalık olan sınıf hangisidir?
- Aşağıdaki tabloları sınıf mevcutlarına göre doldurunuz.

Şube	Mevcut
2A	
2B	
2C	

Sıklık Tablosu

2A	
2B	
2C	

ceydaogretmen



68-Aşağıdaki standart olmayan ölçü birimlerini ilgili görsellerle eşleştirelim.

	Karış
	Ayak
	Parmak
	Adım
	Kulaç

69- Hatice 23 Metre kurdelenin 17 metresini kullanmıştır. Geriye kullanılmayan kaç metre kurdele kalmıştır?

70-Benim boyum 90 cm dir. Kardeşimin boyu benim boyumdan 12cm daha kısadır. Kardeşimin boyu kaç cmdir?

71-Eymen'in bir karışının uzunluğu 13cm dir. Eymen masanın etrafının ölçerken 5 karış kullanmıştır. Masanın etrafı kaç cm'dir bulunuz.

72-Şevval yaz tatilinde köye 23cm uzunluğunda bir kiraz fidanı dikmiştir. 1 sene sonra gittiğinde fidanın boyunun 66cm olduğunu görmüştür. Fidanın boyu 1 senede kaç cm uzamıştır?

Kuzularım sizleri çok özledim.

