



GÖREV -1: Şekilleri defterine çiz, ifade ettiği keseri altına yaz.

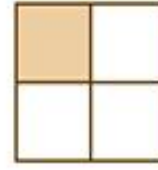

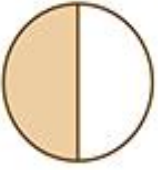
KESİRLER

BÜTÜN: Parçalanmamış olana "bütün" denir. Her varlığın kendisi bir bütündür.



Bütün Simit

1. Aşağıdaki modellerin altına bütün, yarım, çeyrek ifadelerden uygun olanı yazınız.



.....

.....

.....

.....

.....

.....



BÜTÜN- YARIM- ÇEYREK

Dört İşlem Problemleri

GÖREV- 2: Problemleri defterinize yaz ve çöz.

1) Bir günde elini 6 kere yıkayan Ziya, bir haftada elini kaç kere yıkar?

Çözüm:

2) 5 birlik 2 onluktan oluşan sayı 5'e bölündüğünde, işlemin sonucu kaç olur?

Çözüm:

3) İki basamaklı en büyük sayının 55 eksiği kaçtır?

Çözüm:

4) Bir çıkarma işleminde çıkan 60, fark 90'dır. Bu işlemde eksilen kaçtır?

Çözüm:

5) Ziya'nın 3 deste, Talha'nın 1 düzine kurşun kalemi vardır. İki kurşun kalemlerinin hepsini eşit şekilde paylaşmak istiyor. Her birine kaç kurşun kalem düşer?

Çözüm:

