

Canım Arkadaşım,
Doğum gününü kutlar, yeni
yaşının sağlık ve mutluluk
getirmesini dilerim.
Recep ALPTEKİN

1. Yukarıda yazılan yazı aşağıdakilerden hangisine örnektir?
A) Davetiye
B) Tebrik kartı
C) Mektup

2. Türkçe Sözlük'te " salgın " sözcüğünden önce ve sonra gelen kelimeler hangi seçenekte doğru olarak verilmiştir?

	ÖNCE	SONRA
A)	saldırgan	sallamak
B)	salon	salya
C)	saman	sakat



3. Aşağıdakilerden hangisi yukarıdaki görselle ilgili **değildir**?

- A) Yapay çevrenin doğal çevreye zarar vermesi.
B) Doğa ile insanların mücadelesi
C) Doğal çevrenin trafiği olumsuz etkilemesi

4. Sayıca tek bir varlığı bildiren adlara **tekil** ad denir.
Sayıca birden fazla varlığı bildiren isimlere **çoğul** ad denir.
Tekil ad oldukları halde çokluk ifade eden adlara **topluluk** adı denir.

- Annem kullanmadığımız eşyaları kilere götürdü.
 Fenerbahçe takımı bu yıl çok başarısız.
 Ailece köye gittik.
 Leylaların evine misafirlığe gittik.

Yukarıda verilen cümlelerde altı çizili sözcüklerden tekil olanlara "TE", çoğul isim olanlara "ÇO" ve topluluk ismi olanlara "TO" yazılacaktır. Tablonun doldurulmuş hali hangi seçenekte doğru olarak verilmiştir?

- | | | | |
|----|-----------------------------|-----------------------------|-----------------------------|
| | <input type="checkbox"/> ÇO | <input type="checkbox"/> TE | <input type="checkbox"/> TE |
| A) | <input type="checkbox"/> TO | <input type="checkbox"/> TO | <input type="checkbox"/> TE |
| | <input type="checkbox"/> TE | <input type="checkbox"/> TO | <input type="checkbox"/> TO |
| | <input type="checkbox"/> ÇO | <input type="checkbox"/> ÇO | <input type="checkbox"/> TE |

5. Aşağıdaki cümlelerin hangisinde **birden fazla** yazım yanlışı vardır?

- A) Mersinli öğrenciler onüç gün boyunca şenlik yaptılar.
B) Ağrı dağı Türkiye'nin en yüksek dağıdır.
C) Herkez palyanço Miki'yi merak ediyordu.

6. " Yanmak " sözcüğü aşağıdaki cümlelerin hangisinde **gecersiz olmak** anlamında kullanılmıştır?

- A) Şu pencereyi açın , yandık burada!
B) Geç kaldığı için otobüs bileti yanmış.
C) Okula geç kalırsak yandık.

7.

Besle



oysun



Yukarıda verilen atasözündeki boşluklara sırasıyla hangi görseller getirilmelidir?

A)



B)



C)



8.

Aşağıdaki seçeneklerde verilen deyim çiftlerinden hangileri anlam bakımından birbirinin zıttı değildir?

A)

Göz atmak

Göz yummak.

B)

Ayağını kesmek

Ayağını alıştırmak

C)

Gözden düşmek

Göze girmek

9.



1 ve 3 numaralı sözcükler anlam bakımından aynıdır, birbirlerinin yerlerine kullanılabilir.



2 ve 3 numaralı sözcükler anlam bakımından birbirinin karşıtıdır.

Hangi seçenekteki sözcükler yukarıdaki bilgilere göre düzenlenmiştir?

A)

pinti

cömert

cimri

B)

okul

öğrenci

mektep

C)

zengin

fakir

yoksul

10.

Her rengin bir anlamı vardır, renkler onları seven insanlarla ilgili bazı bilgiler verir. Örneğin turuncu ; hoşgörünün rengidir. Bu rengi seven kişiler diğer insanlarla daha iyi anlaşır ve iletişim kurar. Pembe , sağlıklı olmanın rengidir. Sarı; üretim ve faydalı olmanın rengidir. Sorumluluk gerektiren işlerde başarılı olan kişiler tarafından sevilir. Kahverengi toprağın rengidir. Bu rengi tercih eden insanlar hür yaşamayı seven sabırlı insanlardır.

Kişi	Sevdiği Renk	Özellikleri
Elisa	Pembe
Defne	Vazife sahibidir.
Lina	Özgürce yaşayan
Ada	Turuncu

Tabloda boş bırakılan yerlerle ilgili aşağıdaki yorumlardan hangisi yapılamaz?
A) Lina'nın en sevdiği renk kahverengidir.
B) Ada arkadaşları ile iyi geçinir.
C) Elisa sorumluluk sahibi olan bir kişidir.

11.

A

Birden bir köpek çıkmış ortaya.

I

Ceylan karşısında köpeği ve sahibini görünce çok korkmuş.

S

Ceylanın biri bir gün ormanda oynuyormuş.

L

Köpeğin arkasından da bir insan gelmiş.

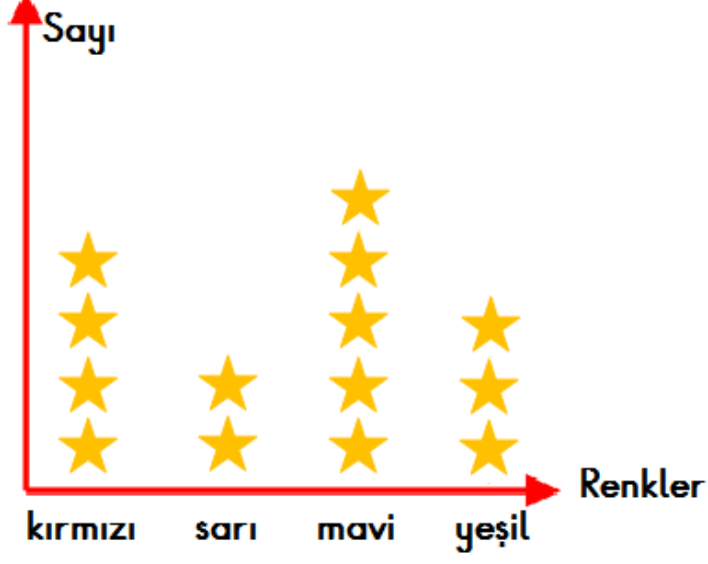
Yukarıda verilen cümleler harflerle eşleştirilmiştir. Cümleler oluş sırasına göre sıralırsa hangi sözcük oluşur?

A) SALI

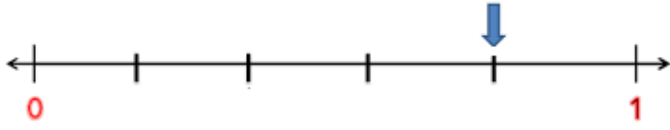
B) SILA

C) ASLI

3 - E SINIFINDA EN ÇOK SEVİLEN RENKLER



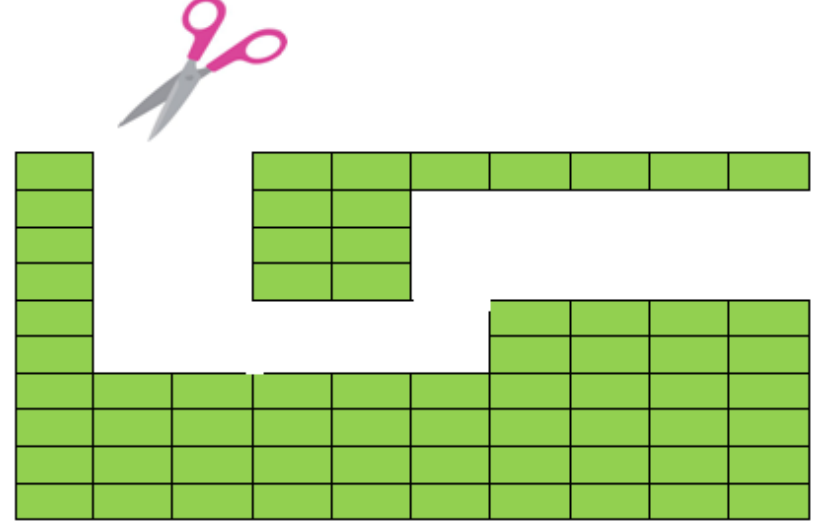
1. Yukarıda verilen grafiğe göre en çok ve en az sevilen renklerin farkı 12 olduğuna göre ; 3- E sınıfında kaç tane öğrenci vardır?
A) 14 B) 42 C) 56



2. Yukarıda sayı doğrusunda ok ile gösterilen kesir ile ilgili hangi seçenekteki bilgiler doğrudur?

	Modelle gösterimi	Okunuşu	Birim kesri
A)		" Üçte beş "	" Birde beş "
B)		" Beşte dört "	" Beşte bir "
C)		" Altıda beş "	" Beşte bir "

3. Gökhan yazdığı hikaye kitabının sayfalarını 1'den başlayarak numaralandırmıştır. Gökhan 4 rakamını 15 defa kullanmıştır. Gökhan'ın yazdığı hikaye kitabının sayfa sayısı en fazla kaç olabilir?
A) 49 B) 53 C) 54



4. Defne birim kesri " yüzde bir " olan bir bütün çizip bir kısmını makas ile kesmiştir. Defne'nin kestiği kısım bütünün kaçta kaçıdır?
A) " yüzde altmış yedi "
B) " yüzde otuz üç "
C) " otuz üçte yüz "

5. Şahan , Recep ve Alper dışarıda yemek yemeye gitmişlerdir. Her biri restorantta 1'er porsiyon kebab yemişlerdir. Hesabı ödemeye gittiklerinde Şahan cüzdanını evde unuttuğunu fark etmiştir. Recep ve Alper; Şahan'ın ödemesi gereken hesabı eşit miktarda paylaşarak ödemişlerdir. Recep ve Alper ödemesi gerekenden 15'şer lira fazla ödemişlerdir. Yukarıda verilen ifadelere göre 3 arkadaş kaç lira hesap ödemişlerdir?
A) 30 B) 60 C) 90

6. Atatürk İlkokulu'nda 3 kat , her katta 6 sınıf ve her sınıfta 1 düzine kadar sıra vardır. Her sırada iki öğrenci oturduğuna göre Atatürk İlkokulu'nda kaç öğrenci vardır?
A) 306 B) 360 C) 432

7.

Bir sayı rakamları toplamına kalansız bölünüyorsa bu sayıya **Harshad (Nive)** sayısı denir.

Örnek: 24 sayısını inceleyelim.

Rakamları toplamı $\rightarrow 2+4=6$

$$\begin{array}{r} 24 \quad 6 \\ -24 \quad 4 \\ \hline 00 \end{array} \quad 24 \text{ sayısı Harshad sayısıdır.}$$

Aşağıda verilen sayılardan hangisi "Harshad Sayısı" **değildir**?

- A) 72 B) 32 C) 50

8.



Bakkal 60 kilogramlık pirincin $\frac{2}{5}$ 'ini satmıştır. Geriye kalan pirinçleri 3'er kilogramlık poşetlere koymuştur. Bakkal poşetleme yaparken kaç tane poşet kullanmıştır?

- A) 8 B) 10 C) 12

9.

83

73

20

Yukarıda verilen kartların ön yüzünde yazan sayılar verilmiştir.

Ön yüzündeki rakamları altıya bölerek bulunan kalanlar kartların arka yüzlerine yazılarak kartlar doldurulmuştur.

Kartların arka yüzünde yazan rakamlarla oluşturulabilecek 3 basamaklı rakamları farklı sayılardan birinin okunuşu **verilmemiştir**?

- A) Yüz yirmi beş
B) İki yüz elli bir
C) Üç yüz on iki

10.



Aklımdan tuttuğum sayıyı dokuzla bölmek istiyorum.

Recep aklımdan tuttuğu sayıyı yanlışlıkla 7'ye bölüp bölümü ve kalanı 6 bulmuştur. Recep bölme işlemini doğru yapmış olsaydı kalanı kaç bulurdu?

- A) 3 B) 4 C) 6

11.



Her kişinin parmak izi birbirinden farklıdır. Parmak izi insanları birbirinden ayıran en önemli fiziksel özelliklerdendir.

Ayşe Hanım'ın evine dün gece hırsız girmiş, durumu farkedene Ayşe Hanım 155'i arayıp polisleri haber vermiştir. Polisler Ayşe Hanım'ın daire kapısından parmak izi almışlardır.




Kapıdan 72 tane parmak izi aldık. Aldığımız parmak izlerinin "üçte ikisi" sizin geriye kalanlar farklı kişilere aittir.



Yukarıda verilen ifadelerle göre Ayşe Hanım'ın daire kapısından kaç farklı kişinin parmak izi alınmıştır?

- A) 48 B) 25 C) 24



1. Aşağıdakilerden hangisi yukarıda verilen varlıkların **ortak** özelliğidir?
 A) Kendi besinlerini kendileri üretirler.
 B) Kendiliğinden yer değiştirmeleri.
 C) Boşaltım yapmaları.

MADDE	KIRILGAN	YUMUŞAK	PÜRÜZLÜ	PÜRÜZSÜZ	ESNEK	SERT

2. Yukarıda verilen varlıkların sahip olduğu nitelikler uygun şekilde doldurulduğunda doğru seçenek aşağıdakilerden hangisi olur?

A)

	✓	✓			✓
		✓		✓	

B)

✓			✓		✓
		✓			✓

C)

✓			✓		✓
✓			✓		✓

3. Cansız varlıklar ses kaynağı değildir.

Doğru

Yanlış

Duyma sınırlarımız içerisindeki sesleri duyabiliriz.

Aşırı gürültülü ortamlar işitme sorunlarına ve strese neden olabilir.

Doğru

Yanlış

Doğru

Yanlış

1.çıkış

2.çıkış

3.çıkış

4.çıkış

Yukarıda verilen kavram haritasında bilgiler doğruluk - yanlışlık durumuna göre takip edilirse kaçınıcı çıkışa ulaşılır?

A) 4

B) 3

C) 1

4. Hava ve su canlı varlıklara örnektir.

Ayçiçeğinin Güneş'e doğru yönelmesi hareket ettiğinin göstergesidir.

Bitkiler yön değiştirebilir fakat yer değiştiremez.

Bütün canlılar yumurtlayarak ve doğum yaparak çoğalır.

Yukarıda doğru olan ifadelerle .yanlış olanlara işareti konulursa doğru seçenek aşağıdakilerden hangisi olur?

A)

<input checked="" type="checkbox"/>	<input checked="" type="checkbox"/>	<input checked="" type="checkbox"/>
<input checked="" type="checkbox"/>	<input checked="" type="checkbox"/>	<input checked="" type="checkbox"/>
<input checked="" type="checkbox"/>	<input checked="" type="checkbox"/>	<input checked="" type="checkbox"/>

B)

<input checked="" type="checkbox"/>	<input checked="" type="checkbox"/>	<input checked="" type="checkbox"/>
<input checked="" type="checkbox"/>	<input checked="" type="checkbox"/>	<input checked="" type="checkbox"/>
<input checked="" type="checkbox"/>	<input checked="" type="checkbox"/>	<input checked="" type="checkbox"/>

C)

<input checked="" type="checkbox"/>	<input checked="" type="checkbox"/>	<input checked="" type="checkbox"/>
<input checked="" type="checkbox"/>	<input checked="" type="checkbox"/>	<input checked="" type="checkbox"/>
<input checked="" type="checkbox"/>	<input checked="" type="checkbox"/>	<input checked="" type="checkbox"/>

5.

"Ses her yöne yayılır."

Aşağıdaki örneklerden hangisi yukarıdaki ifadeyi ispatlamak için verilmiştir?

- A) Sesini duyduğumuz fakat göremediğimiz varlıkların yerini tahmin edebiliriz.
B) Bize doğru yaklaşan aracın sesinin şiddetinin artması.
C) Sınıfta ders anlatan öğretmenim sesini tüm öğrencilerin oturdukları yerden duymaları.

6.

1. Yakamoz	2. Ampul	3. Deniz anası
4. Kandil	5. Yıldırım	6. Ay

Tabloda varlıklar numaralandırılarak verilmiştir.

Tablo ile ilgili aşağıdaki bilgilerden hangisi yanlıştır?

- A) Doğal ışık kaynağı olan varlıkların numaralarını kullanarak 53 sayısını oluşturabiliriz.
B) Işık kaynağı olmayan varlıkların numaralarını kullanarak 16 sayısını oluşturabiliriz.
C) Tabloda yapay ışık kaynağı olan üç tane varlık vardır.

7.

Aşağıdaki çocuklardan hangisi yanlış bir bilgi vermiştir?



A) Yağmur sesi doğal ses kaynağıdır.



B) Yumurta ve tohum canlı varlıklardır.



C) Tüm hayvanlar yumurtlayarak çoğalır.

8.

Leyla ile Asmin yolda yürürken aniden önlerine köpek çıkmıştır. Asmin köpekten çok korkmuş, Leyla ise köpeği okşamak için köpeğin yanına gitmiştir.

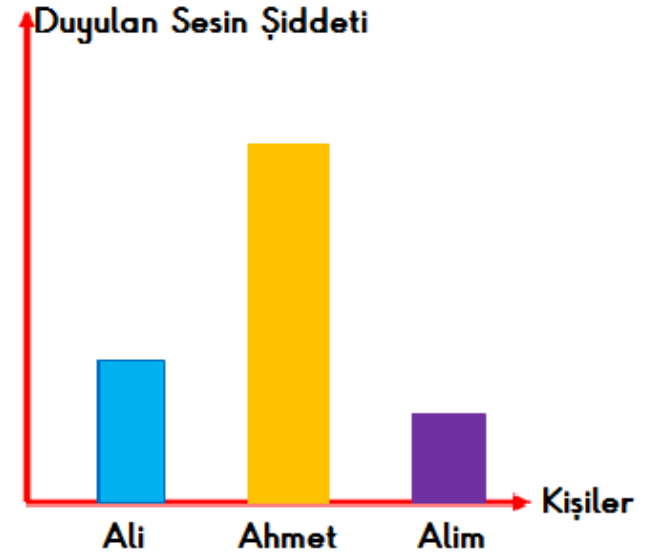


Yukarıda anlatılan olayla ilgili aşağıdaki ifadelerden hangisine ulaşılabilir?

- A) Tüm insanlar köpeklerden korkar.
B) Canlılar aynı uyarıcılara farklı tepki gösterirler.
C) İnsanlar farklı uyarıcılara aynı tepkiyi gösterirler.

9.

Aşağıda verilen grafikte tiyatro gösterisini izleyen üç arkadaşın tiyatro gösterisini duyma şiddeti verilmiştir.



Yukarıda verilen grafiğe göre aşağıdakilerden hangisi yanlıştır?

- A) Ali, Alim'in yanına oturmaya giderse duyduğu sesin şiddeti artar.
B) Ahmet gösteriyi en önde izlemektedir.
C) Ses kaynağına en uzak olan öğrenci Alim'dir.

10.

Diş fırçası ile dişleri fırçalamak. ①

Testere ile odun kesmek. ②

Kumandayı kullanarak televizyonu açıp kapamak. ③

Araba kullanırken vites atmak. ④

Yukarıda verilen numaralandırılmış durumların hangilerinde birden fazla kuvvet uygulanmamıştır?

- A) ③ ve ④
B) ① ve ②
C) Yalnız ③

- 1- Sel
2- Köyde kavga
3- Hırsızlık
4- Bakıma muhtaç yaşlı kadın
- a) 156
b) 155
c) 122
d) 183

1. Yukarıda verilen acil durum ve bu durumlarda aranması gereken numaraların eşleştirilmiş hali hangi seçenekte verilmiştir?

- A)

1- c
2- a
3- b
4- d

 B)

1- d
2- b
3- a
4- d

 C)

1- c
2- d
3- b
4- a



2. Yukarıda verilen trafik levhalarının anlamları hangi seçenekte sırası ile verilmiştir?

- A) Bisiklet Giremez Mecburi Bisiklet Yolu Bisiklet Geçebilir
B) Mecburi Bisiklet Yolu Bisiklet Giremez Bisiklet Geçebilir
C) Bisiklet Geçebilir Mecburi Bisiklet Yolu Bisiklet Giremez

3. Araçların sağ kapısından inip binmeliyiz.
 Bir yerden bir yere gitmek için en iyi yol en kısa olanıdır.
 Kaldırımın olmadığı cadde ve sokaklarda yolun sağından gitmeliyiz.
 Trafik kuralları trafiği düzenler.

Yukarıda verilen ifadelerden doğru olanlara " D " ,yanlış olanlara " Y " yazarsak doğru seçenek aşağıdakilerden hangisi olur?

- A)

D	D	Y
Y	Y	D
Y	D	Y
D	Y	D

 B)

D	D	Y
Y	Y	D
Y	D	Y
D	Y	D

 C)

D	D	Y
Y	Y	D
Y	D	Y
D	Y	D

4. Sağlıklı yaşamak için mevsimine uygun meyve ve sebzeler tüketmeliyiz.

dut	pırasa	kayısı
ayva	çağla	taze fasulye
kivi	çilek	bezelye

Yukarıda verilen tabloda meyve ve sebzeler verilmiştir. İlkbaharda tüketilenleri sarıya , yazın tüketilenleri maviye ve kışın tüketilmesi gerekenleri kırmızıya boyarsak tablonun görünümü nasıl olur?

- A)

Yellow	Red	Blue
Red	Yellow	Blue
Red	Yellow	Blue

 B)

Yellow	Blue	Yellow
Red	Yellow	Blue
Red	Red	Blue

 C)

Red	Blue	Yellow
Red	Blue	Yellow
Yellow	Red	Blue



LEYLEA

Satın alacağım ürünün içindekiler kısmına bakıp son kullanma tarihi en uzak olanı aldım.



ALPER

Alışveriş sonunda satıcıdan fatura ve garanti belgesi aldım.



YUSUF

Alacağım ürünleri inceleyip taze olanlarını elimle seçerek aldım.

5. Yukarıda verilen öğrenciler aldığı ürünlerle ilgili bilgiler vermişlerdir. Öğrencilerin aldığı ürünler hangi seçeneklerde olabilir?

	LEYLEA	ALPER	YUSUF
A)	Süt	Tablet	Limon
B)	Yumurta	Peçete	Ekmek
C)	Peynir	Telefon	Yağ



SAMET

Ben 9 yaşındayım. Dedemin çocukluk dönemi ile ilgili araştırma yaptım.

6. Aşağıdakilerden hangisi Samet ve dedesinin çocukluk dönemlerinin ortak özelliklerinden değildir?

- A) Oyun oynamaları
B) Okula gitmeleri
C) Aynı teknolojik aletleri kullanmaları

7. Aşağıdakilerden hangisi doğrudur?
A) Sadece kendi sağlığımızı korumak için ortak kullanım alanlarını temiz tutmalıyız.
B) Ortak kullanım alanlarını temiz tutmak büyüklerin görevidir.
C) Hastane, tuvalet ve asansör gibi alanlar ortak kullanım alanıdır.

Planlı olmak başarılı olmamızı sağlar.

8. Başarılı olan kişilerle ilgili aşağıdakilerden hangisi söylenemez?
A) Çalışmaya çok zaman ayırdıkları için ailesiyle zaman geçiremezler.
B) Yapacağı işleri öncelik sırasına koyarak planlar yapar.
C) Tüm işlerini zamanında bitirirler.

9. Teknolojik aletler insanların ihtiyaçlarını karşılamak için yapılmıştır.

Aşağıda verilenlerden hangisi teknolojik aletlerin katkılarında değildir?

- A) İşlerin kısa sürede bitmesini sağlayarak zamandan tasarruf sağlar.
B) Kaynakların kullanımda tasarruf sağlamaz.
C) İnsan gücünü azaltarak işleri kolaylaştırmıştır.

10. Aşağıdaki öğrencilerden hangisi doğru bilgi vermiştir?

- A) Ortak kullanım alanları kişisel alanlara göre daha sık kirlenir.
LEYLEA
B) Çölyak hastaları katkısız gıdalar tüketmeli ve mevsimine göre beslenmelidir.
ALPER
C) Gıda alışverişinden sonra mutlaka garanti belgesi almalıyız.
YUSUF

SINAV BİTMİŞTİR. CEVAPLARI KONTROL EDİNİZ.