


SADECE 8 TL

BÜYÜK BOY

FUFUK İLE OKUDUĞUMU ANLIYORUM



2.SINIF
UFUK KOCA
www.ufukkoca.com



FUFUK İLE OKUDUĞUMU ANLIYORUM

www.ufukkoca.com

SİPARİŞ

0 552 252 83 85

Dolu Dolu

64 SAYFA

METİN İLE İLGİLİ
5 N 1 K
DOĞRU YANLIŞ
TEST
SORULARI

TOPLAM
345 soru

EĞLENCİLİ
OKUMA ANLAMA
ETKİNLİKLERİ

Fiyat : 8 TL

Tamamı Renkli Sayfalar


20 Adet ve üzeri alımlarda

KARGO ÜCRETSİZ.

20 Adet altında alımlarda


kargo ücreti sadece 3 TL.

Sipariş Whatsap : 0 552 252 83 85






DOĞAL SAYILAR



2. Onluk ve Birlikler

★ BİLGİ ★

Onluk: 10 tane birliklerden oluşan topluluklara denir.



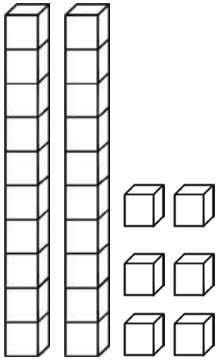
Sayı : 13
Okunuşu : on üç
Onluk : 1 tane
Birlik : 3 tane



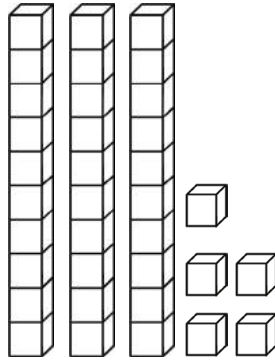
www.ufukkoca.com

ETKİNLİK

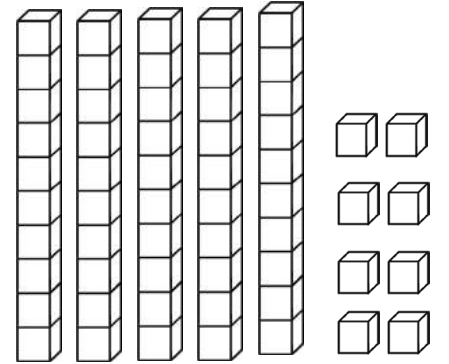
1 Aşağıda verilen modellere göre istenilen bilgileri yazınız.



Sayı :
Okunuşu :
Onluk :
Birlik :

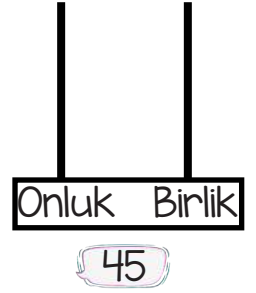
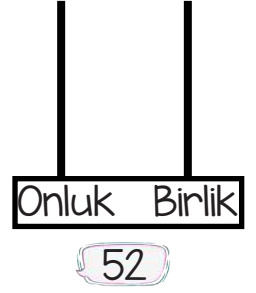
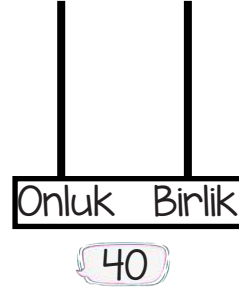
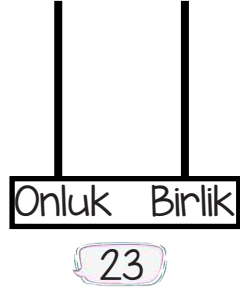
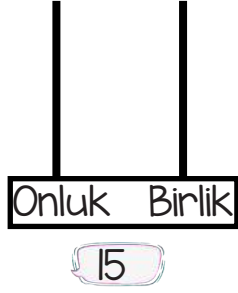
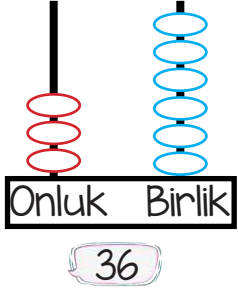


Sayı :
Okunuşu :
Onluk :
Birlik :

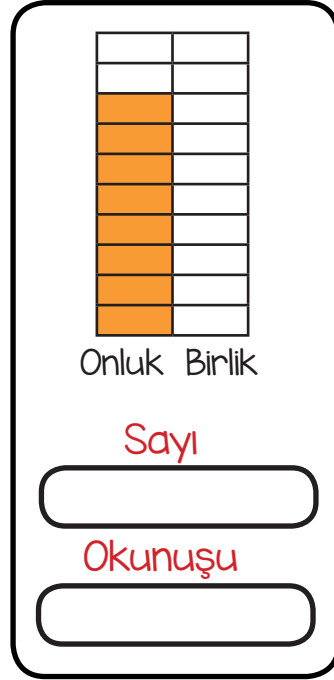
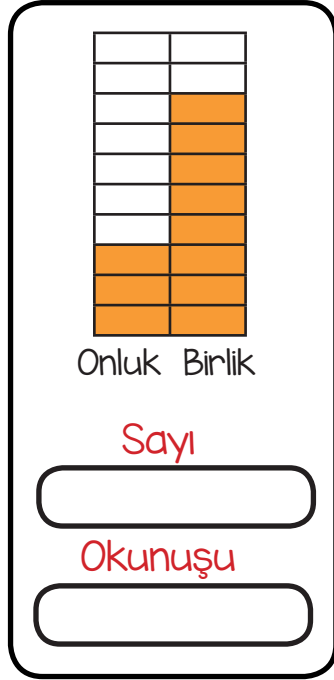
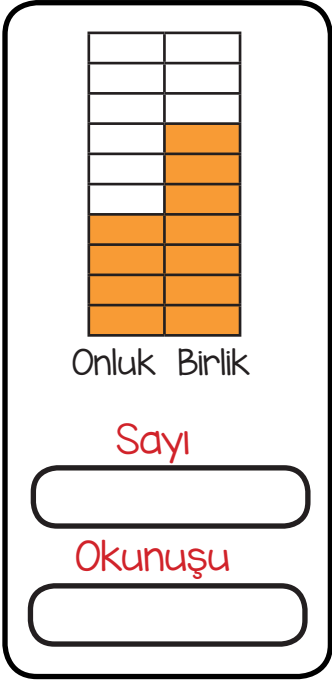


Sayı :
Okunuşu :
Onluk :
Birlik :

2 Aşağıda verilen sayıları abaküs üzerinde boncuk çizerek gösteriniz.



3 Aşağıdaki tabloda verilen onluk birliklere göre sayıyı bulunuz ve altına okunuşunu yazınız.



4 Aşağıda verilen ifadeler doğru ise başındaki kutucuğa "D" harfi, yanlış ise başındaki kutucuğa "Y" harfi yazınız.



3 tane onluk 30 eder.

2 onluk 5 birlik 52 eder.

4 birlik 3 onluk 43 eder.

67 sayısında 6 tane onluk var.

5 onluk 5 birlik 50 eder.

60 sayısında birlik yoktur.

SORU

1

2 onluk 5 birlik kaç eder?

Cevap :

SORU

5

İki basamaklı en küçük doğal sayısında kaç tane birlik vardır?

Cevap :

SORU

2

7 birlik 4 onluk kaç eder?

Cevap :

SORU

6

Onluk ve birlik sayısının aynı olduğu iki basamaklı doğal sayıları yazar mısın?

Cevap :

SORU

3

6 tane onluğu olan 3 tane iki basamaklı doğal sayı yazar mısın?

Cevap :

SORU

7

Yetmiş altı sayısında kaç tane onluk kaç tane birlik vardır?

Cevap :

SORU

4

İki basamaklı en büyük doğal sayısında kaç onluk vardır?

Cevap :

SORU

8

Elli dört sayısında kaç tane onluk kaç tane birlik vardır?

Cevap :

www.ufukkoca.com


Onluk ve Birlikler

www.etkinlikburada.com

1 Aşağıdaki sayılardan hangisi iki basamaklı değildir?

- A 10 B 44 C 9

2



Onluk Birlik

Yandaki onluk birlik tablosuna göre oluşan sayı aşağıdakilerden hangisidir?

- A 7 B 16 C 61

3



Babam kırk beş yaşındadır.

Buna göre Fufuk'un babasının yaşında kaç tane onluk vardır?

- A 4 B 5 C 6

4



Okul numaramda 3 onluk 5 birlik var.

Buna göre Fufuk'un okul numarası kaçtır?

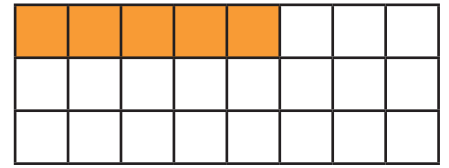
- A 53 B 35 C 30

5

Hangi çocuğun gösterdiği sayıda 4 birlik yoktur?



6



Fufuk yukarıdaki tabloda 2 onluk 3 birlik kadar kareyi boyamak istiyor. Buna göre kaç kare daha boyamalı?

- A 18 B 20 C 23

7

Sekiz birlik beş onluk kaç eder ?

- A 85 B 58 C 88

Adı :

Soyadı :

Sınıfı : / No :

CEVAPLAR

- | | | | |
|---|-------------|----|------------------------|
| 1 | (A) (B) (C) | 6 | (A) (B) (C) |
| 2 | (A) (B) (C) | 7 | (A) (B) (C) |
| 3 | (A) (B) (C) | 8 | (A) (B) (C) |
| 4 | (A) (B) (C) | 9 | (A) (B) (C) |
| 5 | (A) (B) (C) | 10 | (A) (B) (C) |