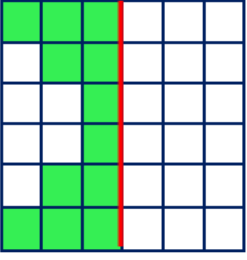




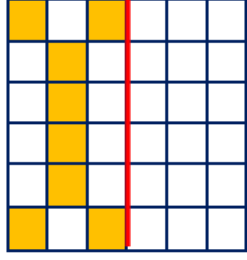
### 3.SINIF TELAFİ EĞİTİMİ 3.HAFTA




• Aşağıda verilen boyalı alanların doğruya göre simetriğini boyayınız daha sonra alanını hesaplayınız.



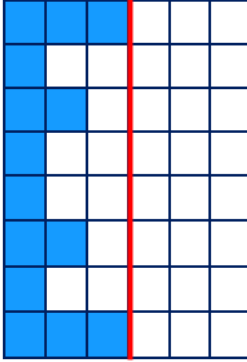
Alan = ..... birimkare



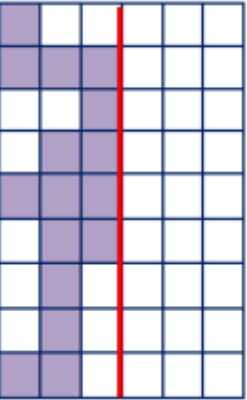
Alan = ..... birimkare



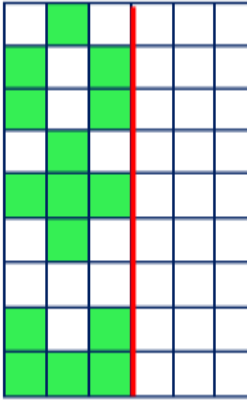
Alan = ..... birimkare



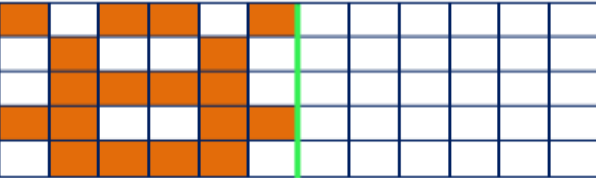
Alan = ..... birimkare



Alan = ..... birimkare

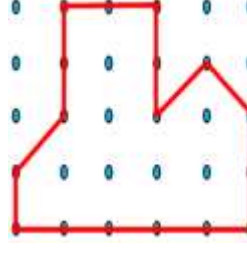


Alan = ..... birimkare




Alan = ..... birimkare

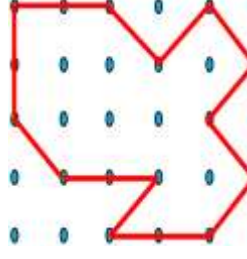
• Aşağıda verilen şekilleri sınırladığı alanları boyadıktan sonra alanlarının kaç birim kare olduğunu altına yazınız.



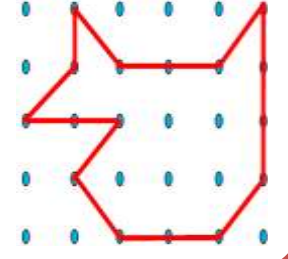
Alan = ..... birimkare



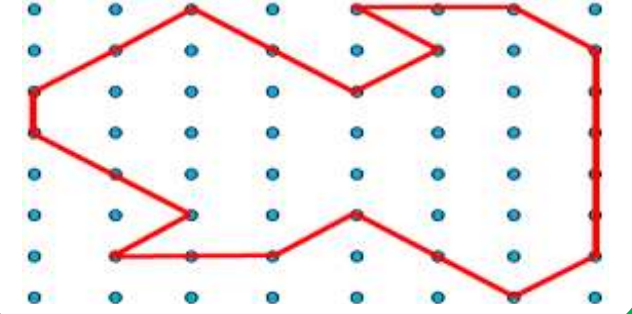
Alan = ..... birimkare



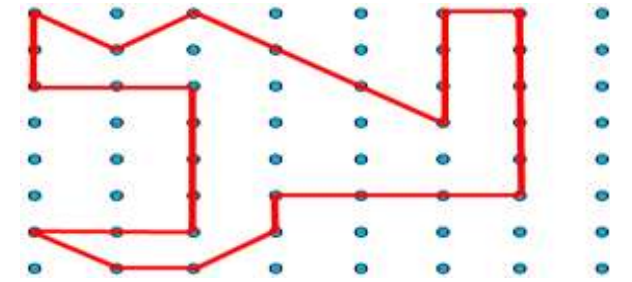
Alan = ..... birimkare



Alan = ..... birimkare



Alan = ..... birimkare



Alan = ..... birimkare



### 3. SINIF TELAFİ EĞİTİMİ 3. HAFTA



Kadriye almış olduğu 12 metre kumaştan 2 gömlek , bir tane de etek diyor. Her bir gömlek için 150 cm, etek için ise 200 cm kumaş kullandığına göre geriye kaç metre kumaş kalmıştır?



Hayri'nin boyunun uzunluğu 1 metre 30 santimetredir. Hayri'nin babasının boyunun uzunluğu Hayri'den 40 cm daha uzundur. İkisinin boylarının uzunlukları toplamı kaç metredir?



Bob Usta bir evinin duvarını boyamak istiyor. Duvarın boyu 5 m 20 cm'dir. Bob Usta 2 m 90 cm'sini boyadığına göre boyanmayan yer kaç santimetredir?



Cevap:

Mert 9 metre uzunluğundaki ipin 3 metre 40 santimetresini salıncak yapımında kullanmıştır. Geriye kalan ipi 6 eşit parça olacak şekilde kesmiştir. Her bir parça kaç santimetredir?



Ozi'nin bir adımı 40 cm'dir. Ozi sınıfından çıkıp 15 adım attığında kantine gelmiştir. Sınıf ile kantinin arası kaç metredir?

Cevap:



Arı Maya yaptığı balları çitalara doldurmaktadır. Bir çita için 120 santimetre uzunluğunda tahta kullandığına göre 5 çita yapabilmek için kaç metre tahta kullanılmalıdır?



Fil Necati fazla kilolarından kurtulmak için spora başlıyor. Her gün 9 km koşana Fil Necati 8 hafta sonunda kaç km koşmuştur?



İskender07 (ilkokul etkinlik)

Kukuli'nin diktiği muz fidanın uzunluğu 1 metre 130 santimetredir. Muz fidanı her yıl 60 santimetre uzamaktadır. 3 yılın sonunda fidanın uzunluğu kaç santimetre olur?



İskender TAŞ