

SIVILARI ÖLÇME

1. Etkinlik : Noktalı yerleri aşağıdaki resimlerdeki eşyalara göre uygun şekilde dolduralım.




- a) En fazla suyu alır.
b) En az suyu alır.
c) Su bardağıdan az su alır.
d) Su bardağıdan fazla su alır.
e) su bardağından az su alır.

f) su bardağından ve fincandan fazla su alır.

g) su bardağından ve kovadan az su alır.

2. Etkinlik : Aşağıdaki cümleler doğru ise çiçeğini maviye , yanlış ise kırmızıya boyayalım.





- En fazla suyu tencere alır.
En az suyu kepçe alır.
Kaşık kepçeden fazla su alır.
Kepçe tencereden daha fazla su alır.
Tencere kaşıktan fazla su alır.

Tencere kepçe ve kaşıktan daha fazla su alır.

Tencereyi kaşığa göre kepçe ile daha çabuk doldururum .

3. Etkinlik : Aşağıdaki soruları cevaplayınız.

	Yandaki tencere hangisiyle daha önce dolar? Boyayınız.    
	Yandaki kova hangisiyle daha önce dolar? Boyayınız.    
	Yandaki sürahi hangisiyle daha önce dolar? Boyayınız.    