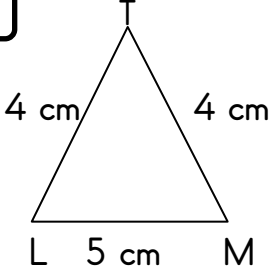


Üçgen çalışma etkinliği 2

Kenar uzunluklarına göre üçgen çeşitlerini

yazınız.

1



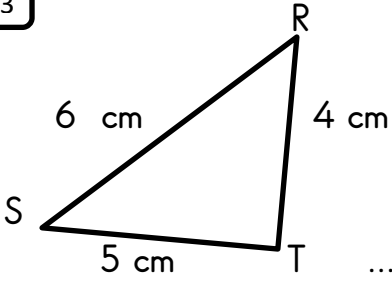
.....üçgeni

2

$$|AB| = 3 \text{ cm} \quad |BC| = 3 \text{ cm} \quad |CD| = 3 \text{ cm}$$

Verilere göre üçgeni çizerek , kenar uzunluğuna göre üçgen çeşidini yazınız.

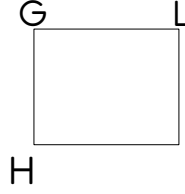
3

.....
..... üçgeni

4


Kenar uzunlukları 8 cm , 10 cm . 8 cm olan üçgenin kenar uzunluğuna göre ismi nedir?

5

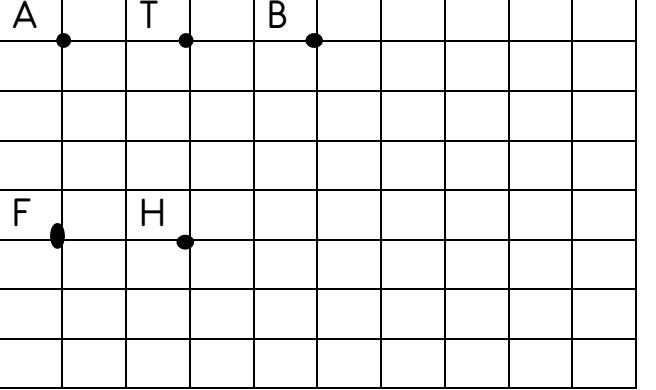


karenin ismini ve köşegenlerin isimlerini yazınız.

6



Dikdörtgenin ismini ve köşegenlerin isimlerini yazınız.



7

Hangi noktaları birleştirirsek dikdörtgen olur?

8

Hangi noktaları birleştirirsek ikizkenar üçgen olur?