

**3.SINIF
DENEME
SINAVI**

Adı ve Soyadı:.....

Sınıfı/Şubesi :..... Numarası:.....

Okulu:.....



1-Sert

2-Sev-gi

3- İlk-ok-ul

4- Ki-tap-lı-k

1- Yukarıdaki kelimelerden hangileri hecelerine **doğru** ayrılmıştır?

A. 1 ve 2

B. 2 ve 4

C. 1 ve 4

2- Aşağıda görselleri verilen kelimelerden hangisinin sesli harf sayısı sessiz harf sayısına eşittir?



A.



B.



C.

■ Köyün en varlıklı ailesi Ahmetlermiş.

● Selim Amca fakir insanlara yiyecek dağıtmış.

▲ Parasız kalınca hemen babasını aradı.

3- Yukarıdaki cümlelerin hangisinde "zengin" kelimesinin eş anlamlısı kullanılmıştır?

A. ▲

B. ●

C. ■

14	6	15	12	16	6

4- Yukarıda alfabemizdeki harflerin sırasından yararlanarak bir şifre oluşturulmuştur. Oluşan şifre aşağıdakilerden hangisidir?

A. Kelime

B. Keklik

C. Kesmek

"Hey sen () O elindeki Şeyma()nın çantası değil mi ()"dedi.

5- Yukarıdaki cümlede yay ayraçla belirtilen yerlere sırasıyla hangi noktalama işaretleri konulmalıdır?

A. (.) (') (?)

B. (!) (,) (?)

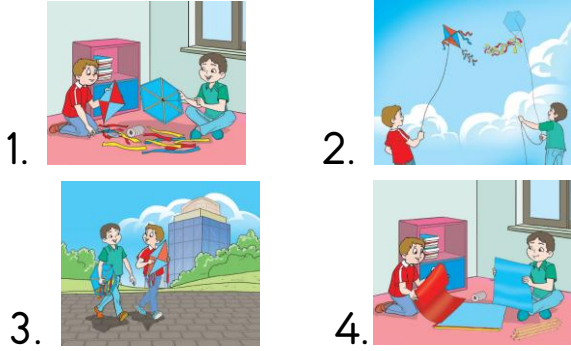
C. (!) (') (?)

6- Aşağıdaki cümlelerin hangisinde "dil" kelimesi farklı bir anlamda kullanılmıştır?

A. Çorba çok sıcak olduğu için dilim yandı.

B. Kuzenim tam dört dil biliyor.

C. Küçük çocuk bana dil çıkardı.



7- Yukarıdaki resimler oluş sırasına göre sıralandığında doğru sıralama nasıl olmalıdır?

- A. 4-2-1-3
- B. 4-1-3-2
- C. 2-4-3-2

..... hava karardı. Gök gürlemeye başladı. yağmur yağdı.

8- Yukarıda boş bırakılan yerlere sırasıyla hangi kelimeler yazılmalıdır?

- A. Önce - sonra
- B. Sonra - önce
- C. İlk - son

- 1- okumayı
- 2- çok
- 3- kitabı
- 4- hikâye
- 5- daha
- 6- seviyor

9- Yukarıda numaralandırılmış kelimelerle anlamlı ve kurallı bir cümle oluşturulduğunda sıralama nasıl olur?

- A. 5 - 2 - 4 - 3 - 1 - 6
- B. 2 - 5 - 6 - 4 - 3 - 1
- C. 5 - 2 - 4 - 1 - 3 - 6

Sevde bir köyde yaşardı. Onun keçileri vardı. Keçilerini çok sevdi. Onları otlatırdı. İçlerinde en çok İnatçı'yı sevdi. O henüz bir yavruydu. Kayaların tepesine çıkar, zıplardı.


10- Aşağıdakilerden hangisi yukarıdaki paragraf ile ilgili değildir?

- A. Sevde'nin keçileri çok sevmesi
- B. Sevde'nin bir şehirde yaşaması
- C. Sevde'nin en çok İnatçı Keçi'yi sevmesi



1- Yandaki sayıda bulunan 5 ve 9 rakamlarının basamak değerleri çarpımı kaçtır?

- A. 45 B. 200 C. 450



2- Yandaki şeklin boyalı kısmını belirtilen kesir aşağıdakilerden hangisidir?

- A. $\frac{6}{6}$ B. $\frac{6}{12}$
C. $\frac{5}{12}$



3- Suat ve Tarık inşaat mühendisidir. Suat 09.00'dan 18.00'e kadar, Tarık ise 07.00'den 17.45'ye kadar çalışmıştır. Suat Tarık'tan ne kadar süre fazla çalışmıştır?

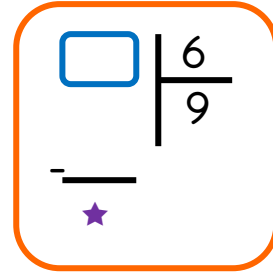
- A. 1 saat 45 dakika
B. 1 saat 15 dakika
C. 2 saat 45 dakika

$$3 \times 9 = \triangle$$

$$\triangle \times 16 = \blacksquare$$

4- Yukarıdaki çarpma işlemlerine göre \blacksquare kaçtır?

- A. 448
B. 442
C. 432



5- Yandaki bölme işleminde bölünen en fazla kaç olabilir?

- A. 54
B. 57
C. 59



6- Annemin yaşı benim yaşımın 4 katından 8 fazladır. Annem 40 yaşında olduğuna göre benim yaşım kaçtır?

- A. 8
B. 9
C. 10



7- Yukarıda yapılan tartımlara göre portakalın kütlesi kaç gramdır?

- A. 110
- B. 115
- C. 120



Bahar kendine yukarıdaki bebeği kardeşi Can'a da arabayı almıştır.

8- Buna göre ödemesi gereken tutar aşağıdaki şıkların hangisinde doğru verilmiştir?

- A.
- B.
- C.



Servet ve Serhat evde film izlerken anneleri bir kutuda 90 adet patlamış mısır vermiştir. 90 adet mısırın $\frac{1}{6}$ 'ini Servet, $\frac{1}{10}$ 'ini Serhat yemiştir.

9- Buna göre geriye kaç mısır kalmıştır?

- A. 66
- B. 58
- C. 42



10- Caner yukarıdaki üç şişedeki sıvıyı kullanıp toplamı 900'den fazla olacak yeni bir karışım elde etmek istemektedir.


Buna göre kaç numaralı şişeyi karışıma kullanamaz?

- A. 1
- B. 2
- C. 3



Bu test 10 sorudan oluşmaktadır.

1- Aşağıdakilerden hangisi canlı değildir?



"Bitkiler de hareket ederler."

2- Bu bilgiye dayanarak bitkilerin hareket şekli aşağıdakilerden hangisi gibi **olamaz**?

- A. Yer değiştirme
- B. Güneşe yönelme
- C. Kökleri ile suya yönelme

Hatice'nin yanından bir köpek havlayarak hızla uzaklaşıyor.

3- Hatice'nin duyacağı havlama sesinin şiddeti aşağıdakilerden hangisi gibi olur?

- A. Gittikçe artar.
- B. Gittikçe azalır.
- C. Değişmez.



Murat

Canlı çeşitlerinden sadece hayvanlar hareket edebilir.

Bitkiler canlı gibi davranan ama canlı olmayan varlıklardır.



Serap



Mehtap

Tüm canlılar beslenmek zorundadır.

4- Yukarıda canlılar ile ilgili bilgi veren öğrencilerden hangileri **yanlış** bilgi vermiştir?

- A. Mehtap - Serap
- B. Serap - Murat
- C. Murat - Mehtap

5- Aşağıdaki varlıkları düşünerek çıkarttıkları seslerden hangisi yapay ses kaynağıdır?





"Dünya yüzeyinde karalardan çok okyanuslar, göller, denizler vardır."

6- Yukarıdaki bilgiye göre Dünya yüzeyindeki maddelerin çoğunluğu hangi hâlde bulunmaktadır?

- A. Katı
- B. Sıvı
- C. Gaz



Soner ve Kerim, uzunluğu 30 m olan bahçede koşu yarışı yapıyorlar. Soner, 30 m'lik yolu 20 sn'de, Kerim ise 18 sn'de koşuyor.

7- Buna göre aşağıdaki yorumlardan hangisi yanlıştır?

- A. Kerim daha hızlıdır.
- B. İkisi de dönme hareket yapmıştır.
- C. Soner daha yavaştır.

D	Y	
		Rüzgar gülleri dönme hareketi yapar.
		Kale direğine çarpıp dönen top yön değiştirme hareketi yapar.
		Bebek arabasını süren anne çekme hareketi yapar

8- Yukarıdaki tabloyu doğru-yanlış etkinliğine göre işaretlediğimizde oluşacak tablo aşağıdakilerin hangisinde doğru verilmiştir?

A.

D	Y
	✓
✓	
	✓

B.

D	Y
✓	
✓	
	✓

C.

D	Y
✓	
	✓
	✓



	Sert	Yumuşak
Sünger	X	
Silgi		X
Tahta		X
Demir	X	

Yukarıdaki tabloyu dolduran Kerem hata yapmıştır.

9- Aşağıdakilerden hangisi yapıldığında Kerem' in hatası düzeltilmiş olur?

- A. Sünger yumuşak, tahta sert olarak işaretlenmelidir.
- B. Sünger yumuşak olarak işaretlenmelidir.
- C. Silgi sert, tahta sert olarak işaretlenmelidir.



Hızlanır.

Saliha

Sallanma hareketi yapar.



Kayra



Yön değiştirir.

Şeyma

10- Havaya atılan bir topun yere düşünceye kadar yaptığı hareketle ilgili bilgi veren öğrencilerden hangisi **yanlış** bir bilgi vermiştir?

- A. Saliha
- B. Kayra
- C. Şeyma



Bu test 10 sorudan oluşmaktadır.



1- Marketten bir paket süt alan Sümeyye aşağıdakilerden hangisi ya da hangilerine dikkat etmelidir?

- 1.Ürünün son kullanma tarihine
- 2.TSE damgası olup olmadığına
3. Ürünün reklamının olup olmadığına

- A) 1-2
B) 1-3
C) Yalnız 3

- ▲ Kişinin yanından uzaklaşmak
- Yüksek sesle bağırarak yardım istemek
- Karşımızdaki kişinin dediklerini yapmak

2- Güvenliğimizi tehdit eden bir kimse olduğunda yukarıdakilerden hangilerini yapmak doğrudur?

- A. ▲ ■
B. ■ ●
C. ▲ ●

3- Aşağıdakilerden hangisi yanlıştır?

- A. Ne olduğunu bilmediğimiz maddeleri koklayarak anlayabiliriz.
B. Kesici aletlerle oynamamalıyız.
C. Yanıcı maddelerle oynamamalıyız.

4- Aşağıdakilerden hangisini kış mevsiminde tüketmek daha sağlıklıdır?



5- Aşağıdakilerden hangisi dengeli beslenen bir kişi için söylenemez?

- A. Sık sık hasta olmayan bir yapıya sahiptir.
B. Kasları normal gelişmiş ve kuvvetlidir.
C. Hareketleri ağırdır ve isteksizdir.



6- Aşağıdakilerden hangisi ihtiyaçtır?



7- Aşağıdakilerden hangisi planlı olmanın faydalarından **değildir**?

- A. Zamanımızı verimli kullanmamızı sağlar.
 B. Başarıya daha rahat ulaşırız.
 C. Daha çabuk büyümemizi sağlar.

- ▲ Güzel şarkı söyleme
- Topluluk önünde güzel konuşma
- Güzel resim yapma

8- Yukarıda verilenlerden hangileri güçlü yönlerdir?

- A. ▲ ●
 B. ● ■ ▲
 C. ■ ●

9- Aşağıdakilerden hangisi güvenlik sektöründe çalışan bir meslek türü **değildir**?

- A. Polis
 B. Jandarma
 C. Avukat

10- Aşağıdakilerden hangisi sosyal dayanışma ve yardımlaşmaya örnek **değildir**?

- A. Tarık'ın arkadaşının isteği olan ve parasını veren arkadaşına kırtasiyeden kalem alması
 B. Esmâ'nın okulda ihtiyaç sahibi çocuklara giyim yardımı yapması
 C. Emrah'ın Türk Kızılay'ına bağış yapması

TEST BİTMİŞTİR.
 YANITLARINIZI KONTROL EDİNİZ.



Bu test 5 sorudan oluşmaktadır.



1- Verilen görsel evin hangi bölümüne aittir?

- A. Kitchen
- B. Bathroom
- C. Bedroom



2- Görsele göre aşağıdaki cümlelerden hangisi doğrudur?

- A) The bus is in the garden.
- B) The car is in the garage.
- C) The car is at the bus stop.



3- Yukarıdaki öğrenciler görselde nereye gitmiş olabilirler?

- A) hospital
- B) zoo
- C) carnival



4- Görseli anlatan seçeneği işaretleyiniz.

- A) a kite
- B) a doll
- C) a teddy bear

He is tired. He



5- Boşluğa ne yazılmalıdır?

- A) can't run.
- B) can play basketball.
- C) can swim.

Sevgili ÖĞRETMEN ve VELİLERİMİZ;
Deneme Sınavına Teşekkür Mahiyetinde
Sosyal Medya Sayfamızı Beğenirseniz
Çok Mutlu Oluruz.

Aşağıdaki Linklerden Bizlere Ulaşabilirsiniz.

www.ilkokulevim.com

www.instagram.com/ilkokulevim

www.facebook.com/ilkokulevim

www.facebook.com/groups/272489210266407/

t.me/ilkokulevim

CEVAP ANAHTARI

TÜRKÇE	MATEMATİK	FEN BİLİMLERİ	HAYAT BİLGİSİ	İNGİLİZCE
1-A	1-C	1-C	1-A	1-A
2-B	2-B	2-A	2-A	2-B
3-C	3-A	3-B	3-A	3-B
4-A	4-C	4-B	4-B	4-A
5-C	5-C	5-A	5-C	5-A
6-B	6-A	6-B	6-A	
7-B	7-B	7-B	7-C	
8-A	8-B	8-B	8-B	
9-A	9-A	9-A	9-C	
10-B	10-A	10-B	10-A	